



BA – AÖL / 2012 – III.DÖNEM - Cumartesi 16.00

ÜÇÜNCÜ OTURUM

TEST GRUBUNUZ

B

CEVAP KÂĞIDINIZA İŞARETLEMİYİ UNUTMAYINIZ.

ÖĞRENCİNİN

SOYADI :

ADI :

ÖĞRENCİ NO :

SINAV SALON NO: SIRA NO:

Soyadınızı, adınızı, öğrenci numaranızı, salon ve sıra numaranızı yukarıya yazmayı unutmayınız.

GENEL AÇIKLAMA

1. Bu soru kitapçığındaki testler şunlardır:

Testin Adı	Soru Sayısı	Sayfa No
DİN KÜLTÜRÜ VE AHLAK BİLGİSİ 4	20	2
FELSEFE 2	20	4
TARİH 4	20	6
TC İNKILÂP TARİHİ VE ATATÜRKÇÜLÜK 2	20	8
MATEMATİK 5	20	11
YABANCI DİL 2 (ALM.2, FRA.2, İNG.2)	20	14
PSİKOLOJİ 1	20	23
YABANCI DİL 5 (ALM.5, FRA.5, İNG.5)	20	25
DİL VE ANLATIM 7	20	34
TÜRK EDEBİYATI 3	20	36
TÜRK EDEBİYATI 8	20	38

Testin Adı	Soru Sayısı	Sayfa No
FİZİK 1	20	40
KİMYA 3	20	43
BİYOLOJİ 4	20	46
MİLLİ GÜVENLİK BİLGİSİ 1	20	48
SAĞLIK BİLGİSİ 2	20	50
GEOMETRİ 3	20	52
SEÇMELİ TARİH 4	20	56
YABANCI DİL 8 (ALM.8, FRA.8, İNG.8)	20	58
SEÇMELİ DİL VE ANLATIM 6	20	67
SEÇMELİ YABANCI DİL 8 (ALM.8, FRA.8, İNG.8)	20	69
SEÇMELİ DİL VE ANLATIM 7	20	78

2. Bu kitapçıkta yer alan her bir test için cevaplama süresi **30 dakika**, toplam sınav süresi **150** dakikadır.
3. Cevaplamaya istediğiniz testin, istediğiniz sorusundan başlayabilirsiniz. Yalnız cevaplarınızı, cevap kâğıdında o test için ayrılmış olan bölümdeki aynı numaralı cevap yerine işaretlemeyi unutmayınız.
4. Cevaplarınızı koyu siyah ve yumuşak bir kurşunkalemle işaretleyiniz. İşaretinizi cevap yerinin dışına taşırmayınız. Tükenmez veya mürekkepli kalem kullanmayınız.
5. Değiştirmek istediğiniz bir cevabı yumuşak bir silgi ile, cevap kâğıdını örselemeden temizce siliniz ve doğru cevabınızı işaretlemeyi unutmayınız.
6. Cevap kâğıdınızı buruşturmayınız, katlamayınız ve üzerine gereksiz hiçbir işaret koymayınız.
7. Bu kitapçıkta her sorunun bir tek doğru cevabı vardır. Bir soru için birden çok cevap yeri işaretlenmişse o soru yanlış cevaplanmış sayılacaktır.
8. Cevaplarınız puanlanırken her doğru cevabınıza eşit puan verilecek, yanlış cevaplarınız dikkate alınmayacaktır. Bu nedenle kitapçıkta tüm sorular için size doğru gelen seçeneği işaretleyerek cevapsız soru bırakmanız yararınıza olacaktır.
9. Kitapçığın sayfalarındaki boş yerleri müsvedde için kullanabilirsiniz.

Anadolu Üniversitesi tarafından hazırlanmış olan bu testlerin her hakkı saklıdır. Hangi amaçla olursa olsun, testlerin tamamının veya bir kısmının Anadolu Üniversitesi'nin yazılı izni olmadan kopya edilmesi, fotoğraflarının çekilmesi, herhangi bir yolla çoğaltılması, yayımlanması ya da kullanılması yasaktır. Bu yasağa uymayanlar gerekli cezai sorumluluğu ve testlerin hazırlanmasındaki mali külfeti peşinen kabullenmiş sayılır.

DİN KÜLTÜRÜ VE AHLAK BİLGİSİ 4

B

2012 3D 0103-B

1. Öğrenme, araştırma gözlem veya deney yoluyla elde edilen, insan zekasının ve çalışmasının sonucu ortaya çıkan ürüne ne ad verilir?

- A) Yöntem
- B) Kalıtım
- C) Yetenek
- D) Beceri
- E) Bilgi

2. Aşağıdakilerden hangisi vatandaşlık görevlerinden biri değildir?

- A) Askere gitmek
- B) Vergi vermek
- C) Seçimlere katılmak
- D) Eğitim görmek
- E) Kanunlara uymak

3. Trigonometri'nin kurucularının en büyüğü kimdir?

- A) El-Battani
- B) Ömer Hayyam
- C) Farabi
- D) Gazali
- E) Biruni

4. Aşağıdakilerden hangisi ekonomik haklardan biri değildir?

- A) Mülkiyet hakkı
- B) Sendika kurma hakkı
- C) Haberleşmenin gizliliği hakkı
- D) Toplu sözleşme ve grev hakkı
- E) Çalışma ve kazanma hakkı

5. "Din lüzumlu bir müessesedir. Dinsiz milletlerin devamına imkan yoktur." sözü kime aittir?

- A) Hz. Ali
- B) Mehmet Akif Ersoy
- C) Yunus Emre
- D) Mustafa Kemal Atatürk
- E) Hz. Muhammed

6. "Birbirinizin gizli ve ayıp hallerini araştırmayınız." ayet'i hangi hakla ilgilidir?

- A) Eğitim
- B) Özel yaşamın gizliliği
- C) Sağlık
- D) Yaşam
- E) Ekonomik

7. 980-1037 yılları arasında yaşamış, yüzü aşkın eseri ile tıp ve felsefe alanı başta olmak üzere pek çok alanda bilime öncülük etmiş ünlü Müslüman tıp bilgini kimdir?

- A) Kindi
- B) İbn-i Rüşd
- C) İbn-i Sina
- D) Battâni
- E) İbnül Avâm

8. Aşağıdakilerden hangisi taassubun zararlarından biri değildir?

- A) Hoşgörü, sevgi, saygı gibi duyguları artırması
- B) Toplumun birlik ve beraberliğini bozması
- C) İnsanları mutsuz ve huzursuz etmesi
- D) Dini istismar etmesi ve yozlaştırması
- E) Bir milletin ilerlemesi ve gelişmesini engellemesi

9. Kişinin kendi inandığı ve gerçek kabul ettiği fikir ve düşüncelere bağlanmak, kendi dışındaki görüşlere söz hakkı tanımamak ve düşmanlık beslemeye ne ad verilir?

- A) Gıybet
- B) Şirk
- C) Tecessüs
- D) Taassup
- E) Menfaat

10. Amerika ve keşfinden önce Antartika'yı gösteren dünya haritasını kim çizmiştir?

- A) Biruni
- B) Barbaros Hayrettin Paşa
- C) Ömer Hayyam
- D) Akşemsettin
- E) Piri Reis

B

2012 3D 0103-B

11. Nilometre'yi (Su seviye ölçer) icad eden bilim insanı aşağıdakilerden hangisidir?

- A) El-Kindi
- B) El-Fergâni
- C) İbn Havkal
- D) İbn ü'l Heyzen
- E) İbn Fimas

12. Aşağıdakilerin hangisinde, Allah'ın ilim sıfatının tanımı verilmiştir?

- A) Allah'ın yaratıcı ve var edici olması
- B) Allah'ın her şeyi görmesi, görmek için ışığa ve göze ihtiyaç duymaması
- C) Allah'ın sınırsız ve aletsiz her şeyi bilmesi
- D) Allah'ın gizli ve açık her şeyi, her yer ve her zamanda işitmesi
- E) Allah'ın her şeye gücünün yetmesi, istediği her şeyi yapması

13. Toplum hayatında kişilerin birbirleriyle ve topluma olan ilişkilerini düzenleyen ve uyulması kanun gücüyle desteklenmiş olan toplumsal kuralların bütününe ne ad verilir?

- A) Örf
- B) Hukuk
- C) Laiklik
- D) Adet
- E) Milliyetçilik

14. Selçuklu veziri Nizamülmülk'ün Bağdat'ta kurduğu Medrese aşağıdakilerden hangisidir?

- A) Nizamiye Medresesi
- B) Gök Medrese
- C) Çift Minareli Medrese
- D) Burûciye Medresesi
- E) İnce Minareli Medrese

15. "İlim Çin'de olsa bile alınız." sözü kime aittir?

- A) Hz. Ali
- B) Mevlâna
- C) Hz. Ebu Bekir
- D) Hz. Ömer
- E) Hz. Muhammed

16. Vahiy kaç şekilde gelir?

- A) 1
- B) 2
- C) 3
- D) 4
- E) 5

17. Atom'un parçalanabileceğini ve parçacıklarının döndüğünü söyleyen ve bunu "Sema" ile sembolize eden ünlü âlim kimdir?

- A) Gazali
- B) Mevlâna
- C) Farabi
- D) İbni Heysem
- E) Ömer Hayam

18. Aşağıdakilerden hangisi kötü alışkanlıklardan biri değildir?

- A) Uyuşturucu kullanmak
- B) Alkol almak
- C) Kumar oynamak
- D) Spor yapmak
- E) Sigara içmek

19. Önceleri okuma-yazma öğretiminin verildiği mektep görevini üstlenirken, sonraları çocuklara medrese öncesi eğitim veren ilk mektep olan eğitim kurumu aşağıdakilerden hangisidir?

- A) Suffa
- B) Rasathane
- C) Beytül hikme
- D) Camii
- E) Küttap

20. Atatürk'e göre hiçbir kuvvetin Türk Milleti'nin kalbinden çıkaramayacağı iki fazilet aşağıdakilerin hangisinde birlikte verilmiştir?

- A) Dil ve özgürlük
- B) Din ve vicdan
- C) Din ve dil
- D) Dil ve tarih
- E) Din ve özgürlük

FELSEFE 2

B

2012 3D 0103-B

1. Aşağıdakilerden hangisi din felsefesinin temel kavramlarından biri değildir?

- A) İman
- B) İbadet
- C) Kutsal
- D) Vahiy
- E) Ahlak

2. "Anarşizm" akımının kurucusu aşağıdakilerden hangisidir?

- A) Proudhon
- B) Kropotkin
- C) Stimer
- D) Nietzsche
- E) Bakunin

3. "İnsan ahlaki eylemlerinde yalnızca kendi hazzını, yararını ve mutluluğunu değil, başka insanların yararını ve mutluluğunu da düşünmek durumundadır. Çünkü toplumun mutluluğu sağlandığında birey de mutluluğa ulaşır" görüşünü savunan düşünür aşağıdakilerden hangisidir?

- A) J.S. Mill
- B) K. Marx
- C) T. Hobbes
- D) F. Bacon
- E) M. Weber

4. "Yeni Dünya" adlı eser aşağıdaki düşünürlerden hangisine aittir?

- A) G. Orwell
- B) W. James
- C) T. More
- D) A. Huxley
- E) T. Campanella

5. Bireyin iyi ve doğru eylemlerde bulunmaya mizaç, eğitim ve moral olgunluk açısından yatkın olma durumuna ne ad verilir?

- A) Sorumluluk
- B) Vicdan
- C) Erdem
- D) Özgürlük
- E) Etik

6. "Evrensel ahlak yasasını belirleyen en önemli öge insanın, kendisinin de bir parçası olduğu doğa düzenini anlayarak ve bu bilgiye dayanarak ahlaki bir biçimde davranmasıdır" diyen düşünür aşağıdakilerden hangisidir?

- A) Aristoteles
- B) Spinoza
- C) Demokritos
- D) Hegel
- E) Kant

7. "Erdemli Toplum" adlı eserinde erdemli bir toplumun erdemli, bilgili yöneticiler eliyle oluşturulabileceğini savunan düşünür aşağıdakilerden hangisidir?

- A) Gazali
- B) Farabi
- C) Ahmet Yesevi
- D) Fuzuli
- E) Ömer Hayyam

8. Yaşadığı dönemin İtalya'sındaki aksaklıklardan yola çıkarak "Güneş Ülkesi" adını verdiği ideal bir toplum düzeni tasarlayan düşünür aşağıdakilerden hangisidir?

- A) Hegel
- B) Bacon
- C) Mill
- D) Bentham
- E) Campanella

9. "Her insan idealar dünyasına yönelmeli ve eylemlerini iyi ideasına uydurmalıdır" diyen düşünür aşağıdakilerden hangisidir?

- A) Heraklitos
- B) Platon
- C) Aristoteles
- D) Descartes
- E) Demokritos

10. Güzelliği ve güzel sanatların doğasını inceleyen felsefe dalı aşağıdakilerden hangisidir?

- A) Haz
- B) Yaratım
- C) Etik
- D) Estetik
- E) Zanaat

B

2012 3D 0103-B

11. "Varolan her şeyin bir yaratıcısı olduğuna, bu yaratıcının mutlak ve sınırsız bir bilgi ve güce sahip olduğuna sarsılmaz bir inanç beslemek" aşağıdakilerden hangisini açıklamaktadır?

- A) Teizm
- B) Ateizm
- C) Deizm
- D) Agnostisizm
- E) Panteizm

12. İdeal bir toplum düzeni tasarlayan ilk filozof aşağıdakilerden hangisidir?

- A) Spinoza
- B) Aristoteles
- C) Farabi
- D) Kant
- E) Platon

13. Aşağıdakilerden hangisi din felsefesinin yanıtlamaya çalıştığı sorulardan biri değildir?

- A) Tanrının varlığı
- B) Vahyin olanaklılığı
- C) Evrenin yaratılışı
- D) Güzel ahlak
- E) Ruhun ölümsüzlüğü

14. I. Kişisel haklar
II. Toplumsal ve ekonomik haklar
III. Siyasi haklar

Yukarıdakilerden hangileri bireyin temel haklarındandır?

- A) Yalnız I
- B) Yalnız II
- C) I ve II
- D) II ve III
- E) I, II ve III

15. Aşağıdakilerden hangisi, toplumlarda siyasi iktidarın olası kaynaklarından biri değildir?

- A) Birlikte yaşama isteği
- B) İçten gelebilecek tehlikelere karşı korunma düşüncesi
- C) Olumsuz coğrafi koşullar
- D) Dıştan gelebilecek tehlikelere karşı korunma düşüncesi
- E) Egemen din anlayışı

16. "İnsanı insan yapan öz onun ruhudur. Ruh, yüce değerlerin ve asıl varlığın çıkmış olduğu köktür. Ruhun özü ise gönüldür. Gönül'ün özü ise sevgidir."

Yukarıdaki görüş hangi ünlü mutasavvıfa aittir?

- A) Ahmet Yesevi
- B) Yunus Emre
- C) Mevlâna
- D) Hacı Bektaş Veli
- E) İbn-i Haldun

17. Din ile felsefeyi birbirinden ayırarak ele alan ilk düşünür aşağıdakilerden hangisidir?

- A) I. Kant
- B) A. Huxley
- C) J.P. Sartre
- D) T. More
- E) G. Orwel

18. "Mesnevi" adlı eserin sahibi aşağıdakilerden hangisidir?

- A) Kaşgarlı Mahmut
- B) Edip Ahmet
- C) Mevlana
- D) Yusuf Has Hacib
- E) Ahmet Yesevi

19. "Ahlak yasasını, tanrı ve insan sevgisiyle temellendiren bu çerçevede insanların eşitliğini ve kardeşliğini savunan, iyilik, sevgi, çalışkanlık ve dürüstlüğü ahlaki değer olarak benimseyen düşünür" aşağıdakilerden hangisidir?

- A) Pir Sultan Abdal
- B) Hoca Ahmet Yesevi
- C) Hacı Bektaş Veli
- D) Yunus Emre
- E) Mevlana

20. "Siyaset hem bir çatışma ve iktidar kavgası hem de toplumun tüm üyelerinin yararına olabilecek bir düzen yaratma aracıdır" diyen siyaset bilimci aşağıdakilerden hangisidir?

- A) B. Daver
- B) S. Dali
- C) A. Baumgarten
- D) M. Duverger
- E) A. Smith

TARİH 4

B

2012 3D 0103-B

1. Osmanlı Devleti'nde, devletin iç ve dış işlerini yürüten, en üst yönetim ve yargı kuruluşuna ne ad verilir?

A) Divanı Hümayûn
B) Dersaadet
C) Âsitane
D) Darülmülk
E) İslambol

2. II. Murat zamanında temeli atılan Enderun Mektebi tam anlamıyla aşağıdakilerden hangisi tarafından kurulmuştur?

A) Süleyman
B) IV. Murat
C) Fatih
D) II. Mahmud
E) I. Beyazıt

3. Sarayda, padişahın özel hayatını geçirdiği bölüme ne ad verilir?

A) Bâbüs-Saade
B) Arz odası
C) Bîrûn
D) Enderun
E) Has oda

4. I. Devleti Ebed Müddet
II. Halifei Rûyi Zemin
III. Devleti Alîyye

Osmanlı yöneticileri ve toplum tarafından devletin sonsuza kadar yaşayacağına inanılması sebebiyle devlete yukarıdaki sıfatlardan hangileri verilmiştir?

A) Yalnız I
B) Yalnız II
C) I ve II
D) I ve III
E) I, II ve III

5. Aşağıdakilerden hangisi Osmanlı toplum düzeni ve yönetim felsefesi bakımından önemli olan dayanaklardan biri değildir?

A) Halkın bolluk ve huzur içinde yaşamasının adaletle yönetilmesine bağlı olması
B) Ordunun beslenmesi için servet gerekmesi
C) Servetin sağlanabilmesi için bolluk ve huzur içinde yaşayan halka sahip olunması
D) Dünya barışının adaletle sağlanabilmesi
E) Devlet düzeninin laiklik ilkesine dayandırılması

6. İlk Osmanlı medresesinin 1331 yılında nerede ve kim tarafından açıldığı aşağıdakilerden hangisinde sırasıyla ve birlikte verilmiştir?

A) Bilecik, I. Beyazıt
B) Konya, I. Beyazıt
C) İznik, Orhan Bey
D) Söğüt, Osman Bey
E) Bursa, Orhan Bey

7. Kapıkulu arasında en önemli grup aşağıdakilerden hangisidir?

A) Mütferrikalar
B) Yeniçeriler
C) Mehterler
D) Altı bölük halkı
E) Topçular, cebeciler

8. Padişahın camiye gidip, orada namaz kılıp hutbe dinlemesine ve saraya dönmesi törenine ne ad verilir?

A) Saray töreni
B) Ümera
C) Ehli örf
D) Kethüda
E) Selamlık

9. Osmanlı Devleti'nde açılan ilk banka aşağıdakilerden hangisidir?

A) Bank-ı Dersaadet
B) Bank-ı Osmani
C) Ziraat Bankası
D) İtibar-ı Milli Bankası
E) Sümerbank

10. Aşağıdakilerden hangisi XVI. Yüzyılda Takiyü'ttin Mehmet tarafından 1578 yılında İstanbul'da kurulmuş, ancak Şeyhülislamın fetvasıyla yıktırılmıştır?

A) Rasathane
B) Süleymaniye külliyesi
C) Sahn-ı seman medreseleri
D) Kemalpaşazade imarethanesi
E) Ali Kuşçu kütüphanesi

11. Aşağıdakilerden hangisi Fatih Sultan Mehmet tarafından yaptırılan Fatih külliyesinin içinde yer almaz?

A) Tıp medresesi
B) Camii
C) İmaret
D) Kervansaray
E) Kütüphane

B

2012 3D 0103-B

12. Aşağıdakilerden hangisi Osmanlı Devleti'nin Avrupa'daki Sanayi İnkılabı'nın etkilerinden kurtulmak için aldığı önlemlerden biri değildir?

- A) 1840'ta Hereke Dokuma Fabrikası'nın açılması
- B) Kapitülasyonların kaldırılması
- C) 1860'lı yıllarda Islah-ı Sanayi Komisyonu'nun kurulması
- D) II. Mahmut'un Müslüman tüccarlara hukuk, ticaret ve vergi yönünden imtiyazlar sağlaması
- E) 1835'te İstanbul'da Feshane adıyla bir imalathane açılması

13. Aşağıdaki antlaşmalardan hangisinden sonra Osmanlı Devleti Avrupalı tüccarların açık pazarı durumuna gelmiştir?

- A) Pasarofça
- B) Balta Limanı
- C) Kasr-ı Şirin
- D) Karlofça
- E) Bucaş

14. Askeri sınıfın reâyâdan farkı aşağıdakilerden hangisidir?

- A) Devlete karşılıksız hizmet vermesi
- B) Temel görevlerinin halkın refahını sağlamak olması
- C) Vergi vermemesi ve devletten maaş alması
- D) Padişahın güç ve otoritesini temsil etmesi
- E) Güveni temin ederken kadı ile işbirliği yapması

15. Aşağıdakilerden hangisi Tanzimat'tan itibaren çağdaş toplumun özelliklerinden olan çeşitli düşünce akımlarının temellerinin atıldığı dönemin başlıca düşünce adamlarından biri değildir?

- A) Münif Paşa
- B) Ali Suavi
- C) Yahya Bey
- D) Şinasi
- E) Prens Sabahattin

16. İslam dininin esaslarını ve emrettiği dünya nizamını bilen ve onun uygulanmasıyla yükümlü bulunanlar askeri sınıfın hangi zümresini tanımlamaktadır?

- A) İlmiye
- B) Ehl-i şer
- C) Ehl-i örf
- D) Ehl-i seyf
- E) Tedris

- 17. I. Dindâr itaatkâr olan ideal insan tipini yetiştirmek
- II. Kişilere geçerli bilgileri ve değerleri aktarmak
- III. Hedeflenen amaçları gerçekleştirmek için kurulmuş olan kurumlar ile eğitim ve öğretim yapmak

Osmanlı Devleti'nin eğitim işlevleri yukarıdakilerden hangileridir?

- A) Yalnız I
- B) Yalnız II
- C) I ve II
- D) II ve III
- E) I, II ve III

- 18. I. Bâb-ı Ali Mektebi
- II. Bâb-ı Defterdarı Mektebi
- III. Bâb-ı Fetva Mektebi

Yukarıdakilerden hangileri Enderun dışındaki eğitim ve öğretim kurumlarıdır?

- A) Yalnız I
- B) Yalnız II
- C) I ve II
- D) II ve III
- E) I, II ve III

19. Osmanlı çini sanatının en gelişmiş olduğu dönem aşağıdakilerden hangisidir?

- A) X.
- B) XII.
- C) XIV.
- D) XVI.
- E) XVII.

20. Bir ülkede üretim, dağıtım ve tüketim ilişkilerinin tümüne birden ne ad verilir?

- A) Üretim faktörleri
- B) Kaynaklar
- C) Bütçe
- D) Beşeri sermaye
- E) Ekonomi

TÜRKİYE CUMHURİYETİ İNKILÂP TARİHİ VE ATATÜRKÇÜLÜK 2

B

2012 3D 0103-B

1. Ordunun beslenme, barınma, silah, araç-gereç ihtiyacını karşılamak ve vatandaşların askerlik görevlerini düzenlemek aşağıdakilerden hangisinin görevidir?

A) Genelkurmay Başkanlığı
B) İçişleri Bakanlığı
C) Milli Savunma Bakanlığı
D) Başbakanlık Genel Kurulu
E) Türkiye Büyük Millet Meclisi

2. Kurtuluş Savaşı'nın en bunalımlı günlerinde Ankara'da "Maarif Kongresi"nin toplanması aşağıdakilerden hangisine verilen önemi anlatır?

A) Ekonomi
B) Ticaret
C) Sanayi
D) Tarım
E) Eğitim

3. Hatay'ın Türkiye Cumhuriyeti'ne katılması sürecinde Fransa başlangıçta karşı olsa da daha sonradan Türkiye'nin isteklerine boyun eğmesinin başlıca nedeni aşağıdakilerden hangisidir?

A) Türk ordusunun Hatay sınırına gelerek Fransa'ya göz dağı vermesi
B) 1939 Martından itibaren Avrupa'da II. Dünya Savaşı'na neden olacak tehlikeli gelişmelerin olması.
C) Hatay Cumhuriyeti'nin bağımsız kalmak yerine Türkiye'ye katılmak istemesi
D) Cemiyeti Akvam'da Türkiye'nin Almanya ve İtalya'nın desteğini alarak Fransa üzerinde baskı kurması
E) Cemiyeti Akvam'ın Türkiye lehinde karar vermesi

4. NATO (Kuzey Atlantik İttifak)'da üye ülkelerin dışişleri bakanlarından oluşan, ittifakın en yetkili organı aşağıdakilerden hangisidir?

A) NATO Sekreterliği
B) NATO Asamblesi
C) NATO Konseyi
D) NATO Savunma Planlama Komitesi
E) NATO Askeri Komitesi

5. Yabancı okullarda bazı derslerin Türk öğretmenler tarafından okutulması ve Türk müfettişler tarafından denetlenmesi esası, hangi antlaşmadaki bir yönetmelikle tespit edilmiştir?

A) Berlin Antlaşması
B) Mondros Ateşkes Antlaşması
C) Montrö Sözleşmesi
D) Lozan Antlaşması
E) Ankara Antlaşması

6. Atatürk'ün geçici kabri nerede hazırlanmıştır?

A) Etnografya Müzesi
B) Topkapı Müzesi
C) Dolmabahçe Sarayı
D) Beylerbeyi Sarayı
E) Anıtkabir

7. I. Siyasi Güç
II. Polis Gücü
III. Askeri Güç
IV. Ekonomik Güç
V. Deniz Gücü

Yukarıdakilerden hangileri Atatürkçü düşünce sisteminde milli güç unsurlarındandır?

A) I, II ve IV
B) I, III ve IV
C) II, III ve V
D) II, IV ve V
E) III, IV ve V

B

2012 3D 0103-B

8. 4-11 Şubat arasında yapılan Yalta Konferansı'na katılan devletler aşağıdakilerden hangisinde bir arada verilmiştir?

- A) Fransa - Almanya - İngiltere
- B) ABD - İngiltere - Fransa
- C) İtalya - Rusya - Çin
- D) Almanya - İtalya - Rusya
- E) İngiltere - ABD - Sovyetler Birliği

- 9. I. Kadınlara istediği mesleği seçme hakkı verilmiştir.
- II. Tevhid-i Tedrisat Kanunu çıkartılmıştır.
- III. Miladî Takvim kabul edilmiştir.

Cumhuriyet döneminde; yukarıdaki inkılaplar sırasıyla hangi alanlarda yapılmıştır?

- A) Hukuk-Eğitim-Toplumsal
- B) Toplumsal-Eğitim-Ekonomi
- C) Hukuk-Toplumsal-Ekonomi
- D) Toplumsal-Eğitim-Hukuk
- E) Hukuk-Ekonomi-Eğitim

10. Türkiye'nin NATO (Kuzey Atlantik İttifakı)'ya katılmak istemesinin en önemli nedeni aşağıdakilerden hangisidir?

- A) Ordusunu günün şartlarına uygun olarak yenilemek istemesi
- B) İngiltere tarafından kurulan Orta Doğu Komutanlığı'nın başına geçmek istemesi
- C) Kore Savaşı'na katılmak istemesi
- D) Yunanistan'ın saldırgan tutumuna karşı askeri gücünü artırmak istemesi
- E) Sovyetler Birliği'nin tehditleri

11. Sovyetler Birliği'nin Avrupa'daki tehdit ve yayılmasına karşı İngiltere, Fransa, Belçika, Hollanda ve Lüksemburg arasında Mart 1948'de oluşturulmuş ilk askeri ittifak aşağıdakilerden hangisidir?

- A) NATO (Kuzey Atlantik İttifakı)
- B) Batı Avrupa Birliği
- C) Doğu Avrupa İttifakı
- D) Doğu Avrupa Birliği
- E) Kuzey Avrupa Savunma Birliği

12. Türk kadınına seçme ve seçilme hakkı hangi tarihte verilmiştir?

- A) 1923
- B) 1924
- C) 1930
- D) 1934
- E) 1950

13. Aşağıdakilerden hangisi Montrö Boğazlar Sözleşmesi'nin şartlarından biri değildir?

- A) Boğazlar komisyonunun kaldırılması
- B) Ticaret gemilerinin, Türk denetimi altında her zaman geçebilmesi
- C) Yabancı savaş gemilerinin boğazlardan geçişlerinin sınırlandırılması
- D) Türkiye'nin, boğazlarda istediği kadar asker bulundurmasının kabul edilmesi
- E) Sözleşmenin, 10 yıl süreyle yürürlükte kalması

14. Tevhid-i Tedrisat Kanunu' nun açıklaması aşağıdakilerden hangisidir?

- A) Eğitim Politikası
- B) Yeni Tarih Anlayışı
- C) Öğretim Birliği
- D) Kültür Birliği
- E) Dil Birliği

15. Türkiye Cumhuriyeti'nin ilk başbakanı kimdir?

- A) Abdülhalik Renda
- B) İsmet İnönü
- C) Mustafa Kemal Atatürk
- D) Celal Bayar
- E) Fevzi Çakmak

2012 3D 0103-B

16. Türkler aşağıdaki alfabelerden hangisini kullanmamışlardır?

- A) Japon alfabesi
- B) Latin alfabesi
- C) Arap alfabesi
- D) Göktürk alfabesi
- E) Uygur alfabesi

17. II. Dünya Savaşı'nın sonuçları ile ilgili aşağıdaki ifadelerden hangisi yanlıştır?

- A) Savaştan sona Sovyetler Birliği'nin izlediği yayılmacı politikayı önlemek için NATO (Kuzey Atlantik İttifakı) kuruldu.
- B) ABD ve Sovyetler Birliği iki önemli güç olarak dünya siyasetinde etkili hale geldiler.
- C) Almanya Doğu ve Batı olmak üzere ikiye ayrıldı.
- D) Savaş Mihver Devletleri'nin başarısı ile sonuçlandı.
- E) Dünya barışını sağlamakta başarılı olamayan Milletler Cemiyeti yerine Birleşmiş Milletler Teşkilatı kuruldu.

18. Mustafa Kemal Atatürk döneminin temel hedeflerinden biri sanayi kuruluşlarına öncelik vermektir. Ancak halkın elinde bu amaç için yeterli sermaye yoktu. Bu durum aşağıdaki ilkelerden hangisini zorunlu kılmıştır?

- A) Laiklik
- B) Halkçılık
- C) Devletçilik
- D) Cumhuriyetçilik
- E) İnkılâpçılık

19. Toplumda hiç kimsenin diğerlerinden üstün olmadığını, kanun önünde eşit olduğunu savunan ilke aşağıdakilerden hangisidir?

- A) Cumhuriyetçilik
- B) İnkılâpçılık
- C) Devletçilik
- D) Halkçılık
- E) Milliyetçilik

20. Aşağıdaki yeniliklerden hangisi milletlerarası ticari ilişkilerde kolaylık sağlanması amacıyla yapılmıştır?

- A) Ölçü birimlerinin değiştirilmesi
- B) Soyadı Kanunu'nun kabulü
- C) İzmir İktisat Kongresi'nin toplanması
- D) Türkiye İş Bankası'nın kurulması
- E) Toprak reformu yapılması

MATEMATİK 5

B

2012 3D 0103-B

1. Aşağıdaki eşitliklerden hangisi yanlıştır?

- A) $\sqrt{-16} = 4i$
- B) $\sqrt{-9} = 3i$
- C) $\sqrt{-2} = 2i$
- D) $\sqrt{-1} = i$
- E) $\sqrt{4} = 2$

2. $-7i$ karmaşık sayısının eşleniği aşağıdakilerden hangisidir?

- A) -7
- B) $\frac{1}{7}i$
- C) 7
- D) $\sqrt{7}$
- E) $7i$

3. $z_1 = 3 + 4i$ ve $z_2 = -2 + 3i$ ise, $z_1 - z_2$ sayısı aşağıdakilerden hangisidir?

- A) $1 + i$
- B) $1 + 7i$
- C) $5 - 7i$
- D) $5 + i$
- E) $6 + 8i$

4. $z = (4i+5)i + (3-i)^2 + 9i - 13$ karmaşık sayısının sanal kısmı aşağıdakilerden hangisidir?

- A) -9
- B) -8
- C) 7
- D) 8
- E) 9

5. $\log \frac{1}{2} + \log \frac{2}{3} + \log \frac{3}{4} + \dots \log \frac{9}{10}$

işleminin sonucu kaçtır?

- A) -2
- B) -1
- C) 0
- D) 1
- E) 2

6. $Z = \sqrt{3} + i$ sayısının kareköklerinden biri aşağıdakilerden hangisidir?

- A) $9(\cos 45^\circ + i \sin 45^\circ)$
- B) $2(\cos 90^\circ + i \sin 90^\circ)$
- C) $\sqrt{3}(\cos 10^\circ + i \sin 10^\circ)$
- D) $\sqrt{2}(\cos 15^\circ + i \sin 15^\circ)$
- E) $(\cos 30^\circ + i \sin 30^\circ)$

7. Karmaşık düzlemde $-3 - 4i$ sayısının orijine olan uzaklığı kaç birimdir?

- A) $\sqrt{5}$
- B) $\sqrt{7}$
- C) 5
- D) 7
- E) 9

B

2012 3D 0103-B

8. $P(x) = x^{283} - 3x^{62} + 4x^9$ polinomu veriliyor.
 $P(i) = ?$

- A) $-4i + 1$
 B) $-i - 3$
 C) $i + 2$
 D) $2i - 5$
 E) $3i + 3$

9. $\frac{5 - \sqrt{3}i}{3 + 2\sqrt{3}i}$ işleminin sonucu aşağıdakilerden hangisidir?

- A) $\frac{7 - 13\sqrt{3}i}{24}$
 B) $\frac{9 - 13\sqrt{3}i}{21}$
 C) $\frac{9 + 7\sqrt{3}i}{21}$
 D) $\frac{21 - 7\sqrt{3}i}{29}$
 E) $\frac{25 + 13\sqrt{3}i}{29}$

10. $z_1 = (3x + 1) - 8i$ ve $z_2 = 13 + (2y - 6)i$ karmaşık sayıları veriliyor.

$z_1 = z_2$ olduğuna göre, x ve y nin değerleri aşağıdakilerden hangisidir?

- | | x | y |
|----|-----|-----|
| A) | -4 | 1 |
| B) | -2 | 1 |
| C) | 2 | -1 |
| D) | 4 | -2 |
| E) | 4 | -1 |

11. $z = 3 \cdot (\cos 940^\circ + i \sin 940^\circ)$ karmaşık sayısının esas argümenti kaçtır?

- A) 90°
 B) 140°
 C) 180°
 D) 220°
 E) 240°

12. $27^{1-x} = \left(\frac{1}{3}\right)^{5-x}$ ise, x aşağıdakilerden hangisidir?

- A) -4
 B) $-\frac{1}{3}$
 C) 0
 D) 1
 E) 2

13. $\log_2 6 \cdot \log_5 7 \cdot \log_7 4$ ifadesi aşağıdakilerden hangisine eşittir?

- A) $\log_5 4$
 B) $2 \cdot \log_5 6$
 C) $3 \cdot \log_2 5$
 D) $4 \cdot \log_5 3$
 E) $7 \cdot \log_2 6$

14. $4^{-3} = \frac{1}{64}$ eşitliğinin, logaritmik ifade olarak yazılışı aşağıdakilerden hangisidir?

- A) $\log_4 \frac{1}{64} = -3$
 B) $\log_3 4 = \frac{1}{64}$
 C) $\log_4 3 = 64$
 D) $-3 \log \frac{1}{64} = 4$
 E) $\log_4 2 = 16$

2012 3D 0103-B

15. $2^{3+\log_2 x} = 48$ eşitliğini sağlayan x sayısı kaçtır?

A) 16
B) 12
C) 8
D) 6
E) 4

16. $\log_2 (\log_3 27) = \log_4 x$ eşitliğini sağlayan x sayısı kaçtır?

A) 3
B) 9
C) 12
D) 16
E) 21

17. $\log 264 = a$, $\log 2 = b$ ve $\log 3 = c$ eşitlikleri veriliyor.

Buna göre, $\log 11$ in değeri aşağıdakilerden hangisidir?

A) $a-3b-c$
B) $a+b-2c$
C) $a+b+c$
D) $2a+b-c$
E) $3a-2b+c$

18. $3\log_2 \left(\sin \frac{\pi}{6} \right) : \log_3 \left(\cot \frac{\pi}{3} \right)$ işleminin sonucu kaçtır?

A) -3
B) $-\frac{1}{2}$
C) 1
D) 4
E) 6

19. $f(x) = \log_4 (x^2 + x - 2)$ kuralıyla tanımlanan f fonksiyonunun tanımlı olduğu x gerçel sayılarının kümesi aşağıdakilerden hangisidir?

A) $\mathbb{R} - [-3, 2]$
B) $\mathbb{R} - [-2, 1]$
C) $(-2, 5)$
D) $(-4, 2)$
E) $(3, \infty)$

20. $\sqrt{e^{\ln 4} + 10^{\log 21}}$ ifadesinin değeri aşağıdakilerden hangisidir?

A) 2
B) 3
C) 4
D) 5
E) 6

ALMANCA 2

B

2012 3D 0103-B

Bu testin cevaplarını, cevap anahtarında
YABANCI DİL 2 sütununa işaretleyiniz.

1. Petra nach Hause kam, war sie sehr müde.

Welches Wort paßt in die obige Lücke?

Cümlede boş bırakılan yeri aşağıdakilerden hangisi doğru şekilde tamamlar?

- A) Seit
- B) Und
- C) Weil
- D) Als
- E) Immer

2. In Ankara regnet es viel. In Bursa regnet es und in Trabzon regnet es am meisten.

Welches Wort paßt in die obige Lücke?

Cümlede boş bırakılan yeri aşağıdakilerden hangisi doğru şekilde tamamlar?

- A) mehrer
- B) vieler
- C) viele
- D) meistens
- E) mehr

3. Ich war sehr müde, als ich gestern abend von der Arbeit kam.

Wie lautet der obige Satz auf türkisch?

Verilen cümlelerin Türkçesi aşağıdakilerden hangisidir?

- A) Dün evde akşam olunca çok yoruldum.
- B) Dün akşam erken uyudum, çünkü yorgundum.
- C) Akşam eve geldikten sonra yoruldum.
- D) Dün akşam işten eve geldiğimde çok yorgundum.
- E) Yorgun olduğum dün akşam eve geç geldim.

4. Meine Tochter fragt,

Welches ergänzt die Lücke im obigen Satz?

Verilen cümleyi aşağıdakilerden hangisi tamamlar?

- A) besuchte ich immer meine Tante.
- B) um viele Fremdsprachen zu sprechen.
- C) ob ich nicht mit ihr spielen kann.
- D) mache meinen Kindern ein Geschenk.
- E) daß wußte ich auch nicht.

5. Die / schmeckt / gut / Torte / dem / Mädchen

Wie kann man mit den obigen Wortgruppen einen vollständigen Satz bilden?

Verilen sözcük gruplarıyla kurulabilecek en anlamlı ve doğru cümle aşağıdakilerden hangisidir?

- A) Die Torte dem Mädchen schmeckt gut.
- B) Schmeckt dem Torte die Mädchen gut.
- C) Die Torte schmeckt dem Mädchen gut.
- D) Die Torte gut dem Mädchen schmeckt.
- E) Die Mädchen schmeckt dem Torte gut.

6. Die Sonne geht

Welches Wort paßt in die obige Lücke?

Cümlede boş bırakılan yeri aşağıdakilerden hangisi doğru şekilde tamamlar?

- A) aus
- B) auf
- C) zu
- D) ab
- E) an

7. ZDF ist ein Fernsehsender. Ich mag den Sender nicht.

Wie kann man die obigen Sätze verbinden?

Verilen cümlelerin birleştirilmiş hali aşağıdakilerden hangisidir?

- A) ZDF ist der neue Sender.
- B) Den Fernsehsender ZDF sehe ich oft.
- C) Diesen Sender, der ZDF heißt, kennen alle.
- D) Den Sender, der neu ist, mögen wir nicht.
- E) ZDF ist ein Fernsehsender, den ich nicht mag.

B

2012 3D 0103-B

8. A: Möchten Sie die rot..... Bluse anprobieren?
B: Nein, die gelb..... Bluse gefällt mir besser.

Welche Endungen passen in die obigen Lücke im obigen Dialog?

Verilen karşılıklı konuşmada boş bırakılan yerleri aşağıdaki soneklerden hangisi doğru şekilde tamamlar?

- A) -e / -e
B) -en / -en
C) -es / -es
D) -er / -er
E) -e / -en

9. Ich lerne deutsch, weil ich in Deutschland studieren möchte.

Welche Frage paßt zur obigen Antwort?

Verilen cevabı gerektirecek soru aşağıdakilerden hangisidir?

- A) Wozu lernen Sie deutsch?
B) Sprechen Sie deutsch?
C) Was sind Sie von Beruf?
D) Wo haben Sie deutsch gelernt?
E) Seit wann sprechen Sie deutsch?

10. Weil ich einen Kredit brauche.

Welche Frage paßt zur obigen Antwort?

Verilen cevabı gerektirecek soru aşağıdakilerden hangisidir?

- A) Wozu lernst du immer Deutsch?
B) Warum holst du dir Angebote von der Bausparkasse und der Bank?
C) Woher hast du das Geld für dein Ferienhaus an der Nordsee?
D) Wie kommt man von hier direkt zur Bank?
E) Wann willst du dir ein neues Haus kaufen?

11. Eğer zaman kalırsa!

Wie lautet der obige Satz auf deutsch?

Verilen cümlelerin Almancası aşağıdakilerden hangisidir?

- A) Ob ich wohl noch Zeit hätte!
B) Damit ich Zeit dafür finden kann!
C) Daß heißt, ich habe viel Zeit übrig!
D) Weil ich viel Zeit übrig habe!
E) Wenn noch Zeit übrigbleibt!

12. Das sind die Kinder, ich Eis gekauft habe.

Welches Wort paßt in die obige Lücke?

Cümlede boş bırakılan yeri aşağıdakilerden hangisi doğru şekilde tamamlar?

- A) denen
B) dessen
C) deren
D) diesen
E) dieses

13. Wahrscheinlich meine Mutter mich vom Bahnhof abholen.

Welches Wort paßt in die obige Lücke?

Cümlede boş bırakılan yeri aşağıdakilerden hangisi doğru şekilde tamamlar?

- A) werden
B) wird
C) werde
D) würde
E) wirst

14. Wie heißt der Junge, du deine Bücher gibst?

Welches Wort paßt in die obige Lücke?

Cümlede boş bırakılan yeri aşağıdakilerden hangisi doğru şekilde tamamlar?

- A) dem
B) der
C) das
D) den
E) die

15. Was willst du trinken? Tee Kaffee?

Welches Wort paßt in die obige Lücke?

Cümlede boş bırakılan yeri aşağıdakilerden hangisi doğru şekilde tamamlar?

- A) und
B) aber
C) oder
D) denn
E) damit

2012 3D 0103-B

16. Die Frau dankt dem Mann.

Welche Frage paßt zur obigen Antwort?

Verilen cevabı gerektirecek soru aşağıdakilerden hangisidir?

- A) Wo ist die Frau?
- B) Wer ist der Mann?
- C) Wie geht es der Frau?
- D) Wem dankt die Frau?
- E) Was macht der Mann?

17. Wenn noch Zeit übrig bleibt, können wir ins Theater gehen.

Wie lautet der obige Satz auf türkisch?

Verilen cümlelerin Türkçesi aşağıdakilerden hangisidir?

- A) Tiyatro için çok zamana ihtiyacımız var.
- B) Tiyatroya gidebilmek için zamanımız kısıtlı.
- C) Eğer istersen tiyatroya gidebiliriz.
- D) Zamanımız olmadığı için tiyatroya gidemeyiz.
- E) Eğer zaman kalırsa tiyatroya gidebiliriz.

18. Wann ihr eure Hausaufgaben

Welche Wörter passen in die obigen Lücken?

Cümlede boş bırakılan yerleri aşağıdakilerden hangileri doğru şekilde tamamlar?

- A) wird / macht
- B) wird / seien
- C) werden / machten
- D) werdet / machen
- E) werdet / seien

19. Wie bedeutet das Wort "yapı tasarruf kurumu" auf deutsch?

"yapı tasarruf kurumu" sözcüğünün Almançası aşağıdakilerden hangisidir?

- A) Die Kreditkasse
- B) Die Zinslaufzeit
- C) Die Bausparkasse
- D) Die Ansparungskasse
- E) Die Bauangebote

20. Er hat sich neue Bücher ausgeliehen,
.....

Welches ergänzt die Lücke im obigen Satz?

Verilen cümleyi aşağıdakilerden hangisi tamamlar?

- A) denn er hat Hunger.
- B) die er heute Abend lesen wird.
- C) du kannst auch mitkommen.
- D) deren Freunde heute kommen.
- E) denen Freunde treffen sich heute.

FRANSIZCA 2

B

2012 3D 0103-B

Bu testin cevaplarını, cevap anahtarında
YABANCI DİL 2 sütununa işaretleyiniz.

1. -?
- Oui, ils y vont.

Choisissez la question qui convient.

Yukarıdaki konuşmada cevabı gerektiren
soru aşağıdakilerden hangisidir?

- A) Quand est-ce qu'ils vont partir
- B) Où est-ce qu'ils viennent
- C) Qu'est-ce qu'ils pensent
- D) Est-ce qu'ils vont au cinéma
- E) Qu'est-ce qu'ils font

2. - Qu'est-ce que tu préfères? Le thé le café?
- Le café, bien sûr.

Choisissez le mot qui convient.

Yukarıdaki konuşmada boş bırakılan yeri
aşağıdakilerden hangisi doğru şekilde
tamamlar?

- A) mais
- B) donc
- C) car
- D) et
- E) ou

3. hiver, il fait froid.

Choisissez le mot qui convient.

Cümledeki boşluğu aşağıdakilerden hangisi
doğru şekilde tamamlar?

- A) Le mois
- B) Au
- C) De
- D) En
- E) Le jour

4. - combien de temps tu travailles dans
cette banque?
- Je travaille ici depuis six ans.

Choisissez le mot qui convient.

Yukarıdaki konuşmada boş bırakılan yeri
aşağıdakilerden hangisi doğru şekilde
tamamlar?

- A) Dans
- B) Quand
- C) Depuis
- D) Comment
- E) Donc

5. Comme elle était malade, elle n'est pas venue à
l'école.

Choisissez la traduction qui convient.

Yukarıdaki cümlelerin Türkçe karşılığı
aşağıdakilerden hangisidir?

- A) Hastalandığından beri okula gelmiyor.
- B) Okula gelmedi, çünkü o çok hasta.
- C) Hasta olduğu için okula gelmedi.
- D) Hasta olsa bile okula gitmek ister.
- E) Okula gelmeme nedeni hasta olması.

6. I. Pour aller au Musée d'Atatürk
II. Visiter les musées, c'est intéressant
III. Vous traversez cette rue
IV. Vous tournez à gauche
V. C'est juste en face

Choisissez la phrase qui ne convient pas à
l'ensemble.

Sırasıyla okunduğunda anlam bütünlüğünü
bozan cümle aşağıdakilerden hangisidir?

- A) I
- B) II
- C) III
- D) IV
- E) V

B

2012 3D 0103-B

7. J'ai cherché mon parapluie partout je ne l'ai pas trouvé.

Choisissez le mot qui convient.

Cümledeki boşluğu aşağıdakilerden hangisi doğru şekilde tamamlar?

- A) ou
- B) or
- C) car
- D) donc
- E) mais

8. Il faut se dépêcher pour ne pas l'avion.

Choisissez le mot qui convient.

Cümledeki boşluğu aşağıdakilerden hangisi doğru şekilde tamamlar?

- A) manquer
- B) partir
- C) voyager
- D) conduire
- E) sortir

9. Le match va commencer deux heures.

Choisissez le mot qui convient.

Cümledeki boşluğu aşağıdakilerden hangisi doğru şekilde tamamlar?

- A) en
- B) quand
- C) comme
- D) depuis
- E) combien

10. Je te présente mon ami vit à l'étranger.

Choisissez le mot qui convient.

Cümledeki boşluğu aşağıdakilerden hangisi doğru şekilde tamamlar?

- A) ce que
- B) qui
- C) que
- D) où
- E) ce qui

11. En 2002, j'(je) à İstanbul.

Choisissez le mot qui convient.

Cümledeki boşluğu aşağıdakilerden hangisi doğru şekilde tamamlar?

- A) vais
- B) été
- C) serai
- D) ai
- E) étais

12. Tous les garçons aiment jouer football.

Choisissez le mot qui convient.

Cümledeki boşluğu aşağıdakilerden hangisi doğru şekilde tamamlar?

- A) au
- B) à
- C) du
- D) les
- E) aux

13. 29 Octobre est la fête de la République en Turquie.

Choisissez le mot qui convient.

Cümledeki boşluğu aşağıdakilerden hangisi doğru şekilde tamamlar?

- A) Quand
- B) Le
- C) Au
- D) Depuis
- E) En

14. En quelle année sommes-nous?

Choisissez la traduction qui convient.

Yukarıdaki cümlelerin Türkçe karşılığı aşağıdakilerden hangisidir?

- A) Hangi yıldayız?
- B) Hangi mevsimdeyiz?
- C) Hangi aydayız?
- D) Bugün günlerden ne?
- E) Kaçınıcı haftadayız?

2012 3D 0103-B

15. - D'où venez-vous?

-

Choisissez la réponse qui convient.**Yukarıdaki konuşmada boş bırakılan yeri aşağıdakilerden hangisi doğru şekilde tamamlar?**

- A) De temps en temps.
- B) Je suis médecin.
- C) De Belgique.
- D) Je suis marié.
- E) J'ai trente ans.

16. Nous au bord de la mer la semaine prochain.

Choisissez le mot qui convient.**Cümledeki boşluğu aşağıdakilerden hangisi doğru şekilde tamamlar?**

- A) allons
- B) vont
- C) allez
- D) irons
- E) sommes allés

17. Ils aiment voyager..... train.

Choisissez le mot qui convient.**Cümledeki boşluğu aşağıdakilerden hangisi doğru şekilde tamamlar?**

- A) une
- B) à
- C) le
- D) au
- E) en

18. Quand je lui ai téléphoné, il déjà sorti.

Choisissez le mot qui convient.**Cümledeki boşluğu aşağıdakilerden hangisi doğru şekilde tamamlar?**

- A) été
- B) a
- C) est
- D) était
- E) avait

19. Otel otobüs durağının karşısındadır.

Choisissez la traduction qui convient.**Yukarıdaki cümlelerin Fransızca karşılığı aşağıdakilerden hangisidir?**

- A) L'hôtel et l'arrêt d'autobus sont en face.
- B) À côté de l'hôtel, il y a l'arrêt d'autobus.
- C) L'hôtel est en face de l'arrêt d'autobus.
- D) En face de l'arrêt d'autobus, il y a un hôtel.
- E) À côté de l'arrêt d'autobus, il y a un hôtel.

20. Dites-moi vous aimez.

Choisissez le mot qui convient.**Cümledeki boşluğu aşağıdakilerden hangisi doğru şekilde tamamlar?**

- A) toi
- B) ce que
- C) où
- D) ce qui
- E) c'est

İNGİLİZCE 2

B

2012 3D 0103-B

**Bu testin cevaplarını, cevap anahtarında
YABANCI DİL 2 sütununa işaretleyiniz.**

1. After we the museum, we had lunch.

Which of the following completes the sentence above?

Aşağıdakilerden hangisi yukarıdaki cümleyi doğru olarak tamamlar?

- A) will visit
- B) visit
- C) has visited
- D) had visited
- E) visiting

2. The film had finished when Sue arrived.

Which of the following completes the sentence above?

Aşağıdakilerden hangisi yukarıdaki cümleyi doğru olarak tamamlar?

- A) after
- B) yet
- C) until
- D) before
- E) just

3. Mary : Why didn't you have breakfast with Paul?
Jill : Because I had had my breakfast .

Which of the following completes the dialogue above?

Aşağıdakilerden hangisi yukarıdaki konuşmayı doğru olarak tamamlar?

- A) before
- B) by the time
- C) after
- D) already
- E) until

4. Jack : "I can swim well."
Jack said that he well.

Which of the following completes the sentence above?

Aşağıdakilerden hangisi yukarıdaki cümleyi doğru olarak tamamlar?

- A) swam
- B) swimming
- C) could swim
- D) has swum
- E) may swim

5. I arrived at the bus station, the bus had left.

Which of the following completes the sentence above?

Aşağıdakilerden hangisi yukarıdaki cümleyi doğru olarak tamamlar?

- A) What
- B) Where
- C) When
- D) Which
- E) Who

6. Jack had never a penguin before he went to a zoo.

Which of the following completes the sentence above?

Aşağıdakilerden hangisi yukarıdaki cümleyi doğru olarak tamamlar?

- A) has seen
- B) seen
- C) saw
- D) see
- E) sees

B

2012 3D 0103-B

7. By the time I at the airport, the plain had already left.

Which of the following completes the sentence above?

Aşağıdakilerden hangisi yukarıdaki cümleyi doğru olarak tamamlar?

- A) arrive
- B) arrives
- C) will arrive
- D) arriving
- E) arrived

8. Ann said, "I have forgotten to call Peter." Ann said that she to call Peter.

Which of the following completes the sentence above?

Aşağıdakilerden hangisi yukarıdaki cümleyi doğru olarak tamamlar?

- A) had forgotten
- B) forgot
- C) forget
- D) forgetting
- E) has forgotten

9. Betty asked George he was a teacher.

Which of the following completes the sentence above?

Aşağıdakilerden hangisi yukarıdaki cümleyi doğru olarak tamamlar?

- A) whether
- B) who
- C) what
- D) where
- E) which

10. I hadn't known Uğur we met at Filiz's party last month.

Which of the following completes the sentence above?

Aşağıdakilerden hangisi yukarıdaki cümleyi doğru olarak tamamlar?

- A) already
- B) until
- C) after
- D) yet
- E) just

11. Mary said to Jane, "I will visit you tomorrow." Mary said that she Jane the next day.

Which of the following completes the sentence above?

Aşağıdakilerden hangisi yukarıdaki cümleyi doğru olarak tamamlar?

- A) has visited
- B) visits
- C) may visit
- D) visiting
- E) would visit

12. Bob asked Jack, "Do you know Spanish?" Bob wanted to know if Jack Spanish.

Which of the following completes the sentence above?

Aşağıdakilerden hangisi yukarıdaki cümleyi doğru olarak tamamlar?

- A) knew
- B) know
- C) known
- D) has known
- E) will know

13. Dean said, "I bought a new car yesterday." Dean said that he had bought a new car

Which of the following completes the sentence above?

Aşağıdakilerden hangisi yukarıdaki cümleyi doğru olarak tamamlar?

- A) before
- B) the day before
- C) the next day
- D) then
- E) that day

2012 3D 0103-B

14. Ann : Are you a doctor?
 Kate : Yes, I am.
 Mike : What does Kate want to know?
 Ann : She wants to know if I a doctor.

Which of the following completes the dialogue above?

Aşağıdakilerden hangisi yukarıdaki konuşmayı doğru olarak tamamlar?

- A) am
- B) are
- C) have been
- D) had been
- E) was

15. A lot of roses have been in the garden.

Which of the following completes the sentence above?

Aşağıdakilerden hangisi yukarıdaki cümleyi doğru olarak tamamlar?

- A) will plant
- B) plant
- C) planted
- D) is planting
- E) planting

16. A thief stole Ann's purse.

Which of the following is the passive voice of the sentence above?

Aşağıdakilerden hangisi yukarıdaki cümlelin edilgen yapıda kurulmuş biçimidir?

- A) A thief has stolen Ann's purse.
- B) Ann's purse has been stolen by a thief.
- C) Ann's purse had been stolen by a thief.
- D) Ann's purse was stolen by a thief.
- E) Ann's purse is stolen by a thief.

17. The dishes by my sister at the moment.

Which of the following completes the sentence above?

Aşağıdakilerden hangisi yukarıdaki cümleyi doğru olarak tamamlar?

- A) were washed
- B) is washed
- C) are washing
- D) has washed
- E) are being washed

18. John by a thief last night.

Which of the following completes the sentence above?

Aşağıdakilerden hangisi yukarıdaki cümleyi doğru olarak tamamlar?

- A) robbed
- B) has robbed
- C) robbing
- D) was robbed
- E) will rob

19. Chinese is in China.

Which of the following completes the sentence above?

Aşağıdakilerden hangisi yukarıdaki cümleyi doğru olarak tamamlar?

- A) speak
- B) speaks
- C) spoken
- D) speaking
- E) spoke

20. A hotel will next to the cinema.

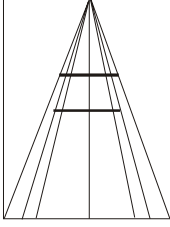
Which of the following completes the sentence above?

Aşağıdakilerden hangisi yukarıdaki cümleyi doğru olarak tamamlar?

- A) built
- B) be built
- C) is built
- D) was built
- E) build

2012 3D 0103-B

1.



Yukarıdaki yatay çizgiler aynı uzunluktadır. Ancak üstteki yatay çizgi, alttakinden uzun görülür.

Bu durum aşağıdakilerden hangisine örnektir?

- A) Algıda seçicilik
- B) Derinlik algısı
- C) Algıda değişmezlik
- D) Devinim algısı
- E) Nesne-fon ilişkisi

2. Aşağıdaki kelime çiftlerinden hangisi bellekte bilgiyi örgütlemek üzere kullanılan çağrışım ilkelerine (benzerlik, zıtlık, eş zamanlılık, aynı yerde olma vb.) uygunluk göstermez?

- A) Ak-kara
- B) Defter-kitap
- C) Masa-gözlük
- D) Sıcak-soğuk
- E) Kaşık-çatal

3. Aşağıdaki konulardan hangisi, Antropoloji ile ilgilidir?

- A) İç salgı bezleri
- B) İlkel toplumlar
- C) Akıl hastalıkları
- D) Anormal insan davranışları
- E) İnsan ihtiyaçları

4. Aşağıdakilerden hangisi, fizyolojik güdülerin özelliklerinden biri değildir?

- A) Organizmanın varlığını ve soyunu sürdürme gereksiniminden doğması
- B) Bu gereksinimler doyurulmadığında organizmanın dengesinin bozulması
- C) Fizyolojik güdülerin bütün canlılarda bulunması
- D) Doğuştan gelmesi
- E) İnsanın sosyal ve kültürel ihtiyaçlarından doğması

5. Bellekte kodlanmış olan imgelerin gerektiği zaman yeniden bilinç düzeyine çıkarılması, yani yeniden zihinde canlandırılmasına ne ad verilmektedir?

- A) Tasarım
- B) Kavram
- C) Yaratıcı düşünce
- D) Sembol
- E) Akıl yürütme

6. Aşağıdakilerden hangisi çözülmesi gereken bir problemi sonuçlandırmak için, yapılması gereken işlemlerden biri değildir?

- A) Probleme ilgili araştırma yapılarak bilgi toplamak
- B) Yeni çözüm yolları aramak
- C) Bilinç altına atmak
- D) Problemi yeniden gözden geçirmek
- E) Akıl yürütmek

7. Kinestezinin (kassal duyum) tanımı aşağıdakilerden hangisidir?

- A) Başkalarına karşı iyi duygular besleyebilmektir.
- B) Renklerin tonunu ayırtedebilmektir.
- C) Vücudun dengesini sağlayabilmektir.
- D) Organların hareket halinde oluşunu duyabilmektir.
- E) İç organlara yapılan basıncı hissetmektir.

8. Öğretmenimiz gibi konuşmaya çalışmamız aşağıdakilerden hangisine örnek olur?

- A) Koşullu öğrenmeye
- B) Model alarak öğrenmeye
- C) Sezgisel öğrenmeye
- D) Bilişsel öğrenmeye
- E) Motor öğrenmeye

9. Yeni bir eve taşındıktan bir süre sonra, artık eski evimizin adresini hatırlamayız. Bu durum aşağıdakilerden hangisine bir örnektir?

- A) Geriye ket vurma
- B) Organik nedenli unutma
- C) Bilinç altına atma
- D) İleriye ket vurma
- E) Yeterli öğrenme yapılmaması

10. Aşağıdakilerden hangisi problem çözmek için gerekli olan etmenlerden biri değildir?

- A) Problemi çözmek için güdülenmiş olmak
- B) Probleme ilişkili temel bilgileri kazanmış olmak
- C) Temel öğrenme kapasitesine sahip olmak
- D) Problem çözme aşamasında aşırı kaygılanmak
- E) Akıl yürütme yeteneğine sahip olmak

2012 3D 0103-B

11. Organizmaya etki eden, duyu organlarını harekete geçiren her türlü etkiye uyarıcı denir. Duyuma neden olan uyarıcılar dış uyarıcılardır. Davranıma neden olan uyarıcılar ise iç etkenlerdir.

Buna göre aşağıdaki ifadelerden hangisi, dış uyarıcının oluşturduğu duyuma neden olur?

- A) Ders çalışmaktan yorgun düşmüştü.
B) Baş ağrısından dersi doğru dürüst dinleyemedi.
C) Susuzluk onun canına tak etmişti.
D) Uykusuzluktan ayakta duramıyordu.
E) Çok tuzlu olduğundan yemeği yiyemedi.

12. Pavlov, çingırak sesine koşullanan bir köpeğin, zil sesine de aynı koşullu tepkiyi gösterdiğini saptamıştır.

Bu durum, koşullu öğrenmeyle ilgili aşağıdaki kavramlardan hangisiyle açıklanabilir?

- A) Klasik koşullanmada canlanma
B) Klasik koşullanmada genelleme
C) Koşullu tepkinin sönmesi
D) Klasik koşullanmada ayırtetme
E) Koşullu tepkinin pekiştirilmesi
13. Şişman bir kişinin rejim yapması, hasta bir kişinin ilaç içmesi, üşüyen bir kişinin palto giymesi organizmada daha çok aşağıdakilerden hangisini sağlamaya yöneliktir?
- A) Aşırı uyarım
B) Güdülenme
C) Dengelenme
D) Etkileşim
E) Yetersiz uyarım

14. "Klinik psikoloji" psikolojinin aşağıdaki uygulama alanlarından hangisiyle ilgilidir?

- A) Adalet
B) Ticaret
C) Ordu
D) Tıp
E) Eğitim

15. İnsan kulağının bir sesi duyabilmesi için bu sesin öncelikle aşağıdaki koşullardan hangisini taşıması gerekir?

- A) Şiddetinin alt ve üst duyum eşikleri arasında bulunması
B) Diğer seslerden farklı olması
C) Kişinin beklentilerine uygun olması
D) Hoşlanılan bir ses olması
E) Birden bire ortaya çıkması

16. Televizyon açıkken seyretmek yerine kitap okuyan bireyin televizyonda ilgisini çeken bir haberi duymasıyla kitabı bırakıp televizyondaki programı izlemeye başlaması aşağıdakilerden hangisine bir örnektir?

- A) Algıda beklentiye
B) Algıda seçiciliğe
C) Algıda değişmezliğe
D) Derinlik algısına
E) Algıda örgütlenmeye

17. "Zihinde var olan yargılara dayanarak yeni bir yargıya varma" ifadesi, aşağıdaki kavramlardan hangisini tanımlamaktadır?

- A) Sembol
B) İmge
C) Problem çözme
D) Akıl yürütme
E) Soyutlama

18. Dikkatin belirli bir nesne üzerinde yoğunlaştırılmasıyla yaratılan suni uyku durumuna ne ad verilir?

- A) Bağımlılık
B) Uyurgezerlik
C) Meditasyon
D) Rüya görme
E) Hipnoz

19. Aşağıdakilerden hangisi, psikolojinin amaçlarından biri değildir?

- A) Elde edilen psikolojik bilgileri eğitim alanında kullanarak başarıyı yükseltmesi
B) Ergenlik konusunda elde edilen bilgilerle ergenlerin sorunlarına çözüm bulması
C) Toplum yapısını ve toplumsal sistemleri incelemesi
D) İnsanın çevresine uyum sağlamasında yardımcı olması
E) İnsan davranışlarını inceleyerek genel yasalara varması

20. Aşağıdakilerden hangisi uzun süreli belleğin özelliklerinden biri değildir?

- A) Bilgi alma kapasitesi çok dardır.
B) Bilgiler anlam ilişkisi yönünden örgütlenmiştir.
C) Tam bir unutma olmaz.
D) Zaman sınırı çok geniştir.
E) Bilginin örgütlenişi hatırlamaya ipucu verir.

2012 3D 0103-B

Bu testin cevaplarını, cevap anahtarında YABANCI DİL 5 sütununa işaretleyiniz.

1. Ahmet hat 14.00 Uhr 18.00 Uhr Mathematikunterricht.

Welche Wörter passen in die obigen Lücken?

Cümlede boş bırakılan yerleri aşağıdakilerden hangileri doğru şekilde tamamlar?

- A) an / vom
B) im / bis
C) am / seit
D) von / bis
E) seit / nur

2. Der Film ist einem guten Regisseur gedreht worden.

Welches Wort paßt in die obige Lücke?

Cümlede boş bırakılan yeri aşağıdakilerden hangisi doğru olarak tamamlar?

- A) in
B) auf
C) zu
D) von
E) an

3. Das ist der Mann, Haus abgebrannt ist.

Welches Wort paßt in die obige Lücke?

Cümlede boş bırakılan yeri aşağıdakilerden hangisi doğru şekilde tamamlar?

- A) dessen
B) dem
C) denen
D) das
E) der

4. Menschen, krank, müssen im Bett bleiben.

Welche Wörter passen in die obigen Lücken?

Cümlede boş bırakılan yerleri aşağıdakilerden hangileri doğru olarak tamamlar?

- A) der / hat
B) die / hätten
C) den / seien
D) die / sind
E) das / wären

5. Ein Auto ist ein Fahrrad.

Welches Wort paßt in die obige Lücke?

Cümlede boş bırakılan yeri aşağıdakilerden hangisi doğru şekilde tamamlar?

- A) schneller als
B) schnellsten
C) teuersten
D) teureren wie
E) schnell wie

6. Carl Lewis ist der Läufer der Welt.

Welches Wort paßt in die obige Lücke?

Cümlede boş bırakılan yeri aşağıdakilerden hangisi doğru olarak tamamlar?

- A) schneller
B) höchste
C) schnell
D) höchster
E) schnellste

7. Juni, Juli und August sind die

Welches Wort paßt in die obige Lücke?

Cümlede boş bırakılan yeri aşağıdakilerden hangisi doğru şekilde tamamlar?

- A) Frühlingsmonate
B) Schneemonate
C) Herbstmonate
D) Wintermonate
E) Sommermonate

2012 3D 0103-B

8. Wir leben in Deutschland,

Welches ergänzt nicht die Lücke im obigen Satz?

Verilen cümleyi aşağıdakilerden hangisi tamamlamaz?

- A) damit unsere Kinder Deutsch lernen können.
- B) weil ich meinen Führerschein vergessen habe.
- C) um hier eine Karriere zu machen.
- D) weil Deutschland sehr schön ist.
- E) weil wir hier arbeiten.

9. Bist du nicht zu Hause?
Wir dachten, du zu Hause.

Welches Wort paßt in die obige Lücke?

Cümlede boş bırakılan yeri aşağıdakilerden hangisi doğru olarak tamamlar?

- A) wäre
- B) wäre
- C) wärest
- D) wären
- E) wärt

10. Klaus: Was du machen, wenn du ein Superstar?

Maria: Ich würde viele Konzerte geben und immer singen!

Klaus: Dann du auch viel Geld!

Maria: Natürlich!

Welche Wörter passen in die Lücken im obigen Dialog?

Verilen karşılıklı konuşmada boş bırakılan yerleri aşağıdakilerden hangileri tamamlar?

- A) kannst / bist / hast
- B) würdest / wärest / hättest
- C) würdest / wirst / hätten
- D) wärest / wird / hat
- E) wäre / seist / hättest

11. Ich lese jeden Tag mindestens eine Zeitung, ich die Neuigkeiten verfolgen möchte.

Welches Wort paßt in die obige Lücke?

Cümlede boş bırakılan yeri aşağıdakilerden hangisi doğru şekilde tamamlar?

- A) über
- B) damit
- C) weil
- D) um
- E) wo

12. Jürgen: Bist du allein ins Theater gegangen?

Tina: Ja, leider!

Jürgen: Das ist Schade.

Tina: Na ja, dann ein anderes Mal.

Welches ergänzt den obigen Dialog?

Verilen karşılıklı konuşmayı aşağıdakilerden hangisi tamamlar?

- A) Das Spiel hatte ich schon gesehen!
- B) Das Theater ist doch zu weit!
- C) Ich wäre doch mit dir gegangen!
- D) Ich gehe nie ins Theater!
- E) Wir haben viel über dieses Theaterspiel gehört.

13. Wie lange treibst du Sport?

Welche Antwort paßt zur obigen Frage?

Verilen sorunun cevabı aşağıdakilerden hangisidir?

- A) Ich gehe selten ins Kino.
- B) Ich ziehe mich immer sportlich an.
- C) Manchmal esse ich im Restaurant.
- D) Abends bin ich immer sehr müde.
- E) Ungefähr zwei Stunden in der Woche.

14. Das Kind,, kommt aus Berlin.

Welches ergänzt den obigen Satz?

Yukarıdaki cümleyi aşağıdakilerden hangisi doğru olarak tamamlar?

- A) die immer zu uns kommen
- B) der du ein Buch geschenkt hast
- C) dem neu verheiratet ist
- D) das du gestern kennengelernt hast
- E) die sehr reich sind

2012 3D 0103-B

15. Thomas lieber mit Sandra
.

Welche Wörter passen in die obigen Lücken?

Cümlede boş bırakılan yerleri aşağıdakilerden hangileri doğru olarak tamamlar?

- A) würde / tanzen sein
- B) wird / getanzt
- C) würde / tanzen
- D) wird / tanzen sein
- E) wird / tanzen wollte

16. Sie die Prüfung bestehen.

Welches Wort paßt in die obige Lücke?

Cümlede boş bırakılan yeri aşağıdakilerden hangisi doğru şekilde tamamlar?

- A) wird
- B) war
- C) wäre
- D) werdet
- E) wirst

17. Der Mann, Sohn heute heiratet, ist sehr nervös.

Welche Wörter passen in die obigen Lücken?

Cümlede boş bırakılan yerleri aşağıdakilerden hangileri doğru olarak tamamlar?

- A) deren
- B) den
- C) dem
- D) denen
- E) dessen

18. Bana hasta olduğu söylendi.

Wie lautet der obige Satz auf deutsch?

Verilen cümlelerin Almanca karşılığı aşağıdakilerin hangisinde doğru olarak verilmiştir?

- A) Mir wäre gesagt, sie wäre krank gewesen.
- B) Mir wurde gesagt, sie sei krank.
- C) Mir sagte sie, sie wäre krank.
- D) Mir hat sie gesagt, daß sie krank war.
- E) Mir ist gesagt worden, sie wird krank.

19. Ankara'ya giden otobüs saat 20:30'da hareket edecek.

Wie lautet der obige Satz auf deutsch?

Verilen cümlelerin Almanca karşılığı aşağıdakilerin hangisinde doğru olarak verilmiştir?

- A) Um 20:30 Uhr ist der Bus nach Ankara abgefahren.
- B) Der Bus, der nach Ankara fährt, fährt um 20:30 Uhr ab.
- C) Nach Ankara fährt der Bus nur um 20:30 Uhr ab.
- D) Um 20:30 Uhr wird der Ankara Bus abgefahren sein.
- E) Der Bus, mit dem du nach Ankara fahren willst, fährt um 20:30 Uhr ab.

20. Ich habe von der Wettervorhersage gehört, es heute in Berlin keinen Regen.

Welches Wort paßt in die obige Lücke?

Cümlede boş bırakılan yeri aşağıdakilerden hangisi doğru şekilde tamamlar?

- A) habe
- B) sein
- C) wäre
- D) seid
- E) habt

FRANSIZCA 5

2012 3D 0103-B

Bu testin cevaplarını, cevap anahtarında YABANCI DİL 5 sütununa işaretleyiniz.

1. Chaque, ils vont au bord de la mer.

Choisissez le mot qui convient.

Cümledeki boşluğu aşağıdakilerden hangisi doğru şekilde tamamlar?

- A) seul
- B) comme
- C) tous
- D) été
- E) hiver

2. Elle joue piano chaque jour.

Choisissez le mot qui convient.

Cümledeki boşluğu aşağıdakilerden hangisi doğru şekilde tamamlar?

- A) une
- B) en
- C) dans
- D) du
- E) les

3. La robe ma mère a choisi coûte 50 euros.

Choisissez le mot qui convient.

Cümledeki boşluğu aşağıdakilerden hangisi doğru şekilde tamamlar?

- A) que
- B) dernière
- C) sont
- D) où
- E) qui

4. Les étudiants marcheront

Choisissez le mot qui convient.

Cümledeki boşluğu aşağıdakilerden hangisi doğru şekilde tamamlar?

- A) chanteuse
- B) chantaient
- C) chanté
- D) en chantant
- E) chanteront

5. Choisissez le synonyme du verbe "se distraire".

"Se distraire" fiilinin eşanlamısı aşağıdakilerden hangisidir?

- A) s'amuser
- B) se reposer
- C) s'ennuyer
- D) s'intéresser
- E) s'entendre

6. Tu partiras en vacances comment ? ou en famille ?

Choisissez le mot qui convient.

Cümledeki boşluğu aşağıdakilerden hangisi doğru şekilde tamamlar?

- A) Moi
- B) Voyage
- C) L'étranger
- D) Autre
- E) Seul

7. Elle part vacances chaque été.

Choisissez le mot qui convient.

Cümledeki boşluğu aşağıdakilerden hangisi doğru şekilde tamamlar?

- A) de
- B) à
- C) y
- D) les
- E) en

2012 3D 0103-B

8. Il raconte une histoire est amusante.

Choisissez le mot qui convient.

Cümledeki boşluğu aşağıdakilerden hangisi doğru şekilde tamamlar?

- A) sera
- B) qui
- C) lettre
- D) mon
- E) où

9. C'est le jardin ma fille aime les roses.

Choisissez le mot qui convient.

Cümledeki boşluğu aşağıdakilerden hangisi doğru şekilde tamamlar?

- A) qui
- B) bord
- C) dont
- D) à
- E) voilà

10. A : - Elle travaille où?

B : -

Choisissez la réponse qui convient.

Yukarıdaki konuşmada boş bırakılan yeri aşağıdakilerden hangisi doğru şekilde tamamlar?

- A) Elle travaille sans cesse.
- B) Elle travaille dans une banque.
- C) Elle part en vacances.
- D) Elle habite à İstanbul.
- E) Elle aime faire du ski.

11. Il a rencontré son ami de l'école.

Choisissez le mot qui convient.

Cümledeki boşluğu aşağıdakilerden hangisi doğru şekilde tamamlar?

- A) sortez
- B) est sortie
- C) en sortant
- D) sors
- E) sortira

12. On peut pique-niquer en forêt quand

Complétez la phrase avec la proposition qui convient.

Yukarıdaki cümleyi aşağıdaki ifadelerden hangisi doğru şekilde tamamlar?

- A) il fait du gris.
- B) il y a du vent.
- C) il fait beau.
- D) il neige.
- E) il pleut.

13. Monique un championnat de ping-pong chaque samedi.

Choisissez le mot qui convient.

Cümledeki boşluğu aşağıdakilerden hangisi doğru şekilde tamamlar?

- A) veut
- B) passe
- C) va
- D) joue
- E) organise

14. A : - Qu'est-ce que tu as fait hier soir?

B : -

Choisissez la réponse qui convient.

Yukarıdaki konuşmada boş bırakılan yeri aşağıdakilerden hangisi doğru şekilde tamamlar?

- A) J'aime la musique classique.
- B) Je vais partir pour Paris.
- C) J'habite à Paris.
- D) Je suis allée au concert.
- E) Je suis technicien.

2012 3D 0103-B

15. les / j'aime / brillantes / lumières
I II III IV

Mettez dans le bon ordre.

Yukarıdaki kelimelerin anlamlı ve kurallı bir bütün oluşturan sırası aşağıdakilerin hangisinde doğru olarak verilmiştir?

- A) I, III, IV, II
B) II, I, III, IV
C) II, I, IV, III
D) III, IV, II, I
E) III, IV, I, II

16. L'appartement elle habite est très grand.

Choisissez le mot qui convient.

Cümledeki boşluğu aşağıdakilerden hangisi doğru şekilde tamamlar?

- A) où
B) mes
C) d'
D) pourquoi
E) plus

17. Il est tombé en courant.

Choisissez la traduction qui convient.

Yukarıdaki cümlelerin Türkçe karşılığı aşağıdakilerden hangisidir?

- A) Çok hızlı koşar.
B) Yürümeyi çok sever.
C) Yürürken birden düşüverdi.
D) Koşmadan duramaz.
E) Koşarken düştü.

18. en chantant / fait / ménage / le / elle
I II III IV V

Mettez dans le bon ordre.

Yukarıdaki kelimelerin anlamlı ve kurallı bir cümle oluşturan sırası aşağıdakilerin hangisinde doğru olarak verilmiştir?

- A) V, IV, II, I, III
B) V, II, IV, III, I
C) IV, III, I, V, II
D) III, V, II, IV, I
E) I, IV, II, V, III

19. J'ai vu mon neveu venant de l'école.

Choisissez la traduction qui convient.

Yukarıdaki cümlelerin Türkçe karşılığı aşağıdakilerden hangisidir?

- A) Yeğenimle okuldan birlikte döndük.
B) Yeğenimi okuldan gelirken gördüm.
C) Yeğenimle okulda karşılaştık.
D) Yeğenimi okulda gördüm.
E) Yeğenimi okula götürdüm.

20. Des enfants sont venus.

Choisissez le mot qui convient.

Cümledeki boşluğu aşağıdakilerden hangisi doğru şekilde tamamlar?

- A) obéissants
B) quand
C) combien
D) elles
E) visité

İNGİLİZCE 5

B

2012 3D 0103-B

**Bu testin cevaplarını, cevap anahtarında
YABANCI DİL 5 sütununa işaretleyiniz.**

1. paying the bill, George left the restaurant.

Which of the following completes the sentence above?

Aşağıdakilerden hangisi yukarıdaki cümleyi doğru olarak tamamlar?

- A) As
- B) While
- C) So
- D) After
- E) Where

2. Carol has been playing basketball 1995.

Which of the following completes the sentence above?

Aşağıdakilerden hangisi yukarıdaki cümleyi doğru olarak tamamlar?

- A) last
- B) from
- C) for
- D) since
- E) ago

3. Ken used to with a toy guitar when he was a child.

Which of the following completes the sentence above?

Aşağıdakilerden hangisi yukarıdaki cümleyi doğru olarak tamamlar?

- A) play
- B) is playing
- C) played
- D) have played
- E) was playing

4. I used to milk when I was a child.

Which of the following completes the sentence above?

Aşağıdakilerden hangisi yukarıdaki cümleyi doğru olarak tamamlar?

- A) was drinking
- B) is drinking
- C) drunk
- D) drink
- E) have drunk

5. A : I can't find my wallet.

B : You have left it in the office.

Which of the following completes the dialogue above?

Aşağıdakilerden hangisi yukarıdaki konuşmayı doğru olarak tamamlar?

- A) must
- B) ought
- C) can
- D) will
- E) have to

6. Jane: Who translated this letter? You?
Mary: No. I got my friend it.

Which of the following completes the dialogue above?

Aşağıdakilerden hangisi yukarıdaki konuşmayı doğru olarak tamamlar?

- A) translate
- B) translated
- C) is translated
- D) translating
- E) to translate

7. I haven't seen him years.

Which of the following completes the sentence above?

Aşağıdakilerden hangisi yukarıdaki cümleyi doğru olarak tamamlar?

- A) since
- B) ago
- C) now
- D) after
- E) for

B

2012 3D 0103-B

8. I was going to the theatre, I saw an accident.

Which of the following completes the sentence above?

Aşağıdakilerden hangisi yukarıdaki cümleyi doğru olarak tamamlar?

- A) What
- B) While
- C) Which
- D) Where
- E) Who

9. Nazlı drinks coffee every morning.

Which of the following is the negative form of the sentence above?

Aşağıdakilerden hangisi yukarıdaki cümlemin olumsuz biçimidir?

- A) Nazlı isn't drinking coffee every morning.
- B) Nazlı didn't drink coffee every morning.
- C) Nazlı doesn't drink coffee every morning.
- D) Nazlı hasn't drunk coffee every morning.
- E) Nazlı wasn't drinking coffee every morning.

10. Selin: Is the cat sleeping at the moment?
Tolga :No,it isn't.But it usuallyon the sofa.

Which of the following completes the dialogue above?

Aşağıdakilerden hangisi yukarıdaki konuşmayı doğru olarak tamamlar?

- A) sleep
- B) sleeps
- C) sleeping
- D) has slept
- E) slept

11. Jane asked Mary, "Who did you go to the theatre with?
Jane asked Mary who she to the theatre with.

Which of the following completes the sentence above?

Aşağıdakilerden hangisi yukarıdaki cümleyi doğru olarak tamamlar?

- A) will go
- B) went
- C) had gone
- D) has gone
- E) is going

12. I often play tennis at the weekends.

Which of the following is the Turkish translation of the sentence above?

Aşağıdakilerden hangisi yukarıdaki cümlemin Türkçe karşılığıdır?

- A) Ben hafta sonları sık sık tenis oynardım.
- B) Ben hafta sonları bazen tenis oynuyorum.
- C) Ben hafta sonları sık sık tenis oynarım.
- D) Ben hafta sonları tenis oynamayı planlıyorum.
- E) Ben hafta sonları tenis oynayacağım.

13. They will construct a new road.

Which of the following is the passive voice of the sentence above?

Aşağıdakilerden hangisi yukarıdaki cümlemin edilgen yapıda kur ulmuş biçimidir ?

- A) A new road has been constructed by them.
- B) A new road was constructed by them.
- C) A new road is being constructed by them.
- D) A new road is constructed by them.
- E) A new road will be constructed by them.

14. I used totwo years ago, but now I don't smoke.

Which of the following completes the sentence above?

Aşağıdakilerden hangisi yukarıdaki cümleyi doğru olarak tamamlar ?

- A) have smoked
- B) is smoking
- C) smoked
- D) smoke
- E) had smoked

2012 3D 0103-B

15. Nur asked Aysun "Do you like music?"
Nur asked Aysun if she music.

Which of the following completes the sentence above?

Aşağıdakilerden hangisi yukarıdaki cümleyi doğru olarak tamamlar?

- A) liking
- B) like
- C) liked
- D) has liked
- E) will like

16. If I were you, I that expensive dress.

Which of the following completes the sentence above?

Aşağıdakilerden hangisi yukarıdaki cümleyi doğru olarak tamamlar?

- A) wouldn't buy
- B) hasn't bought
- C) won't buy
- D) can't buy
- E) hadn't bought

17. While Mr.White was working in the garden,a burglar into his house.

Which of the following completes the sentence above?

Aşağıdakilerden hangisi yukarıdaki cümleyi doğru olarak tamamlar ?

- A) is getting
- B) have got
- C) get
- D) gets
- E) got

18. Jane the baby now.

Which of the following completes the sentence above?

Aşağıdakilerden hangisi yukarıdaki cümleyi doğru olarak tamamlar?

- A) fed
- B) is feeding
- C) have fed
- D) feed
- E) was feeding

19. If I you, I wouldn't call him.

Which of the following completes the sentence above?

Aşağıdakilerden hangisi yukarıdaki cümleyi doğru olarak tamamlar ?

- A) be
- B) were
- C) may
- D) am
- E) can

20. Jack has already planted trees along the roads.

Which of the following is the passive voice of the sentence above?

Aşağıdakilerden hangisi yukarıdaki cümlelerin edilgen yapıda kurulumuş biçimidir ?

- A) Trees have already been planted along the roads by Jack.
- B) Trees had already been planted along the roads by Jack.
- C) Trees are planted along the roads by Jack.
- D) Trees were being planted along the roads by Jack.
- E) Trees will be planted along the roads by Jack.

DİL VE ANLATIM 7

B

2012 3D 0103-B

1. Eski Türk edebiyatında "Harname" adlı mesnevi aşağıdaki şairlerden hangisine aittir?

- A) Şeyhî
- B) Fırdevsî
- C) Abdî
- D) Cemâlî
- E) Hamdullah Hamdî

2. Bir öykünün, romanın değeri neye bağlıdır? (ne ile ölçülür)

- A) Ne kadar çok yabancı kelime kullanıldığına
- B) Yazarın işleyişi ve bakış açısına
- C) Hiç argo sözcük kullanılmamasına
- D) Ne kadar uzun bir yazı olduğuna
- E) Okuyucuyu eğlendirmesine

3. Anı ve gezi yazılarına ilişkin olarak aşağıda verilen bilgilerden hangisi yanlıştır?

- A) Bir kişinin başından geçenleri ya da tanık olduğu olayları anlattığı yazı türüne deneme adı verilir.
- B) Bir yazarın yazdığı, gördüğü, incelediği yerlerden edindiği bilgi, görgü ve izlenimleri anlatan yazıya gezi yazısı denir.
- C) Gezi yazıları okuyucunun genel kültürüne önemli katkıda bulunur.
- D) Anı yaşanmış olayları anlatır.
- E) Gezi yazıları tarih, coğrafya ve toplumbilim gibi bilim dalları için yararlı bir kaynaktır.

4. Aşağıdakilerden hangisi, Çehov tarzı hikâyenin özelliklerinden biri değildir?

- A) Doğrudan olay örgüsüyle başlaması
- B) Anlatımının ayrıntılı olmaması
- C) Kahramanlarının her zaman çevremizde rastladığımız insanlar olması
- D) Pek çok şeyin okurun hayal gücüne bırakılması
- E) Mekân üzerinde fazla durulması

5. Genellikle yaratıcısı bilinmeyen, olağanüstü öge, kahraman ve olaylara yer veren öyküye ne ad verilir?

- A) Anı
- B) Roman
- C) Masal
- D) Deneme
- E) Fabl

6. Attilâ İlhan'ın "Leitmotiv" tekniği ile yazdığı romanı, aşağıdakilerden hangisidir?

- A) Beyaz Kale
- B) Dersaadet'te Sabah Ezanları
- C) Canbaz
- D) Dört Mevsim Sonbahar
- E) Ay Falcısı

7. Dünya edebiyatında, "fabl" yazı türünün ilk çağlardan başlayarak Doğudaki ilk temsilcisi, aşağıdakilerden hangisidir?

- A) Anakreon
- B) Hesse
- C) Sappho
- D) Beydeba
- E) Alkalos

8. Bir kimsenin kendi yaşamöyküsünü kendisinin kaleme aldığı eserlere ne ad verilir?

- A) Monografi
- B) Öykü
- C) Söyleşi
- D) Otobiyografi
- E) Sohbet

9. Biyografiyle ilgili verilen bilgilerden hangisi yanlıştır?

- A) Öyküleyici anlatımla yazılır.
- B) Biyografi türündeki eserler tarihe, edebiyat tarihine ve eleştiriye kaynaklık eder.
- C) Türkçe'de yaşamöyküsü ifade ile karşlanır.
- D) Biyografi yazarı aynı zamanda sanatçı duyarlılığı da gösterir.
- E) Sıradan kişilerin yaşamına ışık tutar.

10. Taaşşuk-u Talât ve Fitnat adlı ilk yerli roman aşağıdaki yazarlardan hangisine aittir?

- A) Rezaizade M. Ekrem
- B) Şemsettin Sami
- C) Reşat Nuri Güntekin
- D) Halit Ziya Uşaklıgil
- E) Mehmet Rauf

B

2012 3D 0103-B

11. 1950'li yıllardan günümüze kadar Türk romanının gelişimine ilişkin aşağıda verilen bilgilerden hangisi yanlıştır?

- A) Anadolu'yu işleyen romanların yanı sıra Oğuz Atay, Yusuf Atılgan gibi yazarlar bireyin sorunlarından yola çıkan eserler yazmışlardır.
- B) 1980 sonrasında romanda postmodern özellikler öne çıkmaya başlar.
- C) Köy enstitülerinden yetişen yazarlar köy ve kasaba yaşamı ve sorunlarını konu dile getirmişlerdir.
- D) 1970'lerde romanda ağırlık şehirlere kaymıştır.
- E) 1950 sonrası Türk romanına romantizm egemendir.

12. Bu tiyatronun göze çarpan yönü kalıplaşmış gerçeklere karşı çıkmak, tabiatı ve mantıktan uzaklaşmak ve insanı düşündürmektir. Az olay ve sözle önemli şeyler anlatmak istenir. Bu çeşit tiyatro eserleri semboller, bilmece ve saçma tasarımlarla doludur.

Yukarıda anlatılan tiyatro türü aşağıdakilerden hangisidir?

- A) Meddah
- B) Karagöz
- C) Absürd tiyatro
- D) Epik tiyatro
- E) Operet

13. Masalları bastırılmış isteklerin düş biçiminde ortaya çıkması şeklinde açıklayan araştırmacı, aşağıdakilerden hangisidir?

- A) Sigmund Freud
- B) Piaget
- C) Vygotsky
- D) Bruner
- E) Bloom

14. Aşağıdakilerden hangisi Milli Edebiyat Akımı dönemi özellikleri arasında yer almaz?

- A) Anadolu'yu gündeme taşımışlardır.
- B) Yerli konulara önem verilmiştir.
- C) Edebiyatın köklerini eski Yunan edebiyatı ve Yunan mitolojisiyle uyumlaştırmak istemişlerdir.
- D) Romanlarda her kesimden halkı anlatmak istemişlerdir.
- E) Sözlü gelenek ürünü olan masal, destan ve halk hikayeleri yeniden canlandırılmak istenmiştir.

15. Köy oyunlarının, karagöz ve orta oyunundan farkı aşağıdakilerden hangisidir?

- A) Yazarının belli olması
- B) Oynandıkları yörelerin özelliklerini taşımaları
- C) Oyun metninin belli olması
- D) Hala geleneksel olarak devam ediyor olması
- E) Belli zamanlarda oynanması

16. Meddahlıkla ilgili olarak aşağıda verilen bilgilerden hangisi yanlıştır?

- A) Sahne ve dekor bulunmaz.
- B) Meddahın bütün marifeti nükte ve taklit yeteneğiyle kendini dinletme gücünde toplanmıştır.
- C) Meddah, söze başlayacağı zaman elinde bastonu ve omzunda beyaz bir mendille bir iskemleye oturur.
- D) Meddaha gereken durumlarda Kavuklu ve Pişekar eşlik eder.
- E) Hareketten çok, ses taklidi, jest ve mimiklere dayanır.

17. Aşağıdakilerden hangisi Türk kültürüne ait başlıca halk tiyatrosu türlerinden biri değildir?

- A) Mani
- B) Meddah
- C) Köy seyirlik oyunları
- D) Orta oyunu
- E) Karagöz

18. Türk tiyatrosunda başarılı bir epik deneme olarak kabul edilen Keşanlı Ali Destanı, kimin eseridir?

- A) Muhsin Ertuğrul
- B) Halit Ziya
- C) Namık Kemal
- D) Haldun Taner
- E) Behçet Necatigil

19. Aşağıdaki tiyatro oyunlarından hangisi karakter komedyasına örnektir?

- A) Gülünç Kibarlar
- B) Müfettiş
- C) Cimri
- D) Yanlışlıklar Komedyası
- E) Şair evlenmesi

20. Çağdaş Tiyatro tekniğine uygun olarak yazılan ilk önemli eser kabul edilen Şair Evlenmesi'nin yazarı aşağıdakilerden hangisidir?

- A) Namık Kemal
- B) Muallim Naci
- C) Tefik Fikret
- D) Ahmet Mithat
- E) Şinasi

TÜRK EDEBİYATI 3

B

2012 3D 0103-B

1. Aşağıdakilerden hangisi sözlü edebiyat döneminde sanatçılara verilen adlardan biri değildir?

- A) Oyun
- B) Şaman
- C) Şair
- D) Baksı
- E) Kam

2. Düşünce, duygu, olay ve durumları güzel, etkili biçimde anlatan söz sanatı aşağıdakilerden hangisidir?

- A) Felsefe
- B) Sosyoloji
- C) Edebiyat
- D) Tarih
- E) Psikoloji

3. Aşağıdakilerden hangisi yazılı dönem eserlerindendir?

- A) Uygur metinleri
- B) Destan
- C) Sagu
- D) Sav
- E) Koşuk

4. Türk dilinin 8. yüzyıla ait en eski ve en değerli belgelerinden Kültigin Yazıtını hükümdarın ağzından söylev diliyle kim yazmıştır?

- A) Dede Korkut
- B) Thomsene
- C) Tonyukuk
- D) Yoluğ Tigin
- E) Bilge Kağan

5. Edebiyat, araştırmalarında aşağıdakilerin hangisinden faydalanır?

- A) Fen
- B) Matematik
- C) Psikoloji
- D) Fizik
- E) Kimya

6. Gezip gördüğü yerlerle ilgili gözlem ve izlenimlerini on ciltlik "Seyahatname" adlı eserinde anlatan yazar kimdir?

- A) Çelebi Mehmet
- B) Süleyman Çelebi
- C) Naili Kadim
- D) Kâtip Çelebi
- E) Evliya Çelebi

7. Türk dilinin günümüze kalan en eski ve değerli belgeleri aşağıdakilerden hangisidir?

- A) Dede Korkut Hikâyeleri
- B) Ergenekon Destanı
- C) Göktürk Yazıtları
- D) Destanlar
- E) Savlar

8. Türkler, Cumhuriyet döneminde Atatürk'ün yaptığı harf devrimiyle hangi alfabeyi kullanmaya başladılar?

- A) Göktürk alfabesi
- B) Uygur alfabesi
- C) Arap alfabesi
- D) Lâtin alfabesi
- E) Kiril alfabesi

9. Gözlem ve uzun deneyimlerden süzülen duygu ve düşüncelerin özlü bir anlatımı olan, yüzyıllara meydan okuyan, eski çağlardan kalma atasözlerine ne ad verilir?

- A) Sagu
- B) Sav
- C) Baskı
- D) Şaman
- E) Destan

10. Aşağıdakilerden hangisi, sözlü edebiyat döneminin ürünlerinden biridir?

- A) Mâni
- B) Gazel
- C) Türkü
- D) Koşuk
- E) Koşma

B

2012 3D 0103-B

11. Elif kaşlarını çatar
Gamzesi sineme batar
Ak elleri kalem tutar
Yazar Elif Elif diye
- Yukarıdaki şiirle ilgili olarak, aşağıdakilerden hangisi söylenemez?**
- A) Yuğ törenlerinde söylendiği
B) Dört dizeden oluştuğu
C) aaab şeklinde uyaklandığı
D) 8'li hece ölçüsüyle yazıldığı
E) Samimi, duygulu bir dil kullanıldığı
12. Okuyanların duygu, düşünce ve hayal dünyalarını geliştirip zenginleştiren eserlere ne ad verilir?
- A) Müzik eseri
B) Sanat eseri
C) Tarihi eser
D) Edebi eser
E) Tiyatro eseri
13. Aşağıdakilerden hangisi Saka Türklerinin destanlarından biridir?
- A) Manas Destanı
B) Ergenekon Destanı
C) Köroğlu Destanı
D) Bozkurt Destanı
E) Şu Destanı
14. Alp Er Tunga öldi mü
Issız ajun kaldı mu
Ödlek öçin aldı mu
Emdi yürek yırtılır
- Yukarıdaki şiirle ilgili olarak, aşağıdakilerden hangisi söylenemez?**
- A) Dilinin ağır, anlatımının yapmacıklı olduğu
B) 7'li hece ölçüsüyle 4+3 duraklı söylendiği
C) Dört dizeden oluştuğu
D) Yuğ törenlerinde söylendiği
E) aaab şeklinde uyaklandığı
15. Ebül- Gazi Bahadır Han'ın 17. yüzyılda yazdığı Ergenekon Destanı'na da yer verdiği eser, aşağıdakilerden hangisidir?
- A) Siyempi Destanları
B) Şehnâme
C) Seyran Destanı
D) Kalevela
E) Şecere-i Türk

16. "Ağılda oğlak doğsa ırmakta otu biter."

Yukarıdaki sav örneğiyle aşağıdaki atasözlerinden hangisi örtüşür?

- A) Canı veren Allah rızkını da verir.
B) Çıkmadık candan umut kesilmez.
C) Can çıkmadıkça huy çıkmaz.
D) Canı veren de alan da Allah.
E) Canı canla ölçmeli.

17. Sanat eserlerine esin kaynağı olan "Gılgamış Destanı" Orhan Asena'nın hangi oyununun konusunu oluşturur?

- A) Kolları Bağlı Odysseus
B) Tanrılar ve İnsanlar
C) Ölümsüzlük Ardında Gılgamış
D) Cengiz Han'ın Bisikleti
E) Berlin Üçlemesi

18. Aşağıdakilerden hangisi islâmiyetten önceki Türk destanlarından biridir?

- A) Timur Destanı
B) Danişment Gazi Destanı
C) Cengiz Han Destanı
D) Köroğlu Destanı
E) Atillâ Destanı

19. Aşağıdaki atasözleri anlamca gruplandırıldığında hangisi dışarıda kalır?

- A) Bir elin nesi var, iki elin sesi var.
B) Ağır yongayı yel kaldırmaz.
C) Yalnız taş, duvar olmaz.
D) Birlikten kuvvet doğar.
E) Baş başa vermeyince, taş yerinden oynamaz.

20. Aşağıdakilerden hangisi destanın özelliklerinden biri değildir?

- A) Konusunu kahramanların yaptıkları üzerine kurması
B) Olayların sınırlı bir coğrafyada geçmesi
C) Halkı ilgilendiren büyük olaylardan doğması
D) Yarı Tanrısal nitelikli kahramanların olması
E) Önce sözlü tür olarak doğması

TÜRK EDEBİYATI 8

B

2012 3D 0103-B

1. "Kocaoğlan" adlı tiyatro oyunu aşağıdaki yazarlardan hangisine aittir?

A) Nazım Hikmet
B) Orhan Kemal
C) Orhan Asena
D) Necati Cumalı
E) Melih Cevdet Anday

2. Aşağıdakilerden hangisi Yahya Kemal Beyatlı'nın sanat anlayışının özelliklerinden biri değildir?

A) Şiir konularını aşk, tabiat, deniz, ölüm ve sonsuzluktan alması
B) Klasik divan şiirini Batı şiirindeki bütünlük anlayışıyla ele alması
C) İç ahengi her şeyden üstün tutması
D) Osmanlı medeniyet ve kültürüne bağlı kalması
E) Şiirlerinin çoğunu hece ölçüsüyle yazması

3. Aşağıdaki şairlerden hangisi, şiirlerinde zamanın Batı'da moda olan fütürist, kübik ve gerçeküstücü şiir akımlarını denemiştir?

A) Sezai Karakoç
B) Bedri Rahmi Eyüboğlu
C) Atilla İlhan
D) Ercüment Behzat Lav
E) Ahmet Muhip Dıranas

4. Aşağıdakilerden hangisi "İkinci Yeni" şiirinin özelliklerinden biri değildir?

A) İmgelere yer verilmesi
B) Bireyci bir şiir anlayışının hâkim olması
C) Daha çok betimleyici metinlerden oluşması
D) Nükte, şaşırtmaca ve tekerlemeden uzaklaşması
E) Romantizm akımının etkisinde olması

5. "Kitabe-i Seng-i Mezar" adlı şiir aşağıdaki şairlerden hangisine aittir?

A) Kemalettin Kamu
B) Orhan Veli Kanık
C) Ahmet Kutsi Tecer
D) Mehmet Akif Ersoy
E) Ahmet Arif

6. İlk şiirinden son şiirine kadar çocuksu duyarlılığını, dünyayı hayranlıkla, şaşkınlıkla bakışını ve şakacı çocuk yaklaşımını yitirmeyen şair, aşağıdakilerden hangisidir?

A) Refik Durbaş
B) Ece Ayhan
C) İlhan Berk
D) Ülkü Tamer
E) Turgut Uyar

7. "Ben Ölüsem Akşamüstü Ölürüm" şiiri aşağıdaki şairlerden hangisine aittir?

A) Atıf Behramoğlu
B) İsmet Özel
C) Özdemir İnce
D) Süreyya Berfe
E) Ahmet Oktay

8. Aşağıdakilerden hangisi, "Garip" şiirinin temalarından biri değildir?

A) Aşk
B) Çocukluğa dönüş
C) Bireyin yalnızlığı
D) İnsan sevgisi
E) Yaşama sevinci

9. "Yedi tepeye kurulmuş
Pul pul
Gümüş gümüş balıkları
Pul pul
Işıktan sudan örülmüş
Canım İstanbul"

Yukarıdaki şiir, aşağıdaki şairlerden hangisine aittir?

A) Bedri Rahmi Eyüboğlu
B) Sezai Karakoç
C) Ahmet Haşim
D) Ahmet Muhip Dıranas
E) Turgut Uyar

10. "Uy Havar" adlı şiir, aşağıdaki şairlerden hangisine aittir?

A) A. Kadir
B) Melih Cevdet Anday
C) Cemal Süreyya
D) Ahmet Arif
E) Oktay Rifat

B

2012 3D 0103-B

11. Şiir coğrafyasını Türk ve Batı şiiri özelliklerini kendinde birleştirerek oluşturan; serbest tarzda kaleme aldığı şiirlerinde yalnızlık, hüzn, kaçış, ölüm tutkusu temalarını işleyen şair, aşağıdakilerden hangisidir?

- A) Ahmet Muhip Dıranas
- B) Hilmi Yavuz
- C) Cemal Süreya
- D) Behçet Necatigil
- E) İlhan Geçer

12. Halk şiirinde kişiye, topluma, feleğe, tabiata âşık tarafından yöneltilen yergi, alay, eleştiri içeren şiirlere ne ad verilir?

- A) Ağıt
- B) Öğüt
- C) Taşlama
- D) Koçaklama
- E) Güzelleme

13. "Bir İlbahar Hikâyesi" adlı eser aşağıdaki yazarlardan hangisine aittir?

- A) Refik Halit Karay
- B) İlhan Berk
- C) Tevfik Fikret
- D) Kemal Özer
- E) Sait Faik Abasıyanık

14. Anadolucu edebiyatın en tanınmış şairi aşağıdakilerden hangisidir?

- A) Kemalettin Kamu
- B) Faruk Nafiz Çamlıbel
- C) Şükufe Nihal
- D) Ahmet Muhip Dıranas
- E) Halide Nusret Zorlutuna

15. Aşağıdakilerden hangisi "İkinci Yeni" de öne çıkan temalardan biri değildir?

- A) Bezginlik
- B) Boşluk duygusu
- C) Yenilmişlik
- D) Şüphe
- E) Doğa

16. Aşağıdakilerden hangisi William Shakespeare'in tiyatro oyunlarından biridir?

- A) Kral Lear
- B) Cimri
- C) Köşebaşı
- D) Nişanlılar
- E) Çılgın Orlondo

17. Mekân olarak Edremit ve yöresinin ayrıntılarıyla anlatıldığı "Kuyucaklı Yusuf" adlı roman, aşağıdaki yazarlardan hangisine aittir?

- A) Ayfer Tunç
- B) Refik Halit Karay
- C) Sabahattin Âli
- D) Peride Celal
- E) Sait Faik Abasıyanık

18. Aşağıdakilerden hangisi "Garip" şiirinin özelliklerinden biri değildir?

- A) Sahte değerlerle, samimiyetsizlik, felsefeyle, aşırı duyarlılıkla alay etmesi
- B) Hece ölçüsü ve uyak kullanılması
- C) Açık ve yalın bir dil kullanılması
- D) Şakaya ve nükteye yer verilmesi
- E) Günlük hayatın işlenmesi

19. Aşağıdakilerden hangisi Yusuf Atılgan'ın romanlarından biridir?

- A) Ateşten Gömlek
- B) Çıkrıklar Durunca
- C) Murtaza
- D) Bay Virgül
- E) Aylak Adam

20. Aşağıdakilerden hangisi "Beş Hececiler" diye anılan şairler arasında yer almaz?

- A) Cevdet Kudret
- B) Faruk Nafiz Çamlıbel
- C) Yusuf Ziya Ortaç
- D) Orhan Seyfi Orhon
- E) Enis Behiç Koryürek

2012 3D 0103-B

1. 10 °C'ta uzunluğu 100 cm olan çelik bir tel 110 °C'a kadar ısıtıldığında boyu kaç cm olur? ($\lambda_{\text{ÇELİK}}=1,2 \cdot 10^{-5} \text{ I/}^\circ\text{C}$)

- A) 50,12
- B) 100,12
- C) 150,12
- D) 200,12
- E) 300,12

2. Öz kütleleri 2,4 g/cm³ ve 1,6 g/cm³ olan M ve N sıvılarından eşit hacimde alınarak karıştırılmıştır. Buna göre, yeni karışımın öz kütlesi kaç g/cm³ dür?

- A) 0,8
- B) 1,6
- C) 2
- D) 2,4
- E) 4

3.



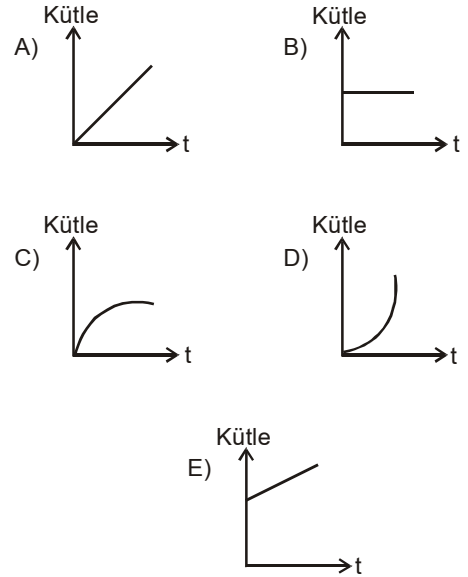
Birbirine perçinlenmiş KL ve LM metal çiftleri yukarıdaki şekilde verilmiştir. Bu metal çiftleri soğutulduklarında doğrusal hale gelmektedir. Buna göre, metallerin yapıldığı maddelerin λ_K , λ_L ve λ_M uzama katsayıları arasındaki ilişki aşağıdakilerden hangisinde doğru olarak verilmiştir?

- A) $\lambda_L > \lambda_K > \lambda_M$
- B) $\lambda_M > \lambda_K > \lambda_L$
- C) $\lambda_M > \lambda_L > \lambda_K$
- D) $\lambda_K > \lambda_M > \lambda_L$
- E) $\lambda_K > \lambda_L > \lambda_M$

4.



Yukarıdaki şekildeki boş kap sabit debili olan bir muslukla dolduruluyor. Kap dolana kadar kaptaki sıvı kütlesinin zamana bağlı değişiminin grafiği aşağıdakilerden hangisidir?



5. Bir sıvının ısı olarak gaz haline geçmesine ne ad verilir?

- A) Yoğunlaşma
- B) Buharlaşma
- C) Kaynama
- D) Süblimleşme
- E) Erime

2012 3D 0103-B

6. Bir kaba d özkütleli sıvıdan 3V, 2d özkütleli sıvıdan da 2V hacminde sıvı konarak türdeş bir karışım oluşturuluyor. Buna göre, bu karışımın özkütlesi kaç d dir?

A) 1,1
B) 1,2
C) 1,3
D) 1,4
E) 1,5

7. Boyutları 10 cm olan küp şeklindeki demir parçasının kütlesi kaç litre suyun kütlesi eşittir? ($d_{\text{demir}}=7,8 \text{ g/cm}^3$, $d_{\text{su}}=1 \text{ g/cm}^3$)

A) 3,9
B) 7,8
C) 15,6
D) 23,4
E) 31,2

8. Bir şişe boşken 100 g, su ile dolu iken 150 g geliyor. Aynı şişe öz kütlesi bilinmeyen bir sıvıyla doldurulduğunda 200 g geliyor. Buna göre, bu sıvının öz kütlesi kaç g/cm^3 tür?

A) 0,5
B) 1,5
C) 2
D) 2,5
E) 3

9. I. Katı
II. Sıvı
III. Gaz

Yukarıdakilerden hangileri maddelerin fiziksel hallerindendir?

A) Yalnız I
B) I ve II
C) I ve III
D) II ve III
E) I, II ve III

10. İçinde 40 cm^3 kuru kum bulunan dereceli silindire 50 cm^3 su eklendiğinde toplam hacim 80 cm^3 oluyor. Buna göre, kuru kumun hacminin yüzde kaçı havadır?

A) 90
B) 75
C) 50
D) 25
E) 10

11. Bir kenarı 10 cm olan küp şeklindeki bir kutunun hacmi kaç m^3 tür?

A) 100
B) 10
C) 1
D) 0,001
E) 0,000001

12. Bir maddeyi oluşturan taneciklerin kinetik enerjileri toplamına ne ad verilir?

A) Hız
B) Yoğunluk
C) Sıcaklık
D) Isı
E) Ağırlık

13. Bir cisme uygulanan yerçekimi kuvvetine ne ad verilir?

A) Ağırlık
B) Kütle
C) Öz kütle
D) Hacim
E) Yoğunluk

2012 3D 0103-B

14. İçinde 10 cm^3 kuru kum bulunan dereceli silindire 20 cm^3 su eklendiğinde toplam hacim 25 cm^3 oluyor. Buna göre, kum tanecikleri arasındaki havanın hacmi kaç cm^3 dür?

A) 5
B) 10
C) 15
D) 20
E) 25

15. Eşit kollu bir terazinin sol kefesine bir dolmakalem ve 3 gram, sağ kefesine ise, iki adet 5 gram ve bir adet 2 gram konularak terazi dengeye getirilmiştir. Buna göre dolmakalem kaç gramdır?

A) 6
B) 7
C) 9
D) 12
E) 15

16. 30°C 'taki 1 kg suyun sıcaklığını 40°C 'a çıkartmak için gerekli ısı miktarı kaç J dür? ($C_{su}=4.180 \text{ J/kgK}$)

A) 418
B) 2.090
C) 4.180
D) 20.900
E) 41.800

17. Aşağıdakilerden hangisi maddelerin ortak özelliklerindendir?

A) Renk
B) Kütle
C) Genişlik
D) Yükseklik
E) Uzunluk

18. Küp şeklindeki bir kutunun bir kenarı 5 cm ise, bu kutunun hacmi kaç cm^3 dür?

A) 15
B) 25
C) 75
D) 125
E) 625

19. Sıcaklık aşağıdakilerden hangisiyle ölçülür?

A) Voltmetre
B) Barometre
C) Ampermetre
D) Dinamometre
E) Termometre

20. Ele dökülen kolonyanın serinlik hissi vermesindeki fiziksel neden aşağıdakilerden hangisinde gerçekleşir?

A) Sıcak havada su dolu toprak testinin ıslak beze sarılması
B) Çaydanlık saplarının plastikten yapılması
C) Soğuk günlerde araba camlarının buğulanması
D) Pencereilerin çift camdan yapılması
E) Kışın koyu renk elbise giyilmesi

2012 3D 0103-B

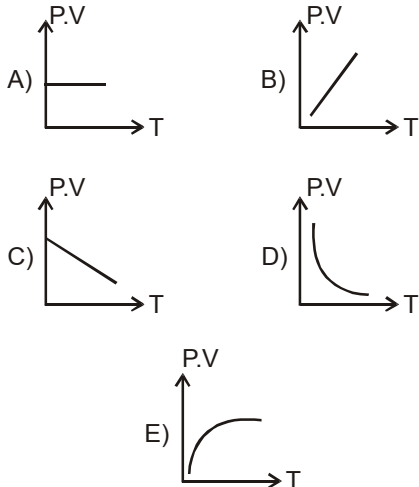
1. NH_3 bileşiğinde azot/hidrojen birleşme oranı 14/3'tür. Bir miktar azot gazı 1,5 gr. hidrojen gazıyla tepkimeye girdiğinde 14 gr. azot gazı artıyor. Buna göre, başlangıçta alınan azot gazı kaç gramdır?

A) 28
B) 21
C) 14
D) 7
E) 4,5

2. 0,08 mol NO_3^- iyonu içeren $\text{Mg}(\text{NO}_3)_2$ çözeltisi 500 ml'tir. Bu çözeltideki Mg^{+2} iyon derişimi kaç mol/l'tir?

A) 0,08
B) 0,04
C) 0,02
D) 0,16
E) 0,4

3. Sabit kütleli ideal bir gazın basınç-hacim çarpımının (P.V) mutlak sıcaklıkla (T) değişimini gösteren grafik aşağıdakilerden hangisidir?



4. 0,4 M çözelti hazırlamak için 16 gr. NaOH,

I. 1 litre suda
II. 1 litreden az suda
III. 1 litreden çok suda

hangilerinde çözünmelidir? (NaOH:40)

A) Yalnız I
B) Yalnız II
C) Yalnız III
D) II ve III
E) I, II ve III

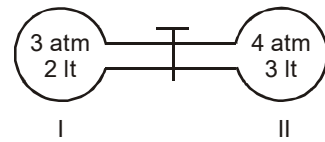
5. $\text{Mg}_3(\text{PO}_4)_2$ bileşiğinin mol kütlesi kaç gr/mol'dür? (Mg: 24, P: 31, O:16)

A) 62
B) 72
C) 128
D) 134
E) 262

6. CO bileşiğinde karbon ve oksijenin kütlece birleşme oranı 3/4 dür. Eşit kütlede karbon ve oksijen elementleri alınarak CO bileşiği oluşturmak üzere tepkimeye sokulduğunda, karbon elementinin yüzde kaç tüketilir?

A) 10
B) 25
C) 50
D) 75
E) 90

- 7.



Şekildeki kapların içerisinde birbirleriyle reaksiyon vermeyen iki ideal gaz bulunmaktadır.

Aynı sıcaklıkta musluk açıldığında son basınç kaç atm olur?

A) 0,5
B) 1,4
C) 3,6
D) 4,2
E) 4,8

2012 3D 0103-B

8. Sabit sıcaklıkta $40 \text{ cm}^3 \text{ O}_2$ gazının basıncı 4 atm dir. Hacmi 10 cm^3 olduğunda basıncı kaç atm olur?

A) 1
B) 4
C) 8
D) 12
E) 16

9. X ve Y gazlarının difüzyon hızlarının oranı $\frac{V_X}{V_Y} = \frac{1}{2}$ ise, moleköl ağırlıkları arasındaki

oran kaçtır? $\left(\frac{m_X}{m_Y} \right)$

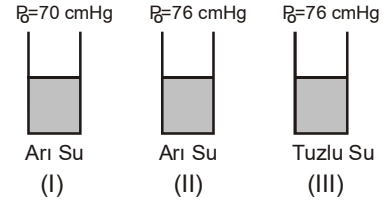
A) $\frac{1}{8}$
B) $\frac{1}{4}$
C) $\frac{1}{2}$
D) 2
E) 4

10. $X_{(kati)} + \text{su} \rightarrow \text{Sulu çözelti} + \text{Isı}$

denklemindeki X katısının sudaki çözünürlüğünü artırmak için aşağıdaki işlemlerden hangisi uygulanmalıdır?

A) Su miktarının artırılması
B) Çözeltinin karıştırılması
C) Çözeltinin sıcaklığının artırılması
D) X katısının artırılması
E) X katısının toz haline getirilmesi

11.



Arı su 70 cmHg ve 76 cmHg, tuzlu su 76 cmHg dış basınçlı bir ortamdadır.

Bu sıvıların kaynama noktaları arasındaki ilişki aşağıdakilerin hangisinde doğru olarak verilmiştir?

A) I>II>III
B) II>I>III
C) I=II>III
D) III>II>I
E) III>I=II

12. $\text{Al}_4\text{C}_3 + 12\text{H}_2\text{O} \rightarrow 4\text{Al}(\text{OH})_3 + 3\text{CH}_4$ tepkime denkleminde göre 18 gram Al_4C_3 bileşiğinin kullanılmasıyla, normal şartlar altında kaç litre CH_4 gazı oluşur? (Al: 27, C:12, H:1, O:16)

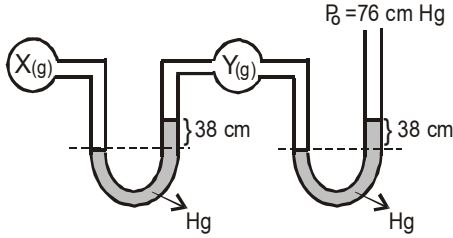
A) 67,2
B) 44,8
C) 36,8
D) 22,4
E) 8,4

13. Sabit basınçta, 127°C sıcaklıkta 200 ml hacim kaplayan bir gazın hacminin 600 ml olabilmesi için sıcaklığının kaç $^\circ\text{C}$ olması gerekir?

A) 927
B) 727
C) 573
D) 327
E) 173

2012 3D 0103-B

14.



Şekildeki sistemde X gazının basıncı kaç atm dir? (1 atm = 76 cm Hg)

- A) 0,5
- B) 1
- C) 1,5
- D) 2
- E) 4

15. 300 mlt 0,2 Molarlık çözeltinin üzerine 200 mlt saf su ilave edilirse, çözeltinin molar derişimi kaç olur?

- A) 0,6
- B) 0,3
- C) 0,12
- D) 0,04
- E) 0,06

16. 0,75 M 200 mlt şeker ($C_6H_{12}O_6$) çözeltisinde kaç gram şeker çözünmüştür? ($C_6H_{12}O_6$:180)

- A) 180
- B) 54
- C) 27
- D) 18
- E) 9

17. 273°C de 11,2 litrelik kaba 0,5 atm. basınç yapan SO_3 gazı kaç moldür?

- A) 7,5
- B) 5
- C) 2,5
- D) 1,25
- E) 0,125

18. $Cu + 2H_2SO_4 \rightarrow CuSO_4 + SO_2 + 2H_2O$
 4,8 gr Xgr 12gr 4,8 gr 2,7 gr

Yukarıdaki tepkime denkleminde x ile belirtilen H_2SO_4 miktarı kaç gramdır?

- A) 19,5
- B) 18
- C) 14,7
- D) 12
- E) 2,7

19. 0,2 molarlık 200 ml $Ca(OH)_2$ çözeltisinde kaç gram $Ca(OH)_2$ çözünmüştür? ($Ca(OH)_2$: 74 gr/mol)

- A) 2,96
- B) 1,48
- C) 0,74
- D) 0,04
- E) 0,02

20. 27°C de 300 ml' lik kaba 3 atm basınç yapan bir gazın sıcaklığı 127°C ye, hacmi 500 ml' ye çıkarılırsa basıncı kaç atmosfer olur?

- A) 48
- B) 36
- C) 24
- D) 2,4
- E) 1,5

2012 3D 0103-B

1. Aşağıdaki hastalıklardan hangisi cinsel temasla bulaşmaz?

- A) Şeker hastalığı
- B) Bel soğukluğu
- C) Frengi
- D) AIDS
- E) Mantar

2. Eşeyli üreme ile ilgili aşağıdaki ifadelerden hangisi yanlıştır?

- A) Mayoz bölünme vardır.
- B) Bir canlı başka bir canlıya gerek duymadan kendisine benzeyen canlılar meydana getirir.
- C) Gametlerin oluşumu sırasında parça değişimi gerçekleşir.
- D) Yumurta ve sperm oluşur.
- E) Yumurta ve spermin birleşmesiyle döllenme görülür.

3. Yassı parazit kurtlardaki döllenme şekli aşağıdakilerden hangisidir?

- A) İzogami
- B) Anizogami
- C) Konjugasyon
- D) Partenogenez
- E) Hermafroditizm

4. Şekil, büyüklük ve yapı yönünden farklı olan gametlerin birleşmesi sonucu görülen üreme şekli aşağıdakilerden hangisidir?

- A) Hermafroditizm
- B) Partenogenez
- C) İzogami
- D) Heterogami
- E) Konjugasyon

5. İnsanda gebelik süresi kaç gündür?

- A) 320
- B) 280
- C) 250
- D) 220
- E) 200

6. Bölünme olgunluğuna erişen bir canlının eşey hücresi oluşturmada kendisine benzer yavrular meydana getirmesine ne ad verilir?

- A) Eşeysiz üreme
- B) İzogami
- C) Konjugasyon
- D) Heterogami
- E) Anizogami

7. Aşağıdakilerden hangisi şekil ve büyüklükleri aynı olan gametlerin birleşmesi sonucu görülen üreme şeklidir?

- A) Anizogami
- B) Oogami
- C) Partenogenez
- D) İzogami
- E) Konjugasyon

8. Aşağıdakilerden hangisi iç döllenmede gametlerin döllenme şanslarının artmasının nedenlerinden biri değildir?

- A) Rasyasyondan etkilenmemeleri
- B) Çok sayıda olmaları
- C) Nemden etkilenmemeleri
- D) Isıdan etkilenmemeleri
- E) Kuruma tehlikesinin olmaması

9. Ovülasyon ile ilgili aşağıdaki ifadelerden hangisi yanlıştır?

- A) İki menstrüasyon ortasında gerçekleşir.
- B) Folikülün çatlaması ile yumurta fallop borusuna geçer.
- C) Testesteron hormonun etkisiyle gerçekleşir.
- D) Hipofizden LH salgılanır.
- E) Yumurta, döllenmek için fallop borusunda bekler.

10. Çiçekli bitkilerde erkek üreme organı aşağıdakilerden hangisidir?

- A) Çiçek sapı
- B) Stamen
- C) Çanak yaprak
- D) Polen
- E) Taç yaprak

2012 3D 0103-B

11. I. Bölünme
II. Gastrulasyon
III. Farklılaşma
IV. Organogenez

Yukarıdakilerden hangileri embriyonal gelişmede görülen temel olaylardır?

- A) Yalnız I
B) I ve II
C) I ve IV
D) II ve III
E) I, II, III ve IV

12. Aşağıdaki bitkilerden hangisi dikotiledondur?

- A) Lale
B) Buğday
C) Fasulye
D) Orkide
E) Mısır

13. İnsanda döllenmeden sonra 6. günde aşağıdakilerden hangisi gerçekleşir?

- A) Bütün organ sistemlerinin oluşması
B) Sinir sisteminin gelişmesi
C) Bağırsak ve kan damarlarının gelişmesi
D) Nöralasyon
E) Doğum

14. Organ nakli sonrasında aşağıdakilerden hangisinde doku reddi görülmez?

- A) Kornea
B) Kemik iliği
C) Kalp
D) Böbrekler
E) Karaciğer

15. Aşağıdakilerin hangisinde dış döllenme görülür?

- A) Maymun
B) Köpek
C) Balık
D) Kanguru
E) Kedi

16. Bebekte kalıtsal hastalık olup olmadığını belirlemek için gebeliğin kaçınıcı haftasında amnion sıvısı alınır?

- A) 2
B) 6
C) 8
D) 10
E) 16

17. Aşağıdaki organlardan hangisi mezodermden meydana gelir?

- A) Karaciğer
B) Pankreas
C) Beyin
D) Kalp
E) Akciğer

18. Canlılarda yenilenme ile ilgili aşağıdaki ifadelerden hangisi yanlıştır?

- A) Epitel hücreleri sürekli yenilenebilir.
B) Beyin hücreleri yenilenme yeteneklerini kaybetmiştir.
C) İnsanlarda retina hücrelerinde sürekli yenilenme görülür.
D) Memelilerde kıl yenilenmesi periyodik olarak görülür.
E) Kopan yada yaralanan vücut parçalarının yenilenmesidir.

19. Anne, hamileliğinin ilk dört ayında hangi hastalığa yakalanırsa, bebekte zekâ geriliği gibi anormallikler görülebilir?

- A) Kızamıkçık
B) Grip
C) Mide ülseri
D) Vajinit
E) Sinüzit

20. Aşağıdakilerden hangisi kanser oluşumuna neden olan iç faktörlerden biridir?

- A) Sigara
B) İlaçlar
C) Radyasyon
D) Alkol
E) Genetik şifre bozukluğu

MİLLİ GÜVENLİK BİLGİSİ 1

B

2012 3D 0103-B

1. Aşağıdaki şehirlerden hangisinde Deniz Lisesi vardır?

- A) İzmir
- B) Aydın
- C) Çanakkale
- D) İstanbul
- E) Edime

2. Aşağıdakilerden hangisi milli hedeflerimizin niteliklerinden biri değildir?

- A) Tamamen milli nitelik taşıması
- B) Ülke topraklarını genişletme ve yayılmacı olması
- C) Hayallere kapılmaksızın gerçekçi ve akılcı olması
- D) Sadece bir siyasi gruba ait olmaması
- E) Sadece bir liderin veya hanedanın hedefi olmaması

3. Devletin anayasal düzenini, milli varlığını, bütünlüğünü, milletler arası alandaki, sosyal, kültürel ve ekonomik bütün çıkarlarının yanı sıra, uluslar arası antlaşmalarla kararlaştırılan haklarını her türlü iç ve dış tehdide karşı korumak ve kollamak üzere gerçekleştirilen faaliyetlerin tümüne ne ad verilir?

- A) Devletin güvenliği
- B) Milli güvenlik
- C) Halkın güvenliği
- D) Vatanın güvenliği
- E) Sosyal güvenlik

4. Cumhurbaşkanı'nın katılmadığı zamanlarda, aşağıdakilerden hangisi Milli Güvenlik Kurulu'na başkanlık eder?

- A) Genel Kurmay Başkanı
- B) TBMM Başkanı
- C) Milli Savunma Bakanı
- D) İçişleri Bakanı
- E) Başbakan

5. Milli Güvenlik Kurulu kaç ayda bir toplanır?

- A) 2
- B) 3
- C) 4
- D) 5
- E) 6

6. Milli güvenliğin sağlanması ve milli hedeflere ulaşılması amacıyla Milli Güvenlik Kurulunun belirlediği görüşler dahilinde Bakanlar Kurulu tarafından tespit edilen içte, dışta ve savunma alanında izlenecek hareket tarzlarına ait esasları kapsayan siyasete ne ad verilir?

- A) Ekonomik siyaset
- B) Sosyal siyaset
- C) Politik siyaset
- D) Milli güvenlik siyaseti
- E) Milli güç siyaseti

7. Emniyet teşkilatının orta ve üst kademe amir ve yöneticilerini yetiştiren Polis Akademisi'ne personel yetiştirmek amacıyla Ankara'da kurulan okul aşağıdakilerden hangisidir?

- A) Güvenlik Bilimleri Enstitüsü
- B) Polis Meslek Yüksek Okulu
- C) Polis Koleji
- D) Polis Eğitim Merkezi
- E) Akademi

8. Bir milletin varlığını ve refahını sağlamak, aynı zamanda korumak için uluslararası hukuka uygun olarak devletin kabul ettiği genel siyasete ne ad verilir?

- A) Milli güç
- B) Milli strateji
- C) Milli güvenlik
- D) Savunma
- E) Milli varlık

9. Devletin diğer kuruluşları ile silahlı kuvvetler arasındaki ilişkilerin, savaş ve barış ortamlarında faydalı ve koordineli olarak yürütülmesini sağlamak amacıyla eğitim öğretim yapan kuruluş aşağıdakilerden hangisidir?

- A) Harp Okulu
- B) Milli Güvenlik Akademisi
- C) Harp Akademisi
- D) Sınıf Okulları
- E) Hazırlama Okulu

10. Bir atomun parçalanması ya da iki atomun birleşmesi halinde açığa çıkan enerjiden yararlanılarak geliştirilen silahlar aşağıdakilerden hangisidir?

- A) Nükleer silahlar
- B) Biyolojik silahlar
- C) Lav silahları
- D) Kimyasal silahlar
- E) Yakıcı silahlar

B

2012 3D 0103-B

11. Emniyet Genel Müdürlüğü aşağıdakilerden hangisine bağlıdır?

- A) Milli Savunma Bakanlığı
- B) Jandarma Genel Komutanlığı
- C) Genel Kumay Başkanlığı
- D) İçişleri Bakanlığı
- E) Kara Kuvvetleri Komutanlığı

12. Düşmanlık ve savaştan uzak, dostluk ve anlaşmanın üstün olduğu durum aşağıdakilerden hangisidir?

- A) Seferberlik hali
- B) Personel seferberliği
- C) Barış hali
- D) Savaş hali
- E) Bölgesel seferberlik hali

13. Sahil Güvenlik Komutanlığı, savaş halinde aşağıdakilerden hangisinin emrine girer?

- A) Deniz Kuvvetleri Komutanlığı
- B) Jandarma Genel Komutanlığı
- C) Dışişleri Bakanlığı
- D) Başbakanlık
- E) İçişleri Bakanlığı

14. Polis koleji mezunları ile lise ve dengi okul mezunlarının alındığı, mezunlarının komiser yardımcısı olarak göreve atandıkları okul aşağıdakilerden hangisidir?

- A) Güvenlik Bilimleri Enstitüsü
- B) Polis Akademisi
- C) Polis Okulu
- D) Polis Eğitim Merkezi Müdürlüğü
- E) Güvenlik Bilimleri Fakültesi

15. Aşağıdakilerden hangisi sivil savunma teşkilatının görevleri arasında yer almaz?

- A) Savaş zamanı okullarda eğitim öğretim faaliyetlerini yürütmek
- B) Savaş zamanı halkın can ve mal güvenliğinin sağlamak
- C) Büyük yangınlarda can ve mal kaybını azaltmak
- D) Doğal afetlerde can ve mal kurtarmak
- E) Savaş ve doğal afetlerde toplum için önemli tesislerin korunmasına katkıda bulunmak

16. Aşağıdakilerden hangisi bir deprem anında yapılması gerekenlerden biri değildir?

- A) Sakin olup, paniğe kapılmamak
- B) Köprü, üst geçit ve tünellerden uzak durmak
- C) Sağlam bir masanın altına girmek
- D) Soba ve şöminelerden uzak durmak
- E) Hızla merdiven ve asansörlere koşmak

17. Aşağıdakilerden hangisi milli güç unsurlarından biri değildir?

- A) Siyasi güç
- B) Askeri güç
- C) Nüfus gücü
- D) Coğrafi güç
- E) Sivil güç

18. Aşağıdakilerden hangisi genel seferberlik ilanında yapılacak işlemlerden biri değildir?

- A) Sefer görev emri alanların görev yerlerine gitmesi
- B) Bakanlar Kurulu'nun seferberlik emri hazırlaması
- C) Tüm okulların kapatılması
- D) Seferberlik emrinin bütün yurda duyurulması
- E) Seferberlik emri ve silah başı levhalarının asılması

19. Aşağıdakilerden hangisi Türk Silahlı Kuvvetleri'nin ülkemizdeki görev ve işlevlerinden biri değildir?

- A) Doğal afetlerde halka yardım etmek
- B) Koruma ve kollama
- C) Yoksullara yemek dağıtımını yapmak
- D) Huzur ve güvenliği sağlamak
- E) Okuma yazma kursları açmak

20. Başta askeri güç olmak üzere, devletin tüm kaynaklarının savaşın ihtiyaçlarını karşılayacak şekilde hazırlanması, toplanması ve kullanılmasına ilişkin bütün faaliyetlerin uygulandığı, hak ve özgürlüklerin kanunla kısmen ya da tamamen sınırlandırıldığı hale ne ad verilir?

- A) İhtilal
- B) Barış
- C) Savaş
- D) Seferberlik
- E) Ekonomik güç

SAĞLIK BİLGİSİ 2

B

2012 3D 0103-B

1. Aşağıdakilerden hangisi sık ve çok doğum yapan annelerin yaşadığı olumsuzluklardan biridir?

- A) Kansızlık ve beslenme bozukluklarının azalması
- B) Doğum sırasında ölüm oranının azalması
- C) Düşük ve kürtaj oranının azalması
- D) Üreme sistemi hastalıklarının artması
- E) Annenin ruhsal açıdan güçlü olması

2. I. Alkolikler
II. Organ nakledilenler
III. Hamileler
IV. Yaşlılar, çocuklar, bebekler

Yukarıdakilerden hangileri zatürreye yakalanma riski yüksek olan grup içinde yer alır?

- A) I ve II
- B) III ve IV
- C) I, II ve IV
- D) II, III ve IV
- E) I, II, III ve IV

3. Plazmodium malaria'nın neden olduğu hastalık aşağıdakilerden hangisidir?

- A) AIDS
- B) Kolera
- C) Kuduz
- D) Sıtma
- E) Difteri

4. Toplumun temel birimi aşağıdakilerden hangisidir?

- A) Aile
- B) Okul
- C) Ekonomi
- D) İşletme
- E) Çocuk

5. İki doğum arasında en az süre ne kadar olmalıdır?

- A) 3-6 ay
- B) 6-8 ay
- C) 9-11 ay
- D) 1-1,5 yıl
- E) 2-3 yıl

6. Aşağıdakilerden hangisi bulaşıcı hastalıklarda doğrudan bulaşma yoluna bir örnektir?

- A) Öksürük
- B) Cerrahi aletler
- C) Bozulmuş gıdalar
- D) Vektörler
- E) Sular

7. Aşağıdakilerden hangisi sağlıklı bir gebelikte annenin uyması gereken kurallardan biri değildir?

- A) İlk aylarda röntgen ışınlarından uzak durma
- B) Sigara gibi zararlı alışkanlıklardan uzak durma
- C) Yeterli ve dengeli beslenme
- D) Vücudu sıkmayan bol ve rahat giysiler giyme
- E) Düzenli egzersiz yapmadan, uzun süre hareketsiz kalma

8. Amniyon sıvısını aşağıdakilerden hangisi tanımlar?

- A) Lohusalık dönemi sonunda gelen ilk adettir.
- B) Adet döneminde gelen kana verilen addır.
- C) Plasentanın diğer adıdır.
- D) Anne rahminde bebeği çevreleyen kese içindeki sıvıdır.
- E) Doğum sancılarında birkaç saat önce gelen kanlı ve koyu kıvamdaki sıvıdır.

9. Aşağıdakilerden hangisi bayılma belirtilerinden biri değildir?

- A) Baş dönmesi ve yere düşme
- B) Bacaklarda uyuşma
- C) Bilinçte bulanıklık
- D) Hızlı ve zayıf nabız
- E) İdrar kaçırma

10. Halk arasında "sarılık" olarak da bilinen hepatit hastalığı vücutta hangi organı etkiler?

- A) Kalp
- B) Bağırsak
- C) Karaciğer
- D) Mide
- E) Akciğer

B

2012 3D 0103-B

11. Aşağıdakilerden hangisi kopan bir organın sağlık kuruluşuna ulaştırılmasında dikkat edilecek uygulamalardan biri değildir?

- A) Kopan organın vücuttan ayrıldığı yere tentürdiyot vb. maddeler sürülmemelidir.
- B) Kopan organ soğuk ortamda dondurularak nakledilmelidir.
- C) Kopan organ önce temiz ve kuru bir kaba ya da poşete konulmalıdır.
- D) Kaza yerinden alınan organ 6-8 saat içinde sağlık kuruluşuna ulaştırılmalıdır.
- E) Kopan organ, asla buz ya da buzlu suya doğrudan temas ettirilmemelidir.

12. I. AIDS
II. Hepatit B
III. Sıtma
IV. Kolera

Yukarıdaki hastalıklardan hangileri doğrudan bulaşma yolu ile bulaşır?

- A) I ve II
- B) I ve IV
- C) II ve III
- D) III ve IV
- E) I, II ve III

13. Gebelikte toprak, sabun vb. zararlı maddeleri yeme gibi alışkanlıkların ortaya çıkmasının nedeni aşağıdakilerden hangisidir?

- A) Folik asit fazlalığı
- B) Protein eksikliği
- C) İyot fazlalığı
- D) Demir eksikliği
- E) Kalsiyum eksikliği

14. Kemik bütünlüğünün bozulmasına ne ad verilir?

- A) Yara
- B) Kırık
- C) Zorlanma
- D) Çıkık
- E) Burkulma

15. Vücuda toksik bir maddenin girmesi sonucu organların ve dokuların normal işleyişinin bozulmasına ne ad verilir?

- A) Zorlanma
- B) Koma
- C) Zehirlenme
- D) Yanma
- E) Bayılma

16. Aşağıdaki hastalıklardan hangisi, vücudun herhangi bir yerindeki hücresel yapının bozulması sonucu kontrolsüz çoğalması ile oluşur?

- A) Grip
- B) Dizanteri
- C) Kolera
- D) Sıtma
- E) Kanser

17. Silvester yöntemi aşağıdakilerden hangisinde uygulanan yöntemlerden biridir?

- A) Solunum durmasında
- B) Kalp masajında
- C) Hasta taşımada
- D) Kanamalarda
- E) Yanıklarda

18. Bir canlıda meydana gelen yapım ve yıkım olaylarını içeren kimyasal tepkimelerin tümüne ne ad verilir?

- A) Anatomi
- B) Metabolizma
- C) Biyoloji
- D) Katılım
- E) Fizyoloji

19. Aşağıdakilerden hangisi güneş çarpması belirtilerinden biri değildir?

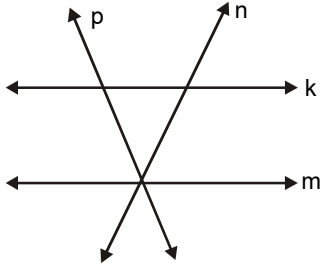
- A) Yorgunluk ve baş dönmesi
- B) Kusma, bulantı ve bilinç kaybı
- C) Canlılık ve hareketlilik
- D) Solgun ve sıcak deri
- E) Kas krampları

20. Aşağıdakilerden hangisi atardamar dış kanamalarının belirtilerinden biridir?

- A) Kanamanın koyu renkli ve kesik kesik olması
- B) Kanamanın açık renkli ve kalp atışıyla uyumlu kesik kesik olması
- C) Kanamanın koyu renkli ve sürekli akış halinde olması
- D) Kanamanın sızıntı halinde olması
- E) Kanamanın yavaş ve yoğun olması

2012 3D 0103-B

1.



Yukarıdaki doğrulardan hangileri birbirine paraleldir?

- A) k ve m
- B) m ve p
- C) p ve n
- D) n ve k
- E) p ve k

2. I. Bir doğru ile bir düzlemin ortak noktası yoksa, doğru düzleme paraleldir.
 II. Bir doğru ile bir düzlemin en az iki ortak noktası varsa, doğru düzlemin içindedir.
 III. Bir doğru ile bir düzlemin tek bir ortak noktası varsa, doğru düzlemin içindedir.

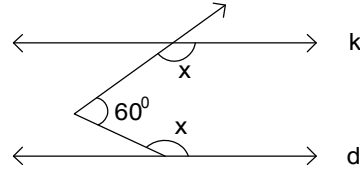
Yukarıdaki ifadelerden hangileri doğrudur?

- A) Yalnız I
- B) Yalnız II
- C) I ve II
- D) I ve III
- E) II ve III

3. Ölçüsü 60° olan bir açının tümlerinin ölçüsü ile bütünlerinin ölçüsünün toplamı kaç derecedir?

- A) 60
- B) 85
- C) 95
- D) 120
- E) 150

4.



Yukarıdaki şekilde k//d olduğuna göre, x açısının ölçüsü kaç derecedir?

- A) 120
- B) 130
- C) 140
- D) 150
- E) 160

5. Sayı ekseninde uçlarının koordinatları A(-10) ve B(+2) olan [AB] nın orta noktasının koordinatı kaçtır?

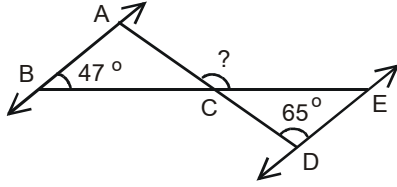
- A) -6
- B) -4
- C) -2
- D) 2
- E) 8

6. Doğru ile ilgili aşağıdaki ifadelerden hangisi yanlıştır?

- A) Düzlemde paralel olmayan farklı iki doğru en az iki noktada kesişir.
- B) Düzlemde paralel iki doğrudan biriyle kesişen bir doğru diğeriyle de kesişir.
- C) Düzlemde ortak bir noktaya sahip olmayan doğrular birbirine paraleldir.
- D) Düzlemde paralel iki doğrudan birine paralel olan bir doğru diğeriyle de paraleldir.
- E) Farklı iki noktayı üzerinde bulunduran tek bir doğru vardır.

2012 3D 0103-B

7.



Yukarıdaki şekilde ; $AB \parallel DE$, $m(\widehat{ABE}) = 47^\circ$ ve $m(\widehat{ADE}) = 65^\circ$ olduğuna göre, $m(\widehat{ACE})$ kaç derecedir?

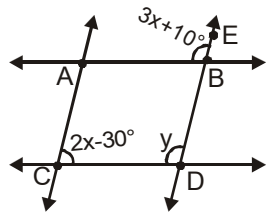
- A) 56
- B) 68
- C) 92
- D) 112
- E) 124

8.

A(-5), B(7) ve $\frac{|AC|}{|AB|} = \frac{1}{3}$ ise, [AB] üzerinde olan C noktasının koordinatı aşağıdakilerden hangisidir?

- A) -3
- B) -1
- C) 1
- D) 2
- E) 4

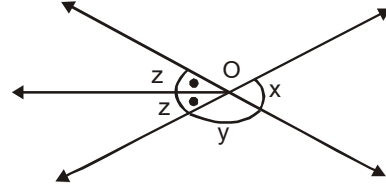
9.



Yukarıdaki şekilde $AB \parallel CD$, $AC \parallel BD$ $m(\widehat{ACD}) = 2x - 30^\circ$ ve $m(\widehat{EBA}) = 3x + 10^\circ$ olduğuna göre, y kaç derecedir?

- A) 100
- B) 110
- C) 115
- D) 120
- E) 130

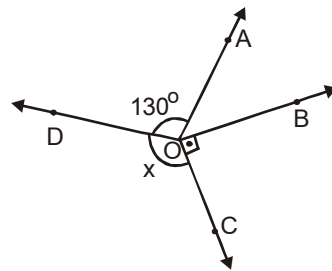
10.



Yukarıdaki şekilde $x + z = 120^\circ$ ise y kaç derecedir?

- A) 100
- B) 110
- C) 125
- D) 140
- E) 160

11.

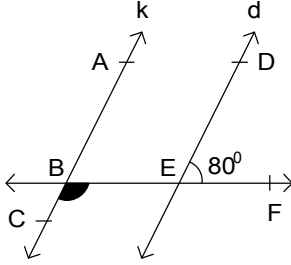


Yukarıdaki şekilde, $m(\widehat{DOA}) = 130^\circ$, $m(\widehat{BOC}) = 90^\circ$ $m(\widehat{DOC}) = x$ ve $m(\widehat{DOC}) = 4m(\widehat{AOB})$ ise, x kaç derecedir?

- A) 108
- B) 110
- C) 112
- D) 120
- E) 134

2012 3D 0103-B

12.



Yukarıdaki şekilde, $k//d$ ve $m(\widehat{DEF}) = 80^\circ$ olduğuna göre, $m(\widehat{CBF})$ açısı kaç derecedir?

- A) 80
- B) 100
- C) 120
- D) 150
- E) 190

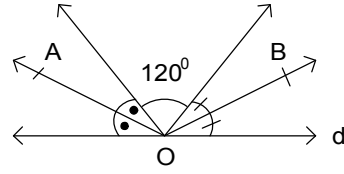
13. Sayı doğrusunda A(-12) ve B(+3) noktaları arasındaki uzaklık kaç birimdir?

- A) 3
- B) 7
- C) 9
- D) 12
- E) 15

14. Aşağıda ölçüleri verilen açılardan hangisi dar açıdır?

- A) 75
- B) 96
- C) 105
- D) 118
- E) 140

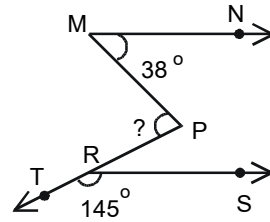
15.



Yukarıdaki şekle göre, $m(\widehat{AOB})$ kaç derecedir?

- A) 100
- B) 120
- C) 130
- D) 150
- E) 170

16.

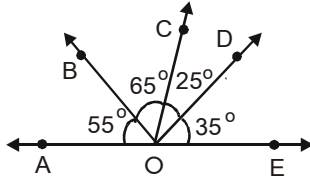


Şekilde, $[MN] // [RS]$ dir. $m(\widehat{PMN}) = 38^\circ$ $m(\widehat{TRS}) = 145^\circ$ olduğuna göre, $m(\widehat{MPR})$ kaç derecedir?

- A) 97
- B) 82
- C) 73
- D) 68
- E) 56

2012 3D 0103-B

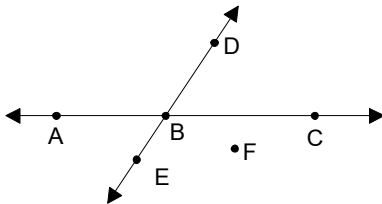
17.



Yukarıdaki şekle göre, aşağıdaki ifadelerden hangisi yanlıştır?

- A) \widehat{BOD} açısı, dik açıdır.
- B) \widehat{AOE} açısı, doğru açıdır.
- C) \widehat{BOE} açısı, geniş açıdır.
- D) \widehat{AOD} açısı, dar açıdır.
- E) \widehat{AOB} açısı, dar açıdır.

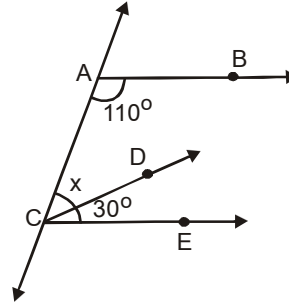
18.



Yukarıdaki noktalardan hangileri doğru - saldır?

- A) D, B, C
- B) A, B, F
- C) B, E, F
- D) A, C, F
- E) D, B, E

19.



Yukarıdaki şekilde $[AB \parallel [CE$
 $m(\widehat{CAB}) = 110^\circ$, $m(\widehat{DCE}) = 30^\circ$ ise,
 $m(\widehat{ACD}) = x$ kaç derecedir?

- A) 35
- B) 40
- C) 45
- D) 50
- E) 60

20. Tümler iki açıdan küçüğünün büyüğüne oranı 3 / 7 ise, büyük açı kaç derecedir?

- A) 46
- B) 52
- C) 58
- D) 63
- E) 74

SEÇMELİ TARİH 4

B

2012 3D 0103-B

1. I. Süt
II. Deri
III. Yapağı

Yukarıdakilerden hangileri Osmanlı ekonomisinde önemli bir besin kaynağı ve sanayi hammaddeleridir?

- A) Yalnız I
B) Yalnız II
C) I ve II
D) II ve III
E) I, II ve III

2. Aşağıdaki gazetelerden hangisi Osmanlı Devleti'nde çıkarılan özel gazetelerden biri değildir?

- A) Takvim-i Vekayi
B) Ceride-i Havadis
C) Hürriyet Gazetesi
D) İbret Gazetesi
E) Tercüman-ı Hakikat

3. Osmanlılarda, yeniçeri ocağının silahlarını yapan, onaran veya temin eden ocak aşağıdakilerden hangisidir?

- A) Humbaracı ocağı
B) Topçu ocağı
C) Lağımcı ocağı
D) Acemi ocağı
E) Cebeci ocağı

4. Aşağıdakilerden hangisi reâyânın özelliklerinden biri değildir?

- A) Askeri sınıfın dışında kalanlardan oluşması
B) Aynı dine mensup olanlardan oluşması
C) Geçimini tarım, hayvancılık, sanayi ve ticaretle uğraşarak sağlaması
D) Yönetilenlerden oluşması
E) Devlete vergi vermesi

5. İstanbul'da ilk matbaayı aşağıdakilerden hangisi kurmuştur?

- A) Münif Paşa
B) Şinasi
C) İbrahim Müteferrika
D) Ali Suavi
E) Namık Kemal

6. Aşağıdakilerden hangisi Mimar Sinan'ın kalfalık dönemi eseridir?

- A) Nuru Osmaniye camii
B) Selimiye camii
C) Şehzade camii
D) Süleymaniye camii
E) Sultan Ahmet camii

7. Aşağıdakilerden hangisi, tımar sisteminin Osmanlı Devleti'ne sağladığı faydalardan biri değildir?

- A) Devleti, vergi toplayıp hazineye aktarma ve yeniden maaş olarak dağıtma külfetinden kurtarması
B) Devletin, para harcamadan sürekli hazır bir orduya sahip olması
C) Toprağın sürekli işlenmesiyle, bol ürün elde edilmesi
D) Köylünün refah içinde yaşaması
E) Dirlik sahiplerinin, tüketime katkıda bulunarak örfi bir görevi yerine getirmesi

8. Konargöçerlerin devlete ödediği vergi aşağıdakilerden hangisidir?

- A) Ağıl vergisi
B) Meslek vergisi
C) Yararlanma vergisi
D) Katılım vergisi
E) İşgal vergisi

9. Osmanlı Devleti'nin medreselerinde öğretmenlik yapanlara verilen unvan aşağıdakilerden hangisidir?

- A) Şeyh
B) Kethuda
C) Naip
D) Müderris
E) Atabey

10. Köylünün elde ettiği ürün üzerinden sipahiye ödediği vergiye ne ad verilir?

- A) Dirlik
B) Çift resmi
C) Şerefiye
D) Tağşiş
E) Çiftbozan resmi

B

2012 3D 0103-B

11. Osmanlı Devleti'nde Müslüman olmayan halkın elinde bulunan topraklara ne ad verilir?

- A) Arz-ı miri
- B) Dirlik
- C) Öşriyye
- D) Paşmaklık
- E) Haraciye

12. Aşağıdakilerden hangisi tımar sistemi içinde üretim yapan köylülerin özelliklerinden biri değildir?

- A) Köylünün toprağını nedensiz yere terk edememesi
- B) Köylünün ürettiği ürünün vergisini, sipahiye ödemek zorunda olması
- C) Köylünün işlediği toprağın mülkiyetine sahip olması
- D) Köylünün toprağını üç yıl üst üste işlemeyen bırakmasının yasak olması
- E) Köylünün toprağını sürekli kullanma ve miras olarak bırakma hakkına sahip olması

13. Bir ülkede üretim, dağıtım ve tüketim ilişkilerinin tümüne birden ne ad verilir?

- A) Beşeri sermaye
- B) Üretim faktörleri
- C) Bütçe
- D) Ekonomi
- E) Kaynaklar

14. Osmanlı Devleti'nde eğitim anlayışının temel amacı aşağıdakilerden hangisidir?

- A) Toplumun kültürel faaliyetlerini artırmak
- B) Toplumun ilgisini sanatsal konulara çekmek
- C) Medreseleri artırmak
- D) İdeal insan tipini ortaya çıkarmak
- E) Okuma-yazma oranını artırmak

15. Azınlık okulları ile ilgili aşağıdaki ifadelerden hangisi yanlıştır?

- A) Tevhid-i Tedrisat Kanunu'na kadar azınlık ve yabancı okullar tam anlamıyla devlet denetimi altına alınamamıştır.
- B) Yahudilere ait azınlık okulu açılmasına izin verilmemiştir.
- C) Kilise dışında bağımsız azınlık okulları açılmıştır.
- D) Sadece batılı devletler değil İran ve Rusya da Osmanlı'da okul açmıştır.
- E) Azınlıklara ait okullar kiliselere bağlı olarak açılmıştır.

- 16. I. Mercimek Ahmet
- II. Kemalpaşa-zâde
- III. Ebussuud Efendi

Yukarıdakilerden hangileri klasik Osmanlı dönemi düşünce hayatını etkileyen bilim adamlarıdır?

- A) Yalnız I
- B) Yalnız II
- C) I ve II
- D) II ve III
- E) I, II ve III

17. Osmanlılarda eyaletin en yüksek rütbeli komutanı aşağıdakilerden hangisidir?

- A) Tımarlı sipahi
- B) Beylerbeyi
- C) Subaşı
- D) Alaybeyi
- E) Sancakbeyi

18. 17.yüzyılın en önemli eserlerinden biri olan İstanbul'daki Sultan Ahmet Camii'nin mimarı aşağıdakilerden hangisidir?

- A) Mehmet Ağa
- B) Mimar Sinan
- C) Mimar Kemaleddin
- D) Hacı Özbek
- E) Balyan Efendi

19. İkinci Viyana Kuşatması'ndan sonra, Osmanlı Devleti, içinde bulunduğu çöküntüden kurtulmak için öncelikle aşağıdaki alanların hangisinde yenileşme hareketi başlatmıştır?

- A) Hukuki
- B) Ticari
- C) Askeri
- D) Dini
- E) Felsefi

20. Aşağıdakilerden hangisi, Osmanlı toplum yapısında esnaf sınıfının en alt grubunu oluşturur?

- A) Usta
- B) Nakip
- C) Şeyh
- D) Yığıtbaşı
- E) Kethüda

Bu testin cevaplarını, cevap anahtarında YABANCI DİL 8 sütununa işaretleyiniz.

1. ich eine Erfinderin wäre,
würde ich eine neue Lernmaschine erfinden.

Welche Wörter passen in die obigen Lücken?

Cümlede boş bırakılan yerleri aşağıdakilerden hangileri doğru şekilde tamamlar?

- A) Wie / dessen
B) Weil / damit
C) Was / nur
D) Wo / somit
E) Wenn / dann

2. Ja, sie können auch aufs Gymnasium gehen.

Welche Frage paßt zur obigen Antwort?

Verilen cevabı gerektirecek soru aşağıdakilerden hangisidir?

- A) Können die Schüler, die eine Realschule besucht haben, aufs Gymnasium gehen?
B) Was möchtest du machen, wenn du das Gymnasium beendest?
C) Kannst du nach der Gesamtschule auch zur Berufsschule gehen?
D) Was müssen die Schüler machen, die im Ausland weiter studieren möchten?
E) Möchtest du nach dem Abitur an einer Universität oder bei einer Firma arbeiten?

3. Ist der Computer der Held der Zukunft?

Welche Antwort paßt zur obigen Frage?

Verilen sorunun cevabı aşağıdakilerden hangisidir?

- A) Nein, wir haben heute viele Hausaufgaben, die wir am Computer machen müssen.
B) Ja, ich finde, dass die Spiele im Computer sehr spannend sind.
C) Ja, du kannst an meinem Computer arbeiten, wenn du willst.
D) Ja, ich bin der Meinung, dass der Computer sehr wichtig für die Zukunft ist.
E) Nein, ich habe mir kein Computer gekauft, sondern geschenkt bekommen.

4. Im Sommer ist es wunderbar,
.....

Welches ergänzt die Lücke im obigen Satz?

Verilen cümleyi aşağıdakilerden hangisi tamamlar?

- A) wenn wir in Zukunft modern aussehen wollen.
B) weil wir dann viel Spaß in den Ferien haben.
C) weil ich noch viel arbeiten muss.
D) wenn wir eine wissenschaftliche Untersuchung machen müssen.
E) weil sie kein Benzin und Wasser brauchen.

5. hat man den schönsten Blick auf das Rheintal.

Welches ergänzt die Lücke im obigen Satz?

Verilen cümleyi aşağıdakilerden hangisi tamamlar?

- A) Zu den Felsen
B) In den Mythen
C) liegt direkt in der Mitte.
D) Über die Geschichte
E) Von der Hotelterrasse

6. Was bedeutet das Wort "entspannen" auf türkisch?

"entspannen" sözcüğünün Türkçesi aşağıdakilerden hangisidir?

- A) sunmak
B) gevşemek
C) vermek
D) eğlendirmek
E) geliştirmek

7. Ich mache eine Woche Urlaub und sie
..... wie ein Tag.

Welches Wort paßt in die obige Lücke?

Cümlede boş bırakılan yeri aşağıdakilerden hangisi doğru şekilde tamamlar?

- A) hat
B) kommt
C) liegt
D) vergeht
E) steht

2012 3D 0103-B

8. Albert Einstein,, veränderte mit seiner Theorie unser Weltbild.

Welches ergänzt die Lücke im obigen Satz?

Verilen cümleyi aşağıdakilerden hangisi tamamlar?

- A) das noch in die Schule geht
- B) den man erst neu kennen gelernt hat
- C) der ein genialer Wissenschaftler war
- D) die viele Erfahrungen haben
- E) der in Berlin lebt

9. Was willst du mal werden?

Welche Antwort paßt zur obigen Frage?

Verilen sorunun cevabı aşağıdakilerden hangisidir?

- A) Wir machen Forschungen an der Universität.
- B) Sie können im Museum arbeiten.
- C) Er hat eine eigene Autowerkstatt.
- D) Ich möchte Pferdezüchterin werden.
- E) Ich arbeite bei einer Umweltorganisation.

10. Wie lautet das Singular von "Die Pokale"?

"Die Pokale" sözcüğünün tekil hali aşağıdakilerden hangisidir?

- A) Der Pokal
- B) Die Pokal
- C) Dieses Pokal
- D) Den Pokal
- E) Dem Pokal

11. Entwickeln / ein / neues / will / Modell / er

Wie kann man mit den obigen Wortgruppen einen vollständigen Satz bilden?

Verilen sözcük gruplarıyla kurulabilecek en anlamlı ve doğru cümle aşağıdakilerden hangisidir?

- A) Entwickeln er will ein neues Modell.
- B) Modell er will entwickeln ein neues.
- C) Er will ein neues Modell entwickeln.
- D) Ein neues Modell er entwickeln will.
- E) Er ein neues Modell will entwickeln.

12. Das ist ein bekanntes deutsches Volkslied.

Welche Frage paßt zur obigen Antwort?

Verilen cevabı gerektirecek soru aşağıdakilerden hangisidir?

- A) Was ist die Loreley?
- B) Welche Lieder kennst du?
- C) Wie singt man diese Lieder?
- D) Wer kennt das Loreley-Lied?
- E) Wann wurde das Lied Loreley gedichtet?

13. Ekonomi danışmanı olmak istiyorum.

Wie lautet der obige Satz auf deutsch?

Verilen cümlelerin Almancası aşağıdakilerden hangisidir?

- A) Die Wirtschaft wird sich dieses Jahr verändern.
- B) Die Wirtschaft hat sich verbessert.
- C) Ich möchte Wirtschaftsberaterin werden.
- D) Ich möchte mich über die Wirtschaft beraten.
- E) Mein Freund ist Wirtschaftsberater geworden.

14. Was weißt du über Heinrich Heine?

Welche Antwort paßt zur obigen Frage?

Verilen sorunun cevabı aşağıdakilerden hangisidir?

- A) Heinrich Heine hat ein neues Rhythmusinstrument gebastelt.
- B) Heinrich Heine ist ein berühmter deutscher Dichter.
- C) Das ist unsere neue Lehrerin.
- D) Heinrich Heine hat viele Schiffe gebaut.
- E) Das ist ein Maler aus Frankreich.

2012 3D 0103-B

15. A: Welche Mythen gibt es in der Türkei?
 B: Wenn du mehr wissen möchtest,

 A: Ja, da hast du Recht.

Welches ergänzt die Lücke im obigen Dialog?

Verilen karşılıklı konuşmada boş bırakılan yeri aşağıdakilerden hangisi tamamlar?

- A) darf sie sich in der Klasse umschauen.
 B) soll sie viele Informationen vortragen.
 C) kann sie in die Stadt gehen.
 D) musst du dich dafür interessieren.
 E) dann kannst du ins Internet gehen.
16. Es ist Zeit, wir unsere Hausaufgaben machen.
- Welches Wort paßt in die obige Lücke?**
- Cümlede boş bırakılan yeri aşağıdakilerden hangisi doğru şekilde tamamlar?**
- A) dann
 B) dessen
 C) dass
 D) damit
 E) denn
17. Was bedeutet das Gegenteil von "der Ärger"?
- "der Ärger" sözcüğünün zıt anlamlısı aşağıdakilerden hangisidir?**
- A) die Freude
 B) die Unruhe
 C) die Unzufriedenheit
 D) die Folge
 E) die Spannung
18. Yol levhasında birkaç şehir ve birkaç yer adı var.
- Welche Antwort paßt zur obigen Frage?**
- Verilen sorunun cevabı aşağıdakilerden hangisidir?**
- A) Hier auf dem Wegweiser sehen Sie eine Postkarte von einigen Städten.
 B) Die Landkarte ist hier zu sehen.
 C) In den Besucherzentren finde Sie ausführliche Auskunft.
 D) Der Wegweiser zeigt uns viele Lieder und Balladen.
 E) Auf dem Wegweiser stehen einige Städte und Orte.

19. Im Museum kann viele Informationen

Welche Wörter passen in die obigen Lücken?

Cümlede boş bırakılan yerleri aşağıdakilerden hangileri doğru şekilde tamamlar?

- A) am / sehen
 B) man / erhalten
 C) für / lernen
 D) aus / finden
 E) zum / nehmen

20. Die Städte haben Probleme:
 Lärm und Abgase.

Welche Wörter passen in die obigen Lücken?

Cümlede boş bırakılan yerleri aşağıdakilerden hangileri doğru şekilde tamamlar?

- A) unteren / Zu
 B) manche / Nur
 C) jeden / So
 D) großen/ Viel
 E) kleine / Wie

FRANSIZCA 8

B

2012 3D 0103-B

Bu testin cevaplarını, cevap anahtarında YABANCI DİL 8 sütununa işaretleyiniz.

1. Elle est en retard un accident sur la route.

Choisissez le mot qui convient.

Cümledeki boşluğu aşağıdakilerden hangisi doğru şekilde tamamlar?

- A) qui
- B) à l'absence d'
- C) si
- D) pourquoi
- E) à cause d'

2. fait / choix / avez / votre / vous ?
I II III IV V

Mettez dans le bon ordre.

Yukarıdaki kelimelerin anlamlı ve kurallı bir cümle oluşturan sırası aşağıdakilerin hangisinde doğru olarak verilmiştir?

- A) V, III, I, IV, II
- B) V, IV, II, III, I
- C) IV, II, III, I, V
- D) III, IV, V, I, II
- E) III, I, V, IV, II

3. - Tu ne prends pas de dessert?
- Non, je ne(n') veux pas.

Choisissez le mot qui convient.

Yukarıdaki konuşmada boş bırakılan yeri aşağıdakilerden hangisi doğru şekilde tamamlar?

- A) suis
- B) la
- C) y
- D) en
- E) rien

4. Il peut pleuvoir; n'oubliez pas prendre votre parapluie.

Choisissez le mot qui convient.

Cümledeki boşluğu aşağıdakilerden hangisi doğru şekilde tamamlar?

- A) en
- B) de
- C) sans
- D) à
- E) qui

5. pense à soi-même.

Choisissez le mot qui convient.

Cümledeki boşluğu aşağıdakilerden hangisi doğru şekilde tamamlar?

- A) Toi
- B) Comment
- C) Qui
- D) Comme
- E) Chacun

6. Il va aller chercher le livre son professeur demande.

Choisissez le mot qui convient.

Cümledeki boşluğu aşağıdakilerden hangisi doğru şekilde tamamlar?

- A) à
- B) que
- C) où
- D) qui
- E) sur

7. Elle n'aime pas la campagne. Elle est la ville.

Choisissez le mot qui convient.

Cümledeki boşluğu aşağıdakilerden hangisi doğru şekilde tamamlar?

- A) contre
- B) avec
- C) par
- D) pour
- E) sur

B

2012 3D 0103-B

8. Tu ne penses pas y aller?

Choisissez la traduction qui convient.

Yukarıdaki cümlelerin Türkçe karşılığı aşağıdakilerden hangisidir?

- A) Gideceğin yer neresi?
- B) Oraya gitmeyi düşünüyor musun?
- C) Oraya gitmeyi düşünmez misin?
- D) Orada ne kadar kalacaksın?
- E) Oraya nasıl gideceksin?

9. Il est en section scientifique il donne plus d'importance aux Maths.

Choisissez le mot qui convient.

Cümledeki boşluğu aşağıdakilerden hangisi doğru şekilde tamamlar?

- A) bon
- B) avec
- C) ou
- D) donc
- E) trop

10. Connaissez-vous ce musicien est allemand?

Choisissez le mot qui convient.

Cümledeki boşluğu aşağıdakilerden hangisi doğru şekilde tamamlar?

- A) qui
- B) donc
- C) où
- D) quel
- E) pas

11. - Le fondateur de la Turquie, c'est ?
- C'est Atatürk.

Choisissez le mot qui convient.

Yukarıdaki konuşmada boş bırakılan yeri aşağıdakilerden hangisi doğru şekilde tamamlar?

- A) comment
- B) ça
- C) qui
- D) quand
- E) où

12. - Qu'est-ce que vous préférez? Le cinéma le théâtre?
- Le théâtre, bien sûr.

Choisissez le mot qui convient.

Yukarıdaki konuşmada boş bırakılan yeri aşağıdakilerden hangisi doğru şekilde tamamlar?

- A) ou
- B) avec
- C) et
- D) que
- E) ni

13. Je voudrais deux places pour Avatar.

Choisissez le mot qui convient.

Cümledeki boşluğu aşağıdakilerden hangisi doğru şekilde tamamlar?

- A) agréer
- B) dîner
- C) réserver
- D) souvenir
- E) aller

14. La semaine prochaine, il au Portugal.

Choisissez le mot qui convient.

Cümledeki boşluğu aşağıdakilerden hangisi doğru şekilde tamamlar?

- A) était
- B) sera
- C) a
- D) est allé
- E) es

15. A - Demain matin, je vais partir au Japon.
B -
A - Merci.

Choisissez l'expression qui convient.

Yukarıdaki konuşmada boş bırakılan yeri aşağıdakilerden hangisi doğru şekilde tamamlar?

- A) Bonne anniversaire!
- B) Bonne nuit!
- C) Bon appétit!
- D) Bon courage!
- E) Bon voyage!

2012 3D 0103-B

16. te / tôt / devrais / tu / coucher
I II III IV V

Mettez dans le bon ordre.

Yukarıdaki kelimelerin kurallı ve anlamlı bir bütün oluşturan dizilişi aşağıdakilerin hangisinde doğru olarak verilmiştir?

- A) III, IV, II, V, I
B) IV, I, V, III, II
C) IV, III, I, V, II
D) V, IV, I, III, II
E) V, II, IV, I, III

17. Si j'ai beaucoup d'argent, je(j') faire un tour de monde.

Choisissez le mot qui convient.

Cümledeki boşluğu aşağıdakilerden hangisi doğru şekilde tamamlar?

- A) vais
B) suis allé
C) allais
D) en
E) y

18., nous sommes allés au concert.

Choisissez le mot qui convient.

Cümledeki boşluğu aşağıdakilerden hangisi doğru şekilde tamamlar?

- A) C'était
B) Demain
C) Chacun
D) Le mois prochain
E) Hier

19. C'est une ville; je l'aime beaucoup.

Choisissez le mot qui convient.

Cümledeki boşluğu aşağıdakilerden hangisi doğru şekilde tamamlar?

- A) patient
B) tranquille
C) déçu
D) gentil
E) intelligent

20. Mon ami a de mauvaises notes en littéraires. Il dire la vérité à ses parents.

Choisissez le mot qui convient.

Cümledeki boşluğu aşağıdakilerden hangisi doğru şekilde tamamlar?

- A) encouragement
B) pardonnez
C) soutien
D) hésite
E) obligé

İNGİLİZCE 8

B

2012 3D 0103-B

Bu testin cevaplarını, cevap anahtarında
YABANCI DİL 8 sütununa işaretleyiniz.

1. Jane : Is there money in the wallet?
John : Yes, there is.

Which of the following completes the dialogue above?

Aşağıdakilerden hangisi yukarıdaki konuşmayı doğru olarak tamamlar?

- A) a few
- B) very
- C) many
- D) either
- E) any

2. Joe : Are there any apples in the basket?
Carol : Yes there are apples in the basket.

Which of the following completes the dialogue above?

Aşağıdakilerden hangisi yukarıdaki konuşmayı doğru olarak tamamlar?

- A) a few
- B) much
- C) a lot
- D) any
- E) a little

3. Terry : How was the film last night?
Jane : Oh, terrible. It was film I have ever seen.

Which of the following completes the dialogue above?

Aşağıdakilerden hangisi yukarıdaki konuşmayı doğru olarak tamamlar?

- A) worse
- B) the best
- C) bad
- D) the worst
- E) better

4. Michael Jackson is famous pop star in the world.

Which of the following completes the sentence above?

Aşağıdakilerden hangisi yukarıdaki cümleyi doğru olarak tamamlar?

- A) much
- B) the most
- C) more
- D) most
- E) less

5. John is 15 years old. Mike is 18 years old. John is than Mike.

Which of the following completes the sentence above?

Aşağıdakilerden hangisi yukarıdaki cümleyi doğru olarak tamamlar?

- A) older
- B) longer
- C) funnier
- D) cleverer
- E) younger

6. Kerem : What did you do last night?
Cenk : I English.

Which of the following completes the dialogue above?

Aşağıdakilerden hangisi yukarıdaki konuşmayı doğru olarak tamamlar?

- A) will study
- B) studied
- C) study
- D) studying
- E) studies

B

2012 3D 0103-B

7. Mary : How money is there in the wallet?
Jill : There is a little.

Which of the following completes the dialogue above?

Aşağıdakilerden hangisi yukarıdaki konuşmayı doğru olarak tamamlar?

- A) some
- B) many
- C) more
- D) much
- E) any

8. Jane : What is James going to do tonight?
Carol : He TV .

Which of the following completes the dialogue above?

Aşağıdakilerden hangisi yukarıdaki konuşmayı doğru olarak tamamlar?

- A) has watched
- B) watch
- C) is going to watch
- D) watched
- E) watching

9. Tom : Here is Sue. Ask her where John is.
Mike : Where John?
Sue : He is in the classroom.

Which of the following completes the dialogue above?

Aşağıdakilerden hangisi yukarıdaki konuşmayı doğru olarak tamamlar?

- A) did
- B) has been
- C) was
- D) is
- E) does

10. Sam : How bananas are there in the basket?
Jack : There are a few.

Which of the following completes the dialogue above?

Aşağıdakilerden hangisi yukarıdaki konuşmayı doğru olarak tamamlar?

- A) many
- B) some
- C) any
- D) much
- E) more

11. He said, "I can swim well."
He said that swim well.

Which of the following completes the sentence above?

Aşağıdakilerden hangisi yukarıdaki cümleyi doğru olarak tamamlar?

- A) I can
- B) he can
- C) he could
- D) he was able to
- E) I could

12. Amy : Is there anything in the refrigerator?
Bob : Yes, there are three

Which of the following completes the dialogue above?

Aşağıdakilerden hangisi yukarıdaki konuşmayı doğru olarak tamamlar?

- A) apples
- B) cheese
- C) milk
- D) apple
- E) honey

2012 3D 0103-B

13. The concert had just finished Sally arrived.

Which of the following completes the sentence above?

Aşağıdakilerden hangisi yukarıdaki cümleyi doğru olarak tamamlar?

- A) where
- B) whether
- C) when
- D) while
- E) that

14. The Suez Canal in the nineteenth century.

Which of the following completes the sentence above?

Aşağıdakilerden hangisi yukarıdaki cümleyi doğru olarak tamamlar?

- A) has built
- B) was built
- C) built
- D) is built
- E) build

15. Are apples?

Which of the following completes the sentence above?

Aşağıdakilerden hangisi yukarıdaki cümleyi doğru olarak tamamlar?

- A) this
- B) why
- C) when
- D) then
- E) those

16. Sally : Is the cat sleeping at the moment?
Tim : No it isn't. But it usually on the sofa.

Which of the following completes the dialogue above?

Aşağıdakilerden hangisi yukarıdaki konuşmayı doğru olarak tamamlar?

- A) sleeping
- B) slept
- C) sleeps
- D) sleep
- E) has slept

17. Sandy is than Brenda.

Which of the following completes the sentence above?

Aşağıdakilerden hangisi yukarıdaki cümleyi doğru olarak tamamlar?

- A) more beautiful
- B) beautiful
- C) the least beautiful
- D) the most beautiful
- E) most beautiful

18. are oranges?

Which of the following completes the sentence above?

Aşağıdakilerden hangisi yukarıdaki cümleyi doğru olarak tamamlar?

- A) It
- B) This
- C) When
- D) That
- E) These

19. There aren't apples in the cupboard.

Which of the following completes the sentence above?

Aşağıdakilerden hangisi yukarıdaki cümleyi doğru olarak tamamlar?

- A) some
- B) any
- C) very
- D) much
- E) a little

20. Ken used to piano when he was five.

Which of the following completes the sentence above?

Aşağıdakilerden hangisi yukarıdaki cümleyi doğru olarak tamamlar?

- A) playing
- B) will play
- C) plays
- D) play
- E) played

SEÇMELİ DİL ve ANLATIM 6

B

2012 3D 0103-B

1. Mülakatla ilgili aşağıdaki ifadelerden hangisi yanlıştır?

- A) Görüşülecek kişiden önceden randevu alınmalıdır.
- B) Öğretici ve ufuk açııcıdır.
- C) Mülakat yapan kişi sabırlı, dikkatli ve nazik olmalıdır.
- D) Alınan cevaplar aynen ve yorumlanmadan yayımlanır.
- E) Görüşülecek kişi sıradan bir kişi olabilir.

2. Aşağıdaki sözcüklerin hangisinde hem yapım hem de çekim eki vardır?

- A) Kitabın
- B) Yapıcı
- C) Sözlüğü
- D) Masayı
- E) Yazıcı

3. Aşağıdakilerin hangisi isimden türemiş bir sözcüktür?

- A) Sevindir
- B) Süzme
- C) Alıcı
- D) Bakış
- E) Gözlük

4. Genellikle parlamentolarda, diplomatik toplantılarda, mitinglerde söylenen söylevler aşağıdakilerden hangisidir?

- A) Askerî söylev
- B) Hukuksal söylev
- C) Siyasi söylev
- D) Dinsel söylev
- E) Akademik söylev

5. Aşağıdakilerden hangisi birleşik sözcük değildir?

- A) Uyurgezer
- B) Sonsuzluk
- C) Gecekondü
- D) Mirasyedi
- E) Kuşburnu

6. Aşağıdakilerden hangisi isimden türemiştir?

- A) Örgü
- B) Saygı
- C) Yazıcı
- D) Sorgucu
- E) Gözcü

7. Aşağıdakilerin hangisinde birleşik sözcük iki isimden oluşmuştur?

- A) Kitapsever
- B) Biçerdöver
- C) Yılbaşı
- D) Kapkaç
- E) Atardamar

8. Aşağıdakilerden hangisi söylev türlerinden biri değildir?

- A) Akademik
- B) Dinsel
- C) Siyasi
- D) Edebi
- E) Askeri

9. Aşağıdakilerin hangisinde birden fazla yapım eki yoktur?

- A) Tatlıcı
- B) Sevinçli
- C) Saygınlık
- D) Solak
- E) Gözlüklü

10. Aşağıdakilerin hangisinde tüm sözcükler türemiştir?

- A) Ağız-çimen-ağaç
- B) Verici-sorgu-sayı
- C) Şut-kale-maç
- D) Sisli-yağmur-gül
- E) Saygı-kök-yapı

11. Aşağıdakilerin hangisinde basit yapılı sözcükler birlikte ve doğru olarak verilmiştir?

- A) Koku-sıra-sayıcı
- B) İyi-kare-haber
- C) Sucu-doğruluk-yanlış
- D) Yazgı-soru-bilim
- E) Hatır-silgi-borçlu

B

2012 3D 0103-B

12. Aşağıdaki cümlelerden hangisinde birleşik sözcük yoktur?

- A) En sevdiğim çiçek hanımelidir.
- B) Bilgisayarım bozuldu.
- C) Teyzem imambayıldı pişirmiş.
- D) Masadaki kitabı verir misin?
- E) Gökyüzünden bir yıldız seç.

13. Aşağıdakilerden hangisi sadece bir yapım eki almıştır?

- A) Sorgucu
- B) Soyguncu
- C) Suçlu
- D) Korkuluğu
- E) Bozgunculuk

14. Aşağıdaki sözcüklerden hangisi farklı cinsten bir kökten türemiştir?

- A) Başkan
- B) Saygın
- C) Durgun
- D) Solgun
- E) Suskun

15. Aşağıdakilerden hangisi röportajın özellikleri arasında yer almaz?

- A) Röportaj, devam eden yazılar biçiminde olamaz, tek bir yazıda tüm bilgiler özetlenmelidir.
- B) Röportajcı gördükleri ve izlenimleriyle yetinmeyip araştırma ve inceleme de yapar.
- C) Röportaja ses kayıtları, belge ve fotoğraflar da eklenebilir.
- D) Röportajcının amacı konuyu çarpıtmadan belgesel olarak okuyucuya sunmak ve okuyucuyu konunun içinde yaşatmaktır.
- E) Röportajı yapan kişi, röportajında elde ettiği bilgilerle kendi görüş ve düşüncelerine de yer verir.

16. "Onuncu Yıl Nutku" tür olarak aşağıdakilerden hangisine örnektir?

- A) Hitabete
- B) Mülakata
- C) Denemeye
- D) Fıkra
- E) Mektuba

17. Herhangi bir konu ya da sorunun değişik boyutlarıyla ele alınıp işlendiği gazete ve dergi yazılarına ne ad verilir?

- A) Sohbet
- B) Röportaj
- C) Deneme
- D) Fıkra
- E) Makale

18. Bir topluluk önünde belirli bir konuda yapılan etkili ve inandırıcı konuşmalara ne ad verilir?

- A) Söylev
- B) Panel
- C) Mülakat
- D) Forum
- E) İletişim

19. Aşağıdakilerden hangisi iki isimden oluşmuş bir birleşik sözcüktür?

- A) Bilgisayar
- B) Kapkaç
- C) Çekyat
- D) Alışveriş
- E) Anneanne

20. Aşağıdaki cümlelerden hangisinde türemiş sözcük yoktur?

- A) Sınırsızca tüketiyoruz doğayı.
- B) Sonsuzlukta kaybolasım var.
- C) Saygıda kusur etmiyor.
- D) Elden ne gelir?
- E) Eğitim, bilinçlenmek için yeterli mi?

SEÇMELİ ALMANCA 8

B

2012 3D 0103-B

Bu testin cevaplarını, cevap anahtarında
SEÇMELİ YABANCI DİL 8 sütununa
işaretleyiniz.

1. Warum machen Menschen Ferien?

Welche Antwort paßt zur obigen Frage?

Verilen sorunun cevabı aşağıdakilerden hangisidir?

- A) Nein, wir kommen nicht mit.
- B) Ich habe mir ein Fahrrad gekauft.
- C) Um sich zu entspannen.
- D) Du bekommst ein Fahrrad zum Geburtstag.
- E) Ja, ich habe ein Fahrrad.

2. A: Hallo, wann du den Bericht?
B: Hallo, ich möchte es heute vortragen.
A: Dann wünsche ich dir viel Erfolg!

Welches ergänzt die Lücke im obigen Dialog?

Verilen karşılıklı konuşmada boş bırakılan yeri aşağıdakilerden hangisi tamamlar?

- A) tragen / ein
- B) ein / trägt
- C) vor / trägt
- D) trägst / vor
- E) vor / tragen

3. Im Museum kann viele Informationen
.....

Welche Wörter passen in die obigen Lücken?

Cümlede boş bırakılan yerleri
aşağıdakilerden hangileri doğru şekilde
tamamlar?

- A) für / lernen
- B) zum / nehmen
- C) am / sehen
- D) man / erhalten
- E) aus / finden

4. Ich mache eine Woche Urlaub und sie
..... wie ein Tag.

Welches Wort paßt in die obige Lücke?

Cümlede boş bırakılan yeri aşağıdakilerden
hangisi doğru şekilde tamamlar?

- A) hat
- B) steht
- C) liegt
- D) kommt
- E) vergeht

5. Ich möchte Lehrerin werden.

Welche Frage paßt zur obigen Antwort?

Verilen cevabı gerektirecek soru
aşağıdakilerden hangisidir?

- A) Wovon hast du geträumt?
- B) Was ist dein Traumberuf?
- C) Wo arbeiten Sie?
- D) Träumst du jede Nacht?
- E) Möchtest du Pilot werden?

6. Ein Velotaxi, sondern nur
menschliche Energie.

Welches ergänzt die Lücke im obigen Satz?

Verilen cümleyi aşağıdakilerden hangisi
tamamlar?

- A) lieben besonders die Touristen
- B) braucht kein Benzin
- C) haben mehr Sonne
- D) hat viel Wasser
- E) spart viel Geld

7. hat man den schönsten
Blick auf das Rheintal.

Welches ergänzt die Lücke im obigen Satz?

Verilen cümleyi aşağıdakilerden hangisi
tamamlar?

- A) Liegt direkt in der Mitte
- B) Unter dem Tisch
- C) Für den Mythen
- D) Von der Hotelterrasse
- E) Über die Geschichte

B

2012 3D 0103-B

8. Albert Einstein,, veränderte mit seiner Theorie unser Weltbild.

Welches ergänzt die Lücke im obigen Satz?

Verilen cümleyi aşağıdakilerden hangisi tamamlar?

- A) der ein genialer Wissenschaftler war
- B) die viele Erfahrungen haben
- C) das noch in die Schule geht
- D) den man erst neu kennen gelernt hat
- E) der in Berlin lebt

9. A: Welche Mythen gibt es in der Türkei?
B: Wenn du mehr wissen möchtest,
.....

A: Ja, da hast du Recht.

Welches ergänzt die Lücke im obigen Dialog?

Verilen karşılıklı konuşmada boş bırakılan yeri aşağıdakilerden hangisi tamamlar?

- A) interessiert er sich dafür.
- B) soll sie viele Informationen vortragen.
- C) darf sie sich in der Klasse umschauen.
- D) dann kannst du es im Internet finden.
- E) kann sie in die Stadt gehen.

10. Im Sommer ist es wunderbar,
.....

Welches ergänzt die Lücke im obigen Satz?

Verilen cümleyi aşağıdakilerden hangisi tamamlar?

- A) wenn wir eine wissenschaftliche Untersuchung machen müssen.
- B) weil sie kein Benzin und Wasser brauchen.
- C) weil wir dann viel Spaß in den Ferien haben.
- D) wenn wir in Zukunft modern aussehen wollen.
- E) weil ich noch viel arbeiten muss.

11. Ekonomi danışmanı olmak istiyorum.

Wie lautet der obige Satz auf deutsch?

Verilen cümlelerin Almancası aşağıdakilerden hangisidir?

- A) Ich möchte Wirtschaftsberaterin werden.
- B) Die Wirtschaft hat sich verbessert.
- C) Ich möchte mich über die Wirtschaft beraten.
- D) Die Wirtschaft wird sich dieses Jahr verändern.
- E) Mein Freund ist Wirtschaftsberater geworden.

12. Ich möchte Architektin

Welches Wort paßt in die obige Lücke?

Cümlede boş bırakılan yeri aşağıdakilerden hangisi doğru şekilde tamamlar?

- A) würdest
- B) werden
- C) wirst
- D) sollst
- E) würden

13. nannte man es Zweirad, wird es Fahrrad genannt.

Welche Wörter passen in die obigen Lücken?

Cümlede boş bırakılan yerleri aşağıdakilerden hangileri doğru şekilde tamamlar?

- A) Nie / wie
- B) Jetzt / etwas
- C) Um / zu
- D) Immer / nur
- E) Früher / heute

14. Die Städte haben Probleme: Lärm und Abgase.

Welche Wörter passen in die obigen Lücken?

Cümlede boş bırakılan yerleri aşağıdakilerden hangileri doğru şekilde tamamlar?

- A) manche / Nur
- B) großen/ Viel
- C) unteren / Zu
- D) kleine / Wie
- E) jeden / So

2012 3D 0103-B

15. Meine Freundin geht Gymnasium.

Welches Wort paßt in die obige Lücke?

Cümlede boş bırakılan yeri aşağıdakilerden hangisi doğru şekilde tamamlar?

- A) vor
B) in
C) aufs
D) zu
E) über

16. Computer / weg / denken / heute / zu / der / ist / nicht

Wie kann man mit den obigen Wortgruppen einen vollständigen Satz bilden?

Verilen sözcük gruplarıyla kurulabilecek en anlamlı ve doğru cümle aşağıdakilerden hangisidir?

- A) Der heute Computer nicht ist wegzudenken.
B) Wegzudenken der Computer ist heute nicht.
C) Heute der Computer ist wegzudenken nicht.
D) Nicht der Computer heute wegzudenken ist.
E) Der Computer ist heute nicht wegzudenken.

17. Wie lautet das Singular von "Die Pokale"?

"Die Pokale" sözcüğünün tekil hali aşağıdakilerden hangisidir?

- A) Der Pokal
B) Die Pokal
C) Dieses Pokal
D) Den Pokal
E) Dem Pokal

18. Die Stadt Koblenz liegt links am Rhein.

Welche Frage paßt zur obigen Antwort?

Verilen cevabı gerektirecek soru aşağıdakilerden hangisidir?

- A) Wo liegt die Stadt Koblenz?
B) Warst du schon mal in Koblenz?
C) Wie komme ich nach Koblenz?
D) Wer fährt nach Koblenz?
E) Was willst du in Koblenz machen?

19. Ja, sie können auch aufs Gymnasium gehen.

Welche Frage paßt zur obigen Antwort?

Verilen cevabı gerektirecek soru aşağıdakilerden hangisidir?

- A) Möchtest du nach dem Abitur an einer Universität oder bei einer Firma arbeiten?
B) Was müssen die Schüler machen, die im Ausland weiter studieren möchten?
C) Was möchtest du machen, wenn du das Gymnasium beendest?
D) Kannst du nach der Gesamtschule auch zur Berufsschule gehen?
E) Können die Schüler, die eine Realschule besucht haben, aufs Gymnasium gehen?

20. Der Rhein ist Fluss von Deutschland.

Welches Wort paßt in die obige Lücke?

Cümlede boş bırakılan yeri aşağıdakilerden hangisi doğru şekilde tamamlar?

- A) länger
B) am langten
C) der längste
D) der langem
E) lang

SEÇMELİ FRANSIZCA 8

B

2012 3D 0103-B

Bu testin cevaplarını, cevap anahtarında SEÇMELİ YABANCI DİL 8 sütununa işaretleyiniz.

1. j'ai le temps, je peux vous aider.

Choisissez le mot qui convient.

Cümledeki boşluğu aşağıdakilerden hangisi doğru şekilde tamamlar?

- A) Il faut
- B) Pour
- C) Si
- D) Contre
- E) À cause de

2. de litres d'eau vous buvez par jour?

Choisissez le mot qui convient.

Cümledeki boşluğu aşağıdakilerden hangisi doğru şekilde tamamlar?

- A) Chacun
- B) Quand
- C) Est-ce que
- D) Combien
- E) Dans

3. - Tu ne prends pas de boisson?
- Non, merci, je ne(n') prends pas.

Choisissez le mot qui convient.

Yukarıdaki konuşmada boş bırakılan yeri aşağıdakilerden hangisi doğru şekilde tamamlar?

- A) jamais
- B) les
- C) y
- D) en
- E) la

4. Marie est contre la vie en ville.

Choisissez la traduction qui convient.

Yukarıdaki cümlelerin Türkçe karşılığı aşağıdakilerden hangisidir?

- A) Marie şehirde yaşamak istiyor.
- B) Marie oturduğu şehri çok seviyor.
- C) Marie için şehir hayatı zordur.
- D) Marie şehirde yaşamayı kolay buluyor.
- E) Marie şehir hayatına karşıdır.

5. La cliente :

Le serveur : Tout de suite, Madame.

Choisissez la réplique qui convient.

Yukarıdaki konuşmada boş bırakılan yeri aşağıdakilerden hangisi doğru şekilde tamamlar?

- A) Chacun paie sa part?
- B) Monsieur, l'addition s'il vous plaît!
- C) C'est trop pour moi!
- D) Vous prenez un thé?
- E) Vous voulez commander quelque chose?

6. Si vous avez soif, de l'eau.

Choisissez le mot qui convient.

Cümledeki boşluğu aşağıdakilerden hangisi doğru şekilde tamamlar?

- A) soyez
- B) buvez
- C) pris
- D) mangez
- E) oubliez

B

2012 3D 0103-B

7. La noir est une couleur je préfère.

Choisissez le mot qui convient.

Cümledeki boşluğu aşağıdakilerden hangisi doğru şekilde tamamlar?

- A) où
- B) qui
- C) donc
- D) que
- E) par

8. - Il vit en Angleterre?
- Oui, il travaille.

Choisissez le mot qui convient.

Yukarıdaki konuşmada boş bırakılan yeri aşağıdakilerden hangisi doğru şekilde tamamlar?

- A) y
- B) en
- C) dans
- D) le
- E) est

9. Le mois prochain, nous en France.

Choisissez le mot qui convient.

Cümledeki boşluğu aşağıdakilerden hangisi doğru şekilde tamamlar?

- A) ira
- B) sont
- C) avons
- D) irons
- E) allez

10. Il peut pleuvoir; n'oubliez pas prendre votre parapluie.

Choisissez le mot qui convient.

Cümledeki boşluğu aşağıdakilerden hangisi doğru şekilde tamamlar?

- A) sans
- B) qui
- C) de
- D) à
- E) en

11. Si j'ai beaucoup d'argent, je(j') faire un tour de monde.

Choisissez le mot qui convient.

Cümledeki boşluğu aşağıdakilerden hangisi doğru şekilde tamamlar?

- A) vais
- B) suis allé
- C) allais
- D) en
- E) y

12. Tu ne penses pas y aller?

Choisissez la traduction qui convient.

Yukarıdaki cümlelerin Türkçe karşılığı aşağıdakilerden hangisidir?

- A) Oraya gitmeyi düşünüyor musun?
- B) Oraya gitmeyi düşünmez misin?
- C) Orada ne kadar kalacaksın?
- D) Oraya nasıl gideceksin?
- E) Gideceğin yer neresi?

13. Je suis le théâtre au cinéma.

Choisissez le mot qui convient.

Cümledeki boşluğu aşağıdakilerden hangisi doğru şekilde tamamlar?

- A) à
- B) dans
- C) qui
- D) du
- E) pour

14. Il est en section scientifique il donne plus d'importance aux Maths.

Choisissez le mot qui convient.

Cümledeki boşluğu aşağıdakilerden hangisi doğru şekilde tamamlar?

- A) avec
- B) donc
- C) bon
- D) trop
- E) ou

2012 3D 0103-B

15. Elle a invitée ses amis pour anniversaire.

Choisissez le mot qui convient.**Cümledeki boşluğu aşağıdakilerden hangisi doğru şekilde tamamlar?**

- A) ses
- B) ta
- C) son
- D) leur
- E) les

16. Peux-tu présenter s'il te plait?

Choisissez le mot qui convient.**Cümledeki boşluğu aşağıdakilerden hangisi doğru şekilde tamamlar?**

- A) nous
- B) vous
- C) ton
- D) leur
- E) te

17. fait / choix / avez / votre / vous ?

I II III IV V

Mettez dans le bon ordre.**Yukarıdaki kelimelerin anlamlı ve kurallı bir cümle oluşturan sırası aşağıdakilerin hangisinde doğru olarak verilmiştir?**

- A) V, III, I, IV, II
- B) V, IV, II, III, I
- C) IV, II, III, I, V
- D) III, IV, V, I, II
- E) III, I, V, IV, II

18. pense à soi-même.

Choisissez le mot qui convient.**Cümledeki boşluğu aşağıdakilerden hangisi doğru şekilde tamamlar?**

- A) Chacun
- B) Comme
- C) Qui
- D) Toi
- E) Comment

19. - Le fondateur de la Turquie, c'est ?
- C'est Atatürk.**Choisissez le mot qui convient.****Yukarıdaki konuşmada boş bırakılan yeri aşağıdakilerden hangisi doğru şekilde tamamlar?**

- A) comment
- B) ça
- C) quand
- D) où
- E) qui

20. Elle lit 2 livres mois.

Choisissez le mot qui convient.**Cümledeki boşluğu aşağıdakilerden hangisi doğru şekilde tamamlar?**

- A) chacune
- B) la
- C) par
- D) dans
- E) en

SEÇMELİ İNGİLİZCE 8

B

2012 3D 0103-B

Bu testin cevaplarını, cevap anahtarında SEÇMELİ YABANCI DİL 8 sütununa işaretleyiniz.

1. Mike is cleverest student in his class.

Which of the following completes the sentence above?

Aşağıdakilerden hangisi yukarıdaki cümleyi doğru olarak tamamlar?

- A) very
- B) more
- C) the
- D) much
- E) most

2. Jane : Is there money in the wallet?
John : Yes, there is.

Which of the following completes the dialogue above?

Aşağıdakilerden hangisi yukarıdaki konuşmayı doğru olarak tamamlar?

- A) very
- B) many
- C) a few
- D) any
- E) either

3. Ali : How money is there in your pocket?
Can : There is 20 TL.

Which of the following completes the dialogue above?

Aşağıdakilerden hangisi yukarıdaki konuşmayı doğru olarak tamamlar?

- A) any
- B) more
- C) some
- D) much
- E) many

4. This is the expensive hotel I have ever stayed in.

Which of the following completes the sentence above?

Aşağıdakilerden hangisi yukarıdaki cümleyi doğru olarak tamamlar?

- A) more
- B) worst
- C) many
- D) much
- E) most

5. Terry : How was the film last night?
Jane : Oh, terrible. It was film I have ever seen.

Which of the following completes the dialogue above?

Aşağıdakilerden hangisi yukarıdaki konuşmayı doğru olarak tamamlar?

- A) worse
- B) the worst
- C) the best
- D) better
- E) bad

6. I at eight o'clock tomorrow morning.

Which of the following completes the sentence above?

Aşağıdakilerden hangisi yukarıdaki cümleyi doğru olarak tamamlar?

- A) got up
- B) am going to get up
- C) get up
- D) getting up
- E) have got up

7. We sang songs at the party.

Which of the following completes the sentence above?

Aşağıdakilerden hangisi yukarıdaki cümleyi doğru olarak tamamlar?

- A) a lot
- B) much
- C) more than
- D) a few
- E) a little

B

2012 3D 0103-B

8. İstanbul is than Ankara.

Which of the following completes the sentence above?

Aşağıdakilerden hangisi yukarıdaki cümleyi doğru olarak tamamlar?

- A) larger
- B) cold
- C) taller
- D) large
- E) big

9. Sam : How bananas are there in the basket?
Jack : There are a few.

Which of the following completes the dialogue above?

Aşağıdakilerden hangisi yukarıdaki konuşmayı doğru olarak tamamlar?

- A) much
- B) some
- C) any
- D) many
- E) more

10. The concert had just finished Sally arrived.

Which of the following completes the sentence above?

Aşağıdakilerden hangisi yukarıdaki cümleyi doğru olarak tamamlar?

- A) where
- B) whether
- C) when
- D) while
- E) that

11. Tom : Here is Sue. Ask her where John is.
Mike : Where John?
Sue : He is in the classroom.

Which of the following completes the dialogue above?

Aşağıdakilerden hangisi yukarıdaki konuşmayı doğru olarak tamamlar?

- A) is
- B) did
- C) has been
- D) does
- E) was

12. Sally : Is the cat sleeping at the moment?
Tim : No it isn't. But it usually on the sofa.

Which of the following completes the dialogue above?

Aşağıdakilerden hangisi yukarıdaki konuşmayı doğru olarak tamamlar?

- A) slept
- B) sleeps
- C) has slept
- D) sleeping
- E) sleep

13. Peter to music last night.

Which of the following completes the sentence above?

Aşağıdakilerden hangisi yukarıdaki cümleyi doğru olarak tamamlar?

- A) will listen
- B) is going to listen
- C) listen
- D) have listened
- E) listened

14. He said, "I can swim well."
He said that swim well.

Which of the following completes the sentence above?

Aşağıdakilerden hangisi yukarıdaki cümleyi doğru olarak tamamlar?

- A) he can
- B) he could
- C) I could
- D) he was able to
- E) I can

15. Carol : What..... Jill at the moment ?
Jill's mother : She is having a shower.

Which of the following completes the dialogue above?

Aşağıdakilerden hangisi yukarıdaki konuşmayı doğru olarak tamamlar?

- A) does / do
- B) was / doing
- C) is / doing
- D) has / done
- E) is / do

2012 3D 0103-B

16. Sandy is than Brenda.

Which of the following completes the sentence above?

Aşağıdakilerden hangisi yukarıdaki cümleyi doğru olarak tamamlar?

- A) beautiful
- B) the least beautiful
- C) the most beautiful
- D) most beautiful
- E) more beautiful

17. They are playing football in the garden

.....

Which of the following completes the sentence above?

Aşağıdakilerden hangisi yukarıdaki cümleyi doğru olarak tamamlar?

- A) now
- B) yesterday
- C) last night
- D) tomorrow
- E) next year

18. Are apples?

Which of the following completes the sentence above?

Aşağıdakilerden hangisi yukarıdaki cümleyi doğru olarak tamamlar?

- A) those
- B) this
- C) when
- D) then
- E) why

19. Mike : Are these apples oranges?
Bob : They are apples.

Which of the following completes the dialogue above?

Aşağıdakilerden hangisi yukarıdaki konuşmayı doğru olarak tamamlar?

- A) a
- B) and
- C) but
- D) an
- E) or

20. Ito swim when I was six.

Which of the following completes the sentence above?

Aşağıdakilerden hangisi yukarıdaki cümleyi doğru olarak tamamlar?

- A) should learn
- B) learn
- C) had learnt
- D) have learnt
- E) am learning

SEÇMELİ DİL VE ANLATIM 7

B

2012 3D 0103-B

1. Bir yazarın yazdığı, gördüğü ve incelediği yerlerden edindiği bilgi, görgü ve izlenimleri yansıtan yazılara ne ad verilir?

A) Makale
B) Roman
C) Gezi yazısı
D) Fıkra
E) Anı

2. Sanatta, bilimde, politikada veya başka alanlarda tanınmış kişilerin yaşamlarını anlatan yazı türüne ne ad verilir?

A) Biyografi
B) Anı
C) Günce
D) Monografi
E) Fıkra

3. Aşağıdakilerden hangisi, Maupassant tarzı hikâyenin özelliklerinden biri değildir?

A) Çok belirgin bir giriş, gelişme ve sonuç bölümlerini içermesi
B) Hayatın kusurlu ve üzüntülü taraflarının öne çıkarılması
C) Okuyucunun merak duygusunu sürekli canlı tutması
D) Tamamen okuyucunun hayal gücüne bırakılması
E) Olay örgüsü üzerine kurulması

4. Aşağıdakilerden hangisi Türk tiyatrosundaki başarılı epik deneme örneğidir?

A) Müfettiş
B) Battal Gazi Destanı
C) Keşanlı Ali Destanı
D) Emekli
E) Yangın Yerinde Orkideler

5. Çağdaş tiyatro tekniğine uygun olarak ülkemizde yazılan ilk önemli eser aşağıdakilerden hangisidir?

A) Emekli
B) Cimri
C) Figaro'nun Düşünü
D) Müfettiş
E) Şair Evlenmesi

6. "Lüküs Hayat" adlı operetin yazarı aşağıdakilerden hangisidir?

A) Muhsin Ertuğrul
B) Cemal Reşit Bey
C) Şinasi
D) Haldun Taner
E) Ahmet Kutsi Tecer

7. Aşağıdaki yazarlardan hangisi, fablın çocuklarca yanlış yorumlandığını ileri sürerek eğitimde kullanılmasına karşı çıkmıştır?

A) Jean Jack Rousseau
B) Fontane
C) Hebbel
D) Schiller
E) Kleist

8. Aşağıdakilerden hangisi Türk kültürüne ait başlıca halk tiyatrosu türlerinden biri değildir?

A) Mani
B) Meddah
C) Köy seyirlik oyunları
D) Orta oyunu
E) Karagöz

9. Aşağıdakilerden hangisi halk hikayeleri ile destanların birbirlerinden ayrıldığı noktalar arasında yer almaz?

A) Anlatı tümüyle düz yazı olarak sürer.
B) Araya serpiştirilen türküler sazla söylenir.
C) Toplum katları arasındaki çatışmalar dile getirilir.
D) Olağanüstü öğeler azdır.
E) Sadece aşk serüvenleri anlatılır.

10. Pişekar ve Kavuklu hangi oyun türünün baş kişileridir?

A) Karagöz
B) Orta oyunu
C) Meddah
D) Komedi
E) Köy seyirlik oyunu

B

2012 3D 0103-B

11. Aşağıdakilerden hangisi tragedyanın özelliklerinden biri değildir?

- A) İlk örnekleri eski Yunan edebiyatında görülür.
- B) Eserin üç birlik kuralına uygun olması gerekir.
- C) Monolog ve tiradlara çokça yer verilir.
- D) 18.yüzyılda klasisizm akımı döneminde Fransa'da yeniden canlanmıştır.
- E) Öldürme, yaralama gibi olaylara sahnede, herkesin gözü önünde gerçekçi biçimde yer verilir.

12. Aşağıdakilerden hangisi Milli Edebiyat Akımı dönemi özellikleri arasında yer almaz?

- A) Sözlü gelenek ürünü olan masal, destan ve halk hikayeleri yeniden canlandırılmak istenmiştir.
- B) Edebiyatın köklerini eski Yunan edebiyatı ve Yunan mitolojisiyle uyumlaştırmak istemişlerdir.
- C) Anadolu'yu gündeme taşımışlardır.
- D) Yerli konulara önem verilmiştir.
- E) Romanlarda her kesimden halkı anlatmak istemişlerdir.

13. Türk masallarını derleme, yayımlama ve inceleme çalışmaları ne zaman yoğunlaşmıştır?

- A) Cumhuriyet
- B) Tanzimat
- C) Meşrutiyet
- D) Fetret
- E) Islahat

14. Kahramanları bitkiler, cansız varlıklar ve özellikle hayvanlar olan ve ders verme amacı güden öğretici nitelikteki öykülere ne ad verilir?

- A) Fıkra
- B) Öykü
- C) Masal
- D) Fabl
- E) Deneme

15. Oğuz Atay'ın bilinçakımı tekniğini başarıyla uyguladığı romanı, aşağıdakilerden hangisidir?

- A) Her Gece Bodrum
- B) Büyük Gözaltı
- C) Yaralısin
- D) Tutunamayanlar
- E) Aylak Adam

16. Bu tiyatronun göze çarpan yönü kalıplaşmış gerçeklere karşı çıkmak, tabiattan ve mantıktan uzaklaşmak ve insanı düşündürmektir. Az olay ve sözle önemli şeyler anlatmak istenir. Bu çeşit tiyatro eserleri semboller, bilmece ve saçma tasarımlarla doludur.

Yukarıda anlatılan tiyatro türü aşağıdakilerden hangisidir?

- A) Meddah
- B) Operet
- C) Karagöz
- D) Epik tiyatro
- E) Absürd tiyatro

17. Çehov tarzı da denilen durum hikâyesinin Türk edebiyatındaki ilk temsilcisi aşağıdakilerden hangisidir?

- A) Pertev Naili Boratav
- B) Memduh Şevket Esendal
- C) Sait Faik Abasıyanık
- D) Eflatun Cem Güney
- E) Tahir Alangu

18. Aşağıdakilerden hangisi roman sanatının ilk başarılı örneği sayılır?

- A) Tom Sawyer'in Maceraları
- B) Vahşetin Çağırısı
- C) Don Kişot
- D) Moby Dick
- E) Uçurum Halkı

19. Aşağıdakilerden hangisi, postmodernist romanların özelliklerinden biri değildir?

- A) Gerçekçi bir romanın tersine, romanın uydurma ve kumaca olduğunun altının çizilmesi
- B) Sanatın bir tür oyun olarak görülmesi
- C) Çok sesliliğin ve çoğulculuğun önem kazanması
- D) Düzensiz sözcük ve imgelerin kullanılması
- E) Farklı anlatım tekniklerine aynı metin içinde yer verilmesi

20. Masalları bastırılmış isteklerin düş biçiminde ortaya çıkması şeklinde açıklayan araştırmacı, aşağıdakilerden hangisidir?

- A) Vygotsky
- B) Bloom
- C) Sigmund Freud
- D) Piaget
- E) Bruner

SINAVDA UYGULANACAK KURALLAR

1. Sınav süresince görevlilerle konuşmak ve soru sormak yasaktır. Aynı şekilde görevlilerin de öğrencilerle yakından ve alçak sesle konuşmaları yasaktır. Yanınızda ve sıranızda dersle ilgili kitap not vb. bulundurmamak yasaktır. Sınav sırasında kopya yapan, yapmaya teşebbüs eden, kopya veren, kopya yapılmasına yardım edenlerin kimlikleri BİREYSEL SINAV İPTAL TUTANAĞINA yazılacak ve bu öğrencilerin sınavları geçersiz sayılacaktır. Görevliler kopya yapmaya veya vermeye kalkışanları uyarmak zorunda değildir, sorumluluk size aittir.
Sınavda yetki verilmiş görevliler, bu salondaki sınavın kurallara uygun biçimde yapılmadığını, toplu kopya girişiminde bulunulduğunu raporlarında bildirdikleri veya üniversite sınav merkezince yapılan incelemeler sonucu toplu kopya yapıldığı saptandığı takdirde, Anadolu Üniversitesinin yetkili organları bu salonda sınava giren öğrencilerin tümünün sınavını geçersiz sayar.
2. Öğrenciler sınav sırasında görevlilerin her türlü uyarılarına uymak zorundadır. Gerekğinde görevliler oturduğunuz yerleri değiştirebilir. Sınavınızın geçerli sayılması, her şeyden önce sınav kurallarına uymanıza bağlıdır. Kurallara aykırı davranışta bulunanların ve yapılacak uyarılara uymayanların kimlikleri BİREYSEL SINAV İPTAL TUTANAĞINA yazılacak ve sınavları geçersiz sayılacaktır.
3. Sınav sırasında herhangi bir nedenle dışarı çıkmak yasaktır. Sınavın başlamasını izleyen ilk 30 dakika ve sınav süresinin son 5 dakikası içinde, sınavlarını tamamlasalar bile hiçbir öğrencinin salondan çıkmasına izin verilmeyecektir. Sınavın başlamasını izleyen ilk 15 dakikadan sonra hiç bir öğrenci sınava alınamaz.
4. Biraz sonra soru kitapçıkları dağıtılacaktır. Cevaplamaya geçmeden önce size verilecek soru kitapçığının üzerinde ayrılan yere, adınızı, soyadınızı, öğrenci numaranızı ve bu salonun numarasını yazınız. Sınav sonunda soru kitapçıkları toplanacak ve sınav merkezinde tek tek incelenecektir. Soru Kitapçığının bir tek sayfası eksik çıksa bile sınavınız geçersiz sayılacaktır.
5. Size verilen Cevap Kâğıdının üzerinde yazan numara ve ismin size ait olduğunu kontrol ediniz. Cevap Kâğıdı size ait değilse, görevlileri uyarıp size ait Cevap Kâğıdını alınız. Daha sonra Cevap Kâğıdı üzerinde ayrılmış olan yerlere öğrenci numaranızı ve test grubunuzu kodlayınız, adınızı soyadınızı yazınız ve ilgili yeri imzalayınız.
6. Cevap Kâğıdına yazılacak her türlü yazı, rakam ve yapılacak işaretlemeler için siyah kurşun kalem kullanılacaktır. Tükenmez kalem veya dolmakalem kesinlikle kullanılmayacaktır. Cevapların tümü CEVAP KÂĞIDINA İŞARETLENECEKTİR. Soru Kitapçıkları üzerine yapılan işaretlemeler kesinlikle değerlendirilmez. Her dersin cevabı, o dersin isminin yazılı olduğu sütuna işaretlenmelidir. Yanlış sütuna yapacağınız işaretlemeler kesinlikle değerlendirilmez.
7. Soru Kitapçığının sayfalarındaki boş yerleri müsvedde yapmak için kullanabilirsiniz. Başka bir kâğıdı müsvedde olarak kullanmak yasaktır. Bu tür işlemleri yapanların sınavları geçersiz sayılır.
8. Öğrencilerin sorulara verdikleri yanıtları herhangi bir yere yazmaları ve bunu sınav salonundan dışarıya çıkarmaları yasaktır. Bu kurala uymayanların sınavları geçersiz sayılır.
9. Sınav sırasında öğrencilerin birbirinden kalem, silgi vb. şeyleri istemesi kesinlikle yasaktır. Yasağa uymayanların sınavı geçersiz sayılır.
10. Sınav sırasında hesap makinesi kullanılabilir. Ancak, hesap makinesinin sınav sırasında ödünç alınması, verilmesi ve değiştirilmesi yasaktır. (Data Bank vb. gibi özel elektronik donanımlar kullanılamaz.) Bu tür davranışlarda bulunanların sınavları geçersiz sayılır.
11. Öğrenciler sınava gelirken telsiz, cep telefonu, çağrı cihazı vb. iletişim araçları ile görüntü kaydetmeye yarayan fotoğraf makinesi, kamera vb. araçları getirmemeleri konusunda sınava giriş belgelerinde uyarılmışlardır. Buna rağmen yanlarında bu tür cihazları getirenlerin, bunları sınav sonrasında almak üzere salon başkanına teslim etmeleri gerekir. Bu cihazları sınav salonunda yanlarında bulunduran öğrencilerin, cihazları kapalı bile olsa, o oturumdaki sınavı geçersiz sayılacaktır. Bu cihazların kaybolmasından Üniversitemiz sorumlu olmayacaktır.
12. Biraz sonra dağıtılacak olan soru kitapçığında test ile ilgili açıklamalar yazılıdır. Bu açıklamaları okumadan ve size "SINAV BAŞLAMIŞTIR" denmeden soruları cevaplamaya başlamayınız.

SINAVLARINIZDA BAŞARILAR DİLERİZ.